

## Question Paper Preview

### Notations :

- Options shown in green color and with ✓ icon are correct.
- Options shown in red color and with ✗ icon are incorrect.

Question Paper Name:	ASSISTANT TEACHER PRIMARY 14th Nov 2018 Shift 3
Subject Name:	ASSISTANT TEACHER PRIMARY
Creation Date:	2018-11-15 10:39:12
Duration:	120
Total Marks:	200
Display Marks:	Yes
Share Answer Key With Delivery Engine:	Yes
Actual Answer Key:	Yes
Calculator:	None
Magnifying Glass Required?:	No
Ruler Required?:	No
Eraser Required?:	No
Scratch Pad Required?:	No
Rough Sketch/Notepad Required?:	No
Protractor Required?:	No
Show Watermark on Console?:	No
Highlighter:	No
Auto Save on Console?:	No

### Mental Ability

Group Number :	1
Group Id :	16265381
Group Maximum Duration :	0
Group Minimum Duration :	0
Revisit allowed for view? :	No
Revisit allowed for edit? :	No
Break time:	0
Group Marks:	20
Revisit allowed for group Instructions? :	Yes
Maximum Instruction Time:	0
Minimum Instruction Time:	0

### Mental Ability

Section Id :	16265381
Section Number :	1
Section type :	Online
Mandatory or Optional:	Mandatory
Number of Questions:	20
Number of Questions to be attempted:	20
Section Marks:	20

Display Number Panel:

Yes

Group All Questions:

No

Sub-Section Number:

1

Sub-Section Id:

162653106

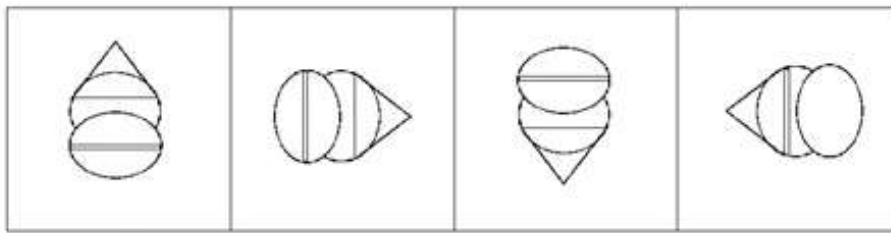
Question Shuffling Allowed :

Yes

Question Number : 1 Question Id : 1626531625 Question Type : MCQ Option Shuffling : Yes Display Question Number : Yes  
Single Line Question Option : No Option Orientation : Vertical

Correct Marks : 1 Wrong Marks : 0.25

Select the figure that is different from the other three.



A

B

C

D

Options :

1. ✖ A

2. ✖ B

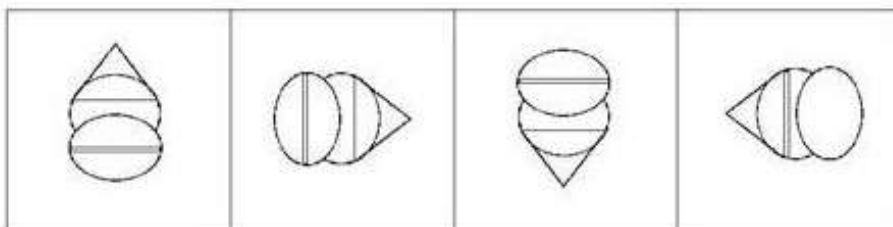
3. ✖ C

4. ✔ D

Question Number : 1 Question Id : 1626531625 Question Type : MCQ Option Shuffling : Yes Display Question Number : Yes  
Single Line Question Option : No Option Orientation : Vertical

Correct Marks : 1 Wrong Marks : 0.25

वह आकृति चुनें जो अन्य तीनों से भिन्न है।



A

B

C

D

Options :

1. ✖ A

2. ✖ B

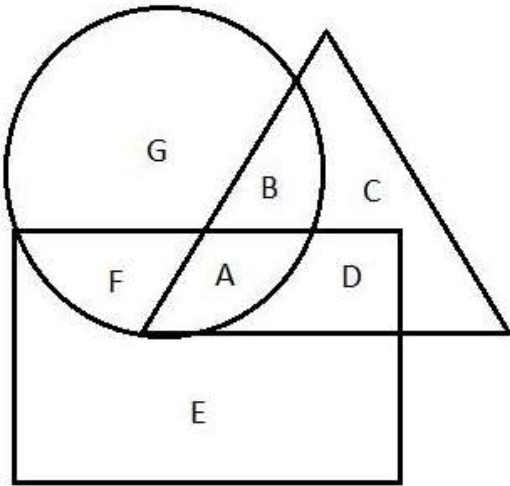
3. ✖ C

4. ✔ D

Question Number : 2 Question Id : 1626531626 Question Type : MCQ Option Shuffling : Yes Display Question Number : Yes  
Single Line Question Option : No Option Orientation : Vertical

Correct Marks : 1 Wrong Marks : 0.25

In the figure given below, the triangle represents women, rectangle represents allopathic doctors, and the circle represents private medical practitioners. Select the letter that represents non-allopathic private medical practitioners who are NOT women.



Options :

1. ✖ A

2. ✔ G

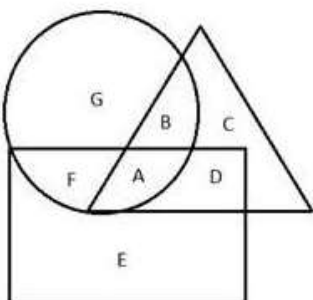
3. ✖ E

4. ✖ F

Question Number : 2 Question Id : 1626531626 Question Type : MCQ Option Shuffling : Yes Display Question Number : Yes  
Single Line Question Option : No Option Orientation : Vertical

Correct Marks : 1 Wrong Marks : 0.25

नीचे दी गई आकृति में, त्रिभुज महिलाओं का प्रतिनिधित्व करता है, आयत एलोपैथिक डाक्टरों का प्रतिनिधित्व करता है और वृत्त निजी चिकित्सकों का प्रतिनिधित्व करता है। वह अक्षर चुनें जो ऐसे गैर-एलोपैथिक निजी चिकित्सकों का प्रतिनिधित्व करता है जो महिलाएं नहीं हैं।



Options :

1. ✖ A

2. ✔ G

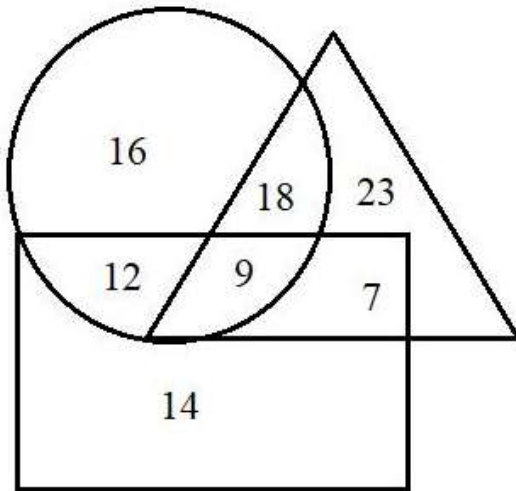
3. ✖ E

4. ✖ F

Question Number : 3 Question Id : 1626531627 Question Type : MCQ Option Shuffling : Yes Display Question Number : Yes  
Single Line Question Option : No Option Orientation : Vertical

Correct Marks : 1 Wrong Marks : 0.25

The Venn diagram given below shows the number of students of a college who graduated this year. The triangle represents men, rectangle represents science graduates and the circle represents employed persons. What is the number of employed non-science male graduates?



Options :

1. ✖ 12

2. ✖ 9

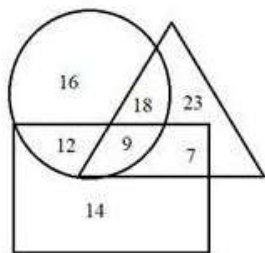
3. ✔ 18

4. ✖ 14

Question Number : 3 Question Id : 1626531627 Question Type : MCQ Option Shuffling : Yes Display Question Number : Yes  
Single Line Question Option : No Option Orientation : Vertical

Correct Marks : 1 Wrong Marks : 0.25

नीचे दिया गया वेन आरेख इस वर्ष स्नातक हुए एक कालेज के छात्रों की संख्या दर्शाता है। त्रिभुज पुरुषों का प्रतिनिधित्व करता है, आयत विज्ञान स्नातकों का प्रतिनिधित्व करता है और वृत्त नियुक्त व्यक्तियों का प्रतिनिधित्व करता है। नियुक्त गैर - विज्ञान पुरुष स्नातकों की संख्या कितनी है?



Options :

1. ✖ 12

2. ✖ 9

3. ✔ 18

4. ✖ 14

Question Number : 4 Question Id : 1626531628 Question Type : MCQ Option Shuffling : Yes Display Question Number : Yes  
Single Line Question Option : No Option Orientation : Vertical

Correct Marks : 1 Wrong Marks : 0.25

What is the total number of tringles in the given figure?



Note: For this question, discrepancy is found in question/answer. So, this question is ignored for all candidates.

Options :

1. 5

2. 6

3. 7

4. 8

Question Number : 4 Question Id : 1626531628 Question Type : MCQ Option Shuffling : Yes Display Question Number : Yes  
Single Line Question Option : No Option Orientation : Vertical

Correct Marks : 1 Wrong Marks : 0.25

नीचे दी गई आकृति में कुल कितने त्रिभुज हैं?



Note: For this question, discrepancy is found in question/answer. So, this question is ignored for all candidates.

Options :

1. 5

2. 6

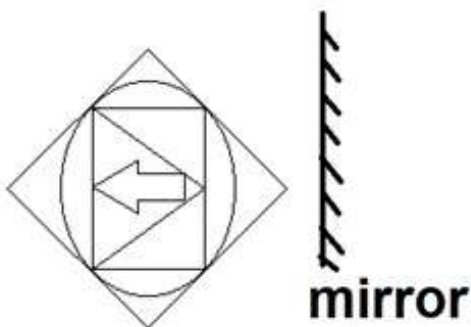
3. 7

4. 8

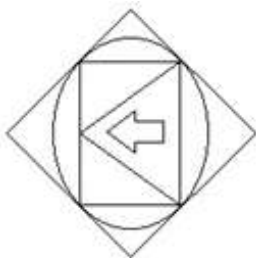
Question Number : 5 Question Id : 1626531629 Question Type : MCQ Option Shuffling : Yes Display Question Number : Yes  
Single Line Question Option : No Option Orientation : Vertical

Correct Marks : 1 Wrong Marks : 0.25

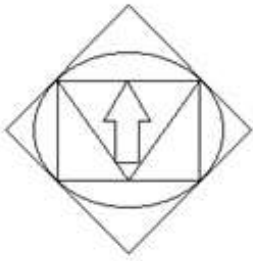
Select the correct mirror image of the given figure when a mirror is placed as shown below:



Options :



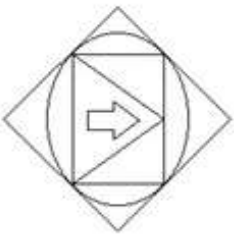
1. ✖



2. ✖



3. ✔

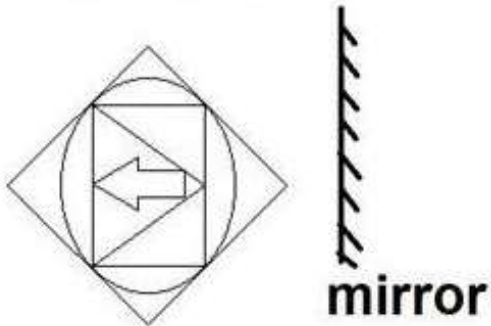


4. ✖

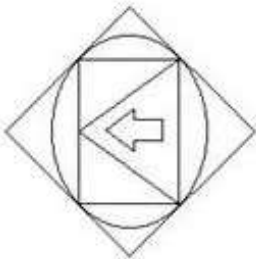
Question Number : 5 Question Id : 1626531629 Question Type : MCQ Option Shuffling : Yes Display Question Number : Yes  
Single Line Question Option : No Option Orientation : Vertical

Correct Marks : 1 Wrong Marks : 0.25

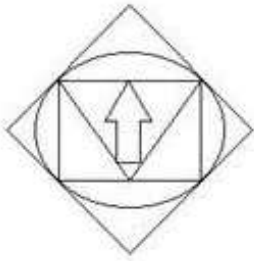
एक दर्पण नीचे दर्शाए गए रूप में रखा जाता है, दी गई आकृति की सही दर्पण छवि चुनें :



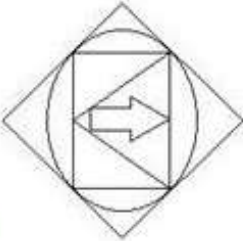
Options :



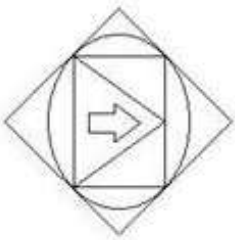
1. ✖



2. ✖



3. ✔



4. ✖

Question Number : 6 Question Id : 1626531630 Question Type : MCQ Option Shuffling : Yes Display Question Number : Yes  
Single Line Question Option : No Option Orientation : Vertical

Correct Marks : 1 Wrong Marks : 0.25


Select the Venn diagram that correctly represents the classes below:

Fruits, Juicy Fruits, Grapes

Options :



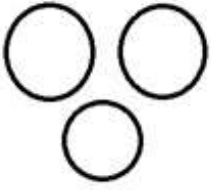
1. ✖



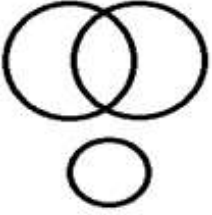
2. ✔



3. ✖



4. ✖



Question Number : 6 Question Id : 1626531630 Question Type : MCQ Option Shuffling : Yes Display Question Number : Yes  
Single Line Question Option : No Option Orientation : Vertical

Correct Marks : 1 Wrong Marks : 0.25

वह वेन आरेख चुनें जो नीचे दिए गए वर्ग का सही ढंग से प्रतिनिधित्व करता है:


फल, रसदार फल, अंगूर

Options :

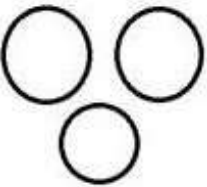
1. ✖



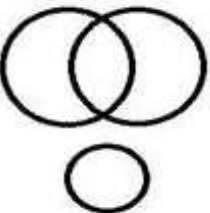
2. ✔



3. ✖



4. ✖



Question Number : 7 Question Id : 1626531631 Question Type : MCQ Option Shuffling : Yes Display Question Number : Yes  
Single Line Question Option : No Option Orientation : Vertical

Correct Marks : 1 Wrong Marks : 0.25

Indu went from point A to point B. First, she went 300 metre towards West. Then she went 500 metre after turning towards left. From there, she turned right and went 200 metre to reach point B. To which direction is point A located with respect to point B?

Options :

1. ✖ South-East
2. ✔ North-East
3. ✖ North-West
4. ✖ South-West

Question Number : 7 Question Id : 1626531631 Question Type : MCQ Option Shuffling : Yes Display Question Number : Yes  
Single Line Question Option : No Option Orientation : Vertical

Correct Marks : 1 Wrong Marks : 0.25

इन्दु एक स्थान A से दूसरे स्थान B पर गई। पहले वह पश्चिम की ओर 300 मीटर गई। इसके बाद वह बायीं ओर मुड़कर 500 मीटर गई। वहां से वह दायीं ओर मुड़ी और 200 मीटर चलकर स्थान B पर पहुंची। स्थान B के सन्दर्भ में स्थान A किस दिशा में स्थित है?

Options :

1. ✖ दक्षिण - पूर्व
2. ✔ उत्तर - पूर्व
3. ✖ उत्तर - पश्चिम
4. ✖ दक्षिण - पश्चिम

Question Number : 8 Question Id : 1626531632 Question Type : MCQ Option Shuffling : Yes Display Question Number : Yes  
Single Line Question Option : No Option Orientation : Vertical

Correct Marks : 1 Wrong Marks : 0.25

Showing a photograph of a girl, Mukesh said, "This girl is my mother's father-in-law's only grandson's daughter".

How is the girl in the photograph related to Mukesh?

Options :

1. ✖ Sister
2. ✔ Daughter

3. ✖ Cousin

4. ✖ Niece

Question Number : 8 Question Id : 1626531632 Question Type : MCQ Option Shuffling : Yes Display Question Number : Yes  
Single Line Question Option : No Option Orientation : Vertical

Correct Marks : 1 Wrong Marks : 0.25

एक लड़की का फोटो दिखाते हुए मुकेश ने कहा, "यह लड़की मेरी माँ के ससुर के इकलौते पोते की बेटी है"।  
फोटो में लड़की मुकेश से किस रूप में संबंधित है?

Options :

1. ✖ बहन

2. ✔ बेटी

3. ✖ चचेरा / फुफेरा / ममेरा बहन

4. ✖ भतीजी / भानजी

Question Number : 9 Question Id : 1626531633 Question Type : MCQ Option Shuffling : Yes Display Question Number : Yes  
Single Line Question Option : No Option Orientation : Vertical

Correct Marks : 1 Wrong Marks : 0.25

Kunal said to Meenal, "Your husband's father's daughter's only brother is my mother's husband".

How is Kunal related to Meenal?

Options :

1. ✖ Husband

2. ✔ Son

3. ✖ Nephew

4. ✖ Brother-in-law

Question Number : 9 Question Id : 1626531633 Question Type : MCQ Option Shuffling : Yes Display Question Number : Yes  
Single Line Question Option : No Option Orientation : Vertical

Correct Marks : 1 Wrong Marks : 0.25

कुनाल ने मिनल से कहा, "आपके पति के पिता की बेटी का इकलौता भाई मेरी माँ का पति है"।  
कुनाल मिनल से किस रूप में संबंधित है?

Options :

1. ✖ पति

2. ✓ बेटा

3. ✗ भतीजा / भाजना

4. ✗ साला / बहनोई / साढ़ू

Question Number : 10 Question Id : 1626531634 Question Type : MCQ Option Shuffling : Yes Display Question Number : Yes  
Single Line Question Option : No Option Orientation : Vertical

Correct Marks : 1 Wrong Marks : 0.25

This question comprises two statements followed by two conclusions labelled I and II. Assume that the information provided is true even if it appears at variance from commonly known facts. Read the statements and decide whether any of the conclusions logically and definitely follow(s) from the statements.

**Statements:**

Statement I: All vans are cars.

Statement II: Some cars are bikes

**Conclusions:**

I: Some cars are vans.

II: Some bikes are cars.

**Options :**

1. ✗ Only conclusion I follows.

2. ✗ Only conclusion II follows.

3. ✗ Neither conclusion follows.

4. ✓ Both the conclusions follow.

Question Number : 10 Question Id : 1626531634 Question Type : MCQ Option Shuffling : Yes Display Question Number : Yes  
Single Line Question Option : No Option Orientation : Vertical

Correct Marks : 1 Wrong Marks : 0.25

इस प्रश्न में दो कथन I और II तथा दो निष्कर्ष I और II दिए गए हैं। आपको दी गई जानकारी को सत्य मानना है, भले ही वह सामान्यतया ज्ञात तथ्यों से अलग प्रतीत होते हों। कथनों को पढ़ें और फिर निर्णय लीजिए कि क्या कोई निष्कर्ष तर्कसंगत रूप से और निश्चित रूप से इन कथनों का अनुसरण करता है।

**कथन:**

कथन I: सभी वैन कारें हैं।

कथन II: कुछ कारें बाइक हैं।

**निष्कर्ष I:** कुछ कारें वैन हैं।

**निष्कर्ष II:** कुछ बाइकें कारें हैं।

**Options :**



1. ✖ केवल निष्कर्ष I अनुसरण करता है।
2. ✖ केवल निष्कर्ष II अनुसरण करता है।
3. ✖ कोई भी निष्कर्ष अनुसरण नहीं करता है।
4. ✔ दोनों निष्कर्ष अनुसरण करते हैं।

Question Number : 11 Question Id : 1626531635 Question Type : MCQ Option Shuffling : Yes Display Question Number : Yes  
Single Line Question Option : No Option Orientation : Vertical  
Correct Marks : 1 Wrong Marks : 0.25

This question comprises two statements followed by two conclusions labelled I and II. Assume that the information provided is true even if it appears at variance from commonly known facts. Read the statements and decide whether any of the conclusions logically and definitely follow(s) from the statements.

**Statement I:** All bugs are birds.  
**Statement II:** No bird is a tree.

**Conclusion I:** Some trees are bugs.  
**Conclusion II:** No tree is a bug.

Options :

1. ✖ Only conclusion I follows.
2. ✔ Only conclusion II follows.
3. ✖ Neither conclusion follows.
4. ✖ Both the conclusions follow.

Question Number : 11 Question Id : 1626531635 Question Type : MCQ Option Shuffling : Yes Display Question Number : Yes  
Single Line Question Option : No Option Orientation : Vertical  
Correct Marks : 1 Wrong Marks : 0.25

इस प्रश्न में दो कथन I और II तथा दो निष्कर्ष I और II दिए गए हैं। आपको दी गई जानकारी को सत्य मानना है, भले ही वह सामान्यतया ज्ञात तथ्यों से अलग प्रतीत होते हों। कथनों को पढ़ें और फिर निर्णय लीजिए कि क्या कोई निष्कर्ष तर्कसंगत रूप से और निश्चित रूप से इन कथनों का अनुसरण करता है।

**कथन I:** सभी कीड़े पक्षियाँ हैं।  
**कथन II:** कोई पक्षी पेड़ नहीं है।

**निष्कर्ष I:** कुछ पेड़ कीड़े हैं।  
**निष्कर्ष II:** कोई भी पेड़ कीड़ा नहीं है।

Options :

1. ✖ केवल निष्कर्ष । अनुसरण करता है।
2. ✔ केवल निष्कर्ष ॥ अनुसरण करता है।
3. ✖ कोई भी निष्कर्ष अनुसरण नहीं करता है।
4. ✖ दोनों निष्कर्ष अनुसरण करते हैं।

Question Number : 12 Question Id : 1626531636 Question Type : MCQ Option Shuffling : Yes Display Question Number : Yes  
Single Line Question Option : No Option Orientation : Vertical

Correct Marks : 1 Wrong Marks : 0.25

Select the term that is related to term III in the same way as term II is related to term I.

Ocean : Island :: Desert : ?

Options :

1. ✔ Oasis
2. ✖ Camel
3. ✖ Orchard
4. ✖ Dust storms

Question Number : 12 Question Id : 1626531636 Question Type : MCQ Option Shuffling : Yes Display Question Number : Yes  
Single Line Question Option : No Option Orientation : Vertical

Correct Marks : 1 Wrong Marks : 0.25

वह शब्द चुनें जो शब्द III से उसी रूप में संबंधित है जिस रूप में शब्द II शब्द II से संबंधित है।  
महासागर : द्वीप :: रेगिस्तान : ?

Options :

1. ✔ मरुद्वीप
2. ✖ ऊंट
3. ✖ उपवन
4. ✖ धूलभरी आंधी

Question Number : 13 Question Id : 1626531637 Question Type : MCQ Option Shuffling : Yes Display Question Number : Yes  
Single Line Question Option : No Option Orientation : Vertical

Correct Marks : 1 Wrong Marks : 0.25

Select the term that is related to term III in the same way as term II is related to term I.

Authentic : Genuine :: Dubious :?

Options :

1. ✖ Imitation

2. ✖ Radical

3. ✔ Doubtful

4. ✖ Primitive

Question Number : 13 Question Id : 1626531637 Question Type : MCQ Option Shuffling : Yes Display Question Number : Yes  
Single Line Question Option : No Option Orientation : Vertical

Correct Marks : 1 Wrong Marks : 0.25

वह शब्द चुनें जो शब्द III से उसी रूप में संबंधित है जिस रूप में शब्द II शब्द I से संबंधित है।  
प्रामाणिक : वास्तविक :: संदेहास्पद :?

Options :

1. ✖ नकल

2. ✖ मूल

3. ✔ संदिग्ध

4. ✖ प्राथमिक

Question Number : 14 Question Id : 1626531638 Question Type : MCQ Option Shuffling : Yes Display Question Number : Yes  
Single Line Question Option : No Option Orientation : Vertical

Correct Marks : 1 Wrong Marks : 0.25

If the sign '×' is interchanged with '÷' and '-' is interchanged with '+', then what will be the value of the expression below?

$$135 \times 3 \div 9 - 5 + 4$$

Options :

1. ✖ 14

2. ✖ 48

3. ✔ 6

4. ✖ 15

Question Number : 14 Question Id : 1626531638 Question Type : MCQ Option Shuffling : Yes Display Question Number : Yes  
Single Line Question Option : No Option Orientation : Vertical

Correct Marks : 1 Wrong Marks : 0.25

अगर चिह्न '×' को '÷' से परस्पर बदला जाता है और '-' को '+' से परस्पर बदला जाता है, तो निम्नलिखित समीकरण का मान क्या होगा?

$$135 \times 3 \div 9 - 5 + 4$$

Options :

1. ✖ 14

2. ✖ 48

3. ✔ 6

4. ✖ 15

Question Number : 15 Question Id : 1626531639 Question Type : MCQ Option Shuffling : Yes Display Question Number : Yes  
Single Line Question Option : No Option Orientation : Vertical

Correct Marks : 1 Wrong Marks : 0.25

Select the option that will fill in the blank and complete the given series correctly.

153, 136, 118, 99, 79, \_\_\_\_\_, 36

Options :

1. ✖ 56

2. ✔ 58

3. ✖ 60

4. ✖ 59

Question Number : 15 Question Id : 1626531639 Question Type : MCQ Option Shuffling : Yes Display Question Number : Yes  
Single Line Question Option : No Option Orientation : Vertical

Correct Marks : 1 Wrong Marks : 0.25

वह विकल्प चुनें जो दी गई श्रृंखला में रिक्त स्थान को भरकर उसे सही ढंग से पूरा करेगा.

153, 136, 118, 99, 79, \_\_\_\_\_ , 36

Options :

1. ✖ 56



2. ✓ 58

3. ✗ 60

4. ✗ 59

Question Number : 16 Question Id : 1626531640 Question Type : MCQ Option Shuffling : Yes Display Question Number : Yes  
Single Line Question Option : No Option Orientation : Vertical

Correct Marks : 1 Wrong Marks : 0.25

Five cadets are standing in a straight line facing commander. Parul is standing at one of the ends. Aarushi is standing to Zaima's immediate left. Tanishka has only one neighbour. Ridhima is standing next to neither Parul nor Aarushi. Who is standing exactly in the middle of the line?

Options :

1. ✗ Aarushi

2. ✗ Ridhima

3. ✗ Tanishka

4. ✓ Zaima

Question Number : 16 Question Id : 1626531640 Question Type : MCQ Option Shuffling : Yes Display Question Number : Yes  
Single Line Question Option : No Option Orientation : Vertical

Correct Marks : 1 Wrong Marks : 0.25

पांच कैडेट कमांडर की ओर मुंह करके एक सीधी कतार में खड़े हैं। पारुल एक छोर पर खड़ी है। आरुषि जैमा के बिल्कुल बाएं खड़ी है। तनिका का केवल एक पड़ोसी है। रिधिमा ना तो पारुल और ना ही आरुषि की बगल में खड़ी है। कतार के बिल्कुल बीच में कौन खड़ी है?

Options :

1. ✗ आरुषि

2. ✗ रिधिमा

3. ✗ तनिका

4. ✓ जैमा

Question Number : 17 Question Id : 1626531641 Question Type : MCQ Option Shuffling : Yes Display Question Number : Yes  
Single Line Question Option : No Option Orientation : Vertical

Correct Marks : 1 Wrong Marks : 0.25

Shakeel bought some shirts and trousers. 5 trousers cost the same as 7 shirts. If 4 trousers cost ₹4,200, what is the amount spent by Shakeel on buying 5 shirts and 3 trousers?

Options :

1. ✖ ₹ 6,750

2. ✖ ₹ 7,100

3. ✔ ₹ 6,900

4. ✖ ₹ 7,050

Question Number : 17 Question Id : 1626531641 Question Type : MCQ Option Shuffling : Yes Display Question Number : Yes  
Single Line Question Option : No Option Orientation : Vertical

Correct Marks : 1 Wrong Marks : 0.25

शकील ने कुछ शर्टें और पतलून खरीदीं। 5 पतलून की कीमत 7 शर्टों की कीमत के बराबर रही। अगर 4 पतलून की कीमत ₹ 4,200 है, तो शकील द्वारा 5 शर्ट और 3 ट्राउजर खरीदने पर कितनी राशि खर्च की गई?

Options :

1. ✖ ₹ 6,750

2. ✖ ₹ 7,100

3. ✔ ₹ 6,900

4. ✖ ₹ 7,050

Question Number : 18 Question Id : 1626531642 Question Type : MCQ Option Shuffling : Yes Display Question Number : Yes  
Single Line Question Option : No Option Orientation : Vertical

Correct Marks : 1 Wrong Marks : 0.25

There are 5 employees in a business firm. The sum of their present ages is 165 years. A new employee joins the firm, and the average age of all the employees comes down by 1 year. How old is the new employee?

Options :

1. ✖ 28 years

2. ✖ 32 years

3. ✔ 27 years

4. ✖ 30 years

Question Number : 18 Question Id : 1626531642 Question Type : MCQ Option Shuffling : Yes Display Question Number : Yes  
Single Line Question Option : No Option Orientation : Vertical

Correct Marks : 1 Wrong Marks : 0.25

एक व्यवसायिक फर्म में 5 कर्मचारी हैं। उनकी वर्तमान आयु का योग 165 वर्ष है। एक नया कर्मचारी फर्म में सेवाग्रहण करता है और सभी कर्मचारियों की औसत आयु 1 वर्ष कम हो जाती है। नये कर्मचारी की आयु कितनी है?

Options :

1. ✖ 28 वर्ष
2. ✖ 32 वर्ष
3. ✔ 27 वर्ष
4. ✖ 30 वर्ष

Question Number : 19 Question Id : 1626531643 Question Type : MCQ Option Shuffling : Yes Display Question Number : Yes  
Single Line Question Option : No Option Orientation : Vertical

Correct Marks : 1 Wrong Marks : 0.25

Select the option that does NOT belong to the group given below:

Table, Chair, Bed, Sofa, Desk, Desktop, Cot, Bench

Options :

1. ✖ Bed
2. ✔ Desktop
3. ✖ Sofa
4. ✖ Cot

Question Number : 19 Question Id : 1626531643 Question Type : MCQ Option Shuffling : Yes Display Question Number : Yes  
Single Line Question Option : No Option Orientation : Vertical

Correct Marks : 1 Wrong Marks : 0.25

वह विकल्प चुनें जो नीचे दिए गए समूह से संबंधित नहीं है:  
मेज, कुर्सी, बिस्तर, सोफा, डेस्क, डेस्कटॉप, पलंग, बेंच

Options :

1. ✖ बिस्तर
2. ✔ डेस्कटॉप
3. ✖ सोफा
4. ✖ पलंग

Question Number : 20 Question Id : 1626531644 Question Type : MCQ Option Shuffling : Yes Display Question Number : Yes  
Single Line Question Option : No Option Orientation : Vertical

Correct Marks : 1 Wrong Marks : 0.25

In a group of boys, Anil is taller than Sunil. Sunil is taller than Mukesh but not as tall as Purvesh. Purvesh is taller than Salil, but he is not the tallest in the group. Salil is not as tall as Mukesh.

Who is the second tallest boy in the given group?

Options :

1. ✖ Sunil
2. ✖ Anil
3. ✔ Purvesh
4. ✖ Mukesh

Question Number : 20 Question Id : 1626531644 Question Type : MCQ Option Shuffling : Yes Display Question Number : Yes  
Single Line Question Option : No Option Orientation : Vertical

Correct Marks : 1 Wrong Marks : 0.25

लड़कों के एक समूह में अनिल सुनिल से लम्बा है। सुनिल मुकेश से लम्बा है लेकिन पुर्वेश जितना लम्बा नहीं है। पुर्वेश सलिल से लम्बा है लेकिन वह समूह में सबसे लम्बा नहीं है। सलिल मुकेश जितना लम्बा नहीं है।

इस समूह में दूसरा सबसे लम्बा लड़का कौन है?

Options :

1. ✖ सुनिल
2. ✖ अनिल
3. ✔ पुर्वेश
4. ✖ मुकेश

#### General Awareness

Group Number :	2
Group Id :	16265382
Group Maximum Duration :	0
Group Minimum Duration :	0
Revisit allowed for view? :	No
Revisit allowed for edit? :	No
Break time:	0
Group Marks:	20
Revisit allowed for group Instructions? :	Yes
Maximum Instruction Time:	0
Minimum Instruction Time:	0

Section Id :	16265382
Section Number :	1
Section type :	Online
Mandatory or Optional:	Mandatory
Number of Questions:	20
Number of Questions to be attempted:	20
Section Marks:	20
Display Number Panel:	Yes
Group All Questions:	No

Sub-Section Number:	1
Sub-Section Id:	162653107
Question Shuffling Allowed :	Yes

Question Number : 21 Question Id : 1626531645 Question Type : MCQ Option Shuffling : Yes Display Question Number : Yes  
Single Line Question Option : No Option Orientation : Vertical

Correct Marks : 1 Wrong Marks : 0.25

As of 2018, the ancient city of Indus Valley Civilization Sutkagen Dor is situated in which of the following regions?

Options :

1. ✖ Gujarat
2. ✖ Haryana
3. ✖ Sindh
4. ✔ Makran Coast (Baluchistan)

Question Number : 21 Question Id : 1626531645 Question Type : MCQ Option Shuffling : Yes Display Question Number : Yes  
Single Line Question Option : No Option Orientation : Vertical

Correct Marks : 1 Wrong Marks : 0.25

यथा 2018 को , सिंधु घाटी सभ्यता का प्राचीन शहर सुत्कागेनडोर निम्नलिखित किस क्षेत्र में स्थित है?

Options :

1. ✖ गुजरात
2. ✖ हरियाणा
3. ✖ सिंध
4. ✔ मकरान तट (बलूचिस्तान)

Question Number : 22 Question Id : 1626531646 Question Type : MCQ Option Shuffling : Yes Display Question Number : Yes  
Single Line Question Option : No Option Orientation : Vertical

Correct Marks : 1 Wrong Marks : 0.25



Which of the following poets is known as 'Tuti-e-Hind' ('Parrot of India')?

Options :

1. ✖ Tansen
2. ✔ Amir Khusro
3. ✖ Zia Nakhshabi
4. ✖ Hasan Dehlavi

Question Number : 22 Question Id : 1626531646 Question Type : MCQ Option Shuffling : Yes Display Question Number : Yes  
Single Line Question Option : No Option Orientation : Vertical

Correct Marks : 1 Wrong Marks : 0.25

निम्नलिखित में से किस कवि को 'तुति-ए-हिंद' ('भारत का तोता') के रूप में जाना जाता है?

Options :

1. ✖ तानसेन
2. ✔ अमीर खुसरो
3. ✖ ज़िया नखशाबी
4. ✖ हसन दहलवी

Question Number : 23 Question Id : 1626531647 Question Type : MCQ Option Shuffling : Yes Display Question Number : Yes  
Single Line Question Option : No Option Orientation : Vertical

Correct Marks : 1 Wrong Marks : 0.25

Who was the first Viceroy of British India?

Options :

1. ✖ Lord Dalhousie
2. ✔ Lord Canning
3. ✖ Lord Mayo
4. ✖ Lord Dufferin

Question Number : 23 Question Id : 1626531647 Question Type : MCQ Option Shuffling : Yes Display Question Number : Yes  
Single Line Question Option : No Option Orientation : Vertical

Correct Marks : 1 Wrong Marks : 0.25

ब्रिटिश भारत का पहला वाइसराय कौन था?

Options :

1. ✖ लॉर्ड डलहौजी
2. ✔ लॉर्ड कैनिंग
3. ✖ लॉर्ड मायो
4. ✖ लॉर्ड डफरिन

Question Number : 24 Question Id : 1626531648 Question Type : MCQ Option Shuffling : Yes Display Question Number : Yes  
Single Line Question Option : No Option Orientation : Vertical

Correct Marks : 1 Wrong Marks : 0.25

As per Article \_\_\_\_\_ of the Constitution of India, the Vice President shall be the ex-Officio Chairman of Rajya Sabha.

Options :

1. ✔ 64
2. ✖ 71
3. ✖ 71(A)
4. ✖ 73

Question Number : 24 Question Id : 1626531648 Question Type : MCQ Option Shuffling : Yes Display Question Number : Yes  
Single Line Question Option : No Option Orientation : Vertical

Correct Marks : 1 Wrong Marks : 0.25

भारत के संविधान के अनुच्छेद \_\_\_\_\_ के अनुसार, उप राष्ट्रपति राज्य सभा के पदेन सभापति होंगे।

Options :

1. ✔ 64
2. ✖ 71
3. ✖ 71(A)
4. ✖ 73

Question Number : 25 Question Id : 1626531649 Question Type : MCQ Option Shuffling : Yes Display Question Number : Yes  
Single Line Question Option : No Option Orientation : Vertical

Correct Marks : 1 Wrong Marks : 0.25

As per the Election Commission of India, there are a total of \_\_\_\_\_ Assembly seats in the State of Chhattisgarh.

Options :

1. ✖ 70

2. ✖ 78

3. ✖ 85

4. ✔ 90

Question Number : 25 Question Id : 1626531649 Question Type : MCQ Option Shuffling : Yes Display Question Number : Yes  
Single Line Question Option : No Option Orientation : Vertical

Correct Marks : 1 Wrong Marks : 0.25

भारत के निर्वाचन आयोग के अनुसार, छत्तीसगढ़ राज्य में कुल \_\_\_\_\_ विधानसभा सीटें हैं।

Options :

1. ✖ 70

2. ✖ 78

3. ✖ 85

4. ✔ 90

Question Number : 26 Question Id : 1626531650 Question Type : MCQ Option Shuffling : Yes Display Question Number : Yes  
Single Line Question Option : No Option Orientation : Vertical

Correct Marks : 1 Wrong Marks : 0.25

Who was the first chairperson of the National Human Rights Commission of India?

Options :

1. ✖ Justice A S Anand

2. ✖ Justice K G Balakrishnan

3. ✔ Justice Ranganath Mishra

4. ✖ Justice M N Venkatachaliah

Question Number : 26 Question Id : 1626531650 Question Type : MCQ Option Shuffling : Yes Display Question Number : Yes  
Single Line Question Option : No Option Orientation : Vertical

Correct Marks : 1 Wrong Marks : 0.25

भारत के राष्ट्रीय मानवाधिकार आयोग के पहले अध्यक्ष कौन थे?

Options :

1. ✖ न्यायमूर्ति ए एस आनंद



2. ✖ न्यायमूर्ति के जी बालकृष्णन
3. ✔ न्यायमूर्ति रंगनाथ मिश्रा
4. ✖ न्यायमूर्ति एम एन वेंकटचलैया

Question Number : 27 Question Id : 1626531651 Question Type : MCQ Option Shuffling : Yes Display Question Number : Yes  
Single Line Question Option : No Option Orientation : Vertical

Correct Marks : 1 Wrong Marks : 0.25

Where is the Ordos desert located?

Options :

1. ✖ Japan
2. ✖ Myanmar
3. ✔ China
4. ✖ South Korea

Question Number : 27 Question Id : 1626531651 Question Type : MCQ Option Shuffling : Yes Display Question Number : Yes  
Single Line Question Option : No Option Orientation : Vertical

Correct Marks : 1 Wrong Marks : 0.25

ऑर्डोस रेगिस्तान कहाँ स्थित है?

Options :

1. ✖ जापान
2. ✖ म्यांमार
3. ✔ चीन
4. ✖ दक्षिण कोरिया

Question Number : 28 Question Id : 1626531652 Question Type : MCQ Option Shuffling : Yes Display Question Number : Yes  
Single Line Question Option : No Option Orientation : Vertical

Correct Marks : 1 Wrong Marks : 0.25

In which of the following years was India's population growth NEGATIVE?

Options :

1. ✖ 1920

2. ✓ 1921

3. ✗ 1945

4. ✗ 1947

Question Number : 28 Question Id : 1626531652 Question Type : MCQ Option Shuffling : Yes Display Question Number : Yes  
Single Line Question Option : No Option Orientation : Vertical

Correct Marks : 1 Wrong Marks : 0.25

निम्नलिखित किस वर्ष में भारत की जनसंख्या वृद्धि नकारात्मक थी?

Options :

1. ✗ 1920

2. ✓ 1921

3. ✗ 1945

4. ✗ 1947

Question Number : 29 Question Id : 1626531653 Question Type : MCQ Option Shuffling : Yes Display Question Number : Yes  
Single Line Question Option : No Option Orientation : Vertical

Correct Marks : 1 Wrong Marks : 0.25

Which of the following is referred to as 'Buried Sunshine'?

Options :

1. ✗ Gold

2. ✗ Copper

3. ✗ Diamond

4. ✓ Coal

Question Number : 29 Question Id : 1626531653 Question Type : MCQ Option Shuffling : Yes Display Question Number : Yes  
Single Line Question Option : No Option Orientation : Vertical

Correct Marks : 1 Wrong Marks : 0.25

निम्नलिखित में से कौन सा 'Buried Sunshine' के रूप में जाना जाता है?

Options :

1. ✗ सोना

2. ✗ तांबा

3. ✖ हीरा

4. ✔ कोयला

Question Number : 30 Question Id : 1626531654 Question Type : MCQ Option Shuffling : Yes Display Question Number : Yes  
Single Line Question Option : No Option Orientation : Vertical

Correct Marks : 1 Wrong Marks : 0.25

In Economics, by which of the following options is growth of an economy measured?

Options :

1. ✖ Gross National Product

2. ✔ Gross Domestic Product

3. ✖ Balance of Payment

4. ✖ Export and Imports

Question Number : 30 Question Id : 1626531654 Question Type : MCQ Option Shuffling : Yes Display Question Number : Yes  
Single Line Question Option : No Option Orientation : Vertical

Correct Marks : 1 Wrong Marks : 0.25

अर्थशास्त्र में, निम्नलिखित में से किस विकल्प द्वारा अर्थव्यवस्था की वृद्धि मापी जाती है?

Options :

1. ✖ सकल राष्ट्रीय उत्पाद

2. ✔ सकल घरेलू उत्पाद

3. ✖ भुगतान संतुलन

4. ✖ निर्यात और आयात

Question Number : 31 Question Id : 1626531655 Question Type : MCQ Option Shuffling : Yes Display Question Number : Yes  
Single Line Question Option : No Option Orientation : Vertical

Correct Marks : 1 Wrong Marks : 0.25

To determine the poverty line, what is the minimum calorie intake per person in rural areas?

Options :

1. ✖ 1800

2. ✖ 2000

3. ✖ 2200

4. ✔ 2400

Question Number : 31 Question Id : 1626531655 Question Type : MCQ Option Shuffling : Yes Display Question Number : Yes  
Single Line Question Option : No Option Orientation : Vertical

Correct Marks : 1 Wrong Marks : 0.25

गरीबी रेखा का निर्धारण करने के लिए, ग्रामीण क्षेत्रों में प्रति व्यक्ति न्यूनतम कैलोरी अंतर्ग्रहण कितना है?

Options :

1. ✖ 1800

2. ✖ 2000

3. ✖ 2200

4. ✔ 2400

Question Number : 32 Question Id : 1626531656 Question Type : MCQ Option Shuffling : Yes Display Question Number : Yes  
Single Line Question Option : No Option Orientation : Vertical

Correct Marks : 1 Wrong Marks : 0.25

According to Ministry of Agriculture and Farmers Welfare, what is the Minimum Support Price (MSP) of Barley for the year 2017-2018?

Options :

1. ✖ ₹ 1,350

2. ✖ ₹ 1,380

3. ✔ ₹ 1,410

4. ✖ ₹ 1,425

Question Number : 32 Question Id : 1626531656 Question Type : MCQ Option Shuffling : Yes Display Question Number : Yes  
Single Line Question Option : No Option Orientation : Vertical

Correct Marks : 1 Wrong Marks : 0.25

कृषि और किसान कल्याण मंत्रालय के अनुसार, वर्ष 2017 - 2018 के लिए जौ का न्यूनतम समर्थन मूल्य (एमएसपी) क्या है?

Options :

1. ✖ ₹1,350

2. ✖ ₹1,380

3. ✓ ₹1,410

4. ✗ ₹1,425

Question Number : 33 Question Id : 1626531657 Question Type : MCQ Option Shuffling : Yes Display Question Number : Yes  
Single Line Question Option : No Option Orientation : Vertical

Correct Marks : 1 Wrong Marks : 0.25

The end product of protein digestion is \_\_\_\_\_.

Options :

1. ✓ Amino acid

2. ✗ Glucose

3. ✗ Fatty acid

4. ✗ Glycerol

Question Number : 33 Question Id : 1626531657 Question Type : MCQ Option Shuffling : Yes Display Question Number : Yes  
Single Line Question Option : No Option Orientation : Vertical

Correct Marks : 1 Wrong Marks : 0.25

प्रोटीन पाचन का अंतिम उत्पाद \_\_\_\_\_ है।

Options :

1. ✓ एमिनो एसिड

2. ✗ शर्करा

3. ✗ फैटी एसिड

4. ✗ ग्लिसरॉल

Question Number : 34 Question Id : 1626531658 Question Type : MCQ Option Shuffling : Yes Display Question Number : Yes  
Single Line Question Option : No Option Orientation : Vertical

Correct Marks : 1 Wrong Marks : 0.25

Cinnabar is an ore of \_\_\_\_\_.

Options :

1. ✗ Iron

2. ✗ Copper

3. ✓ Mercury

4. ✖ Zinc

Question Number : 34 Question Id : 1626531658 Question Type : MCQ Option Shuffling : Yes Display Question Number : Yes  
Single Line Question Option : No Option Orientation : Vertical

Correct Marks : 1 Wrong Marks : 0.25

सिन्दूर / हिंगुल \_\_\_\_\_ का एक अयस्क है।

Options :

1. ✖ लोहा

2. ✖ तांबा

3. ✔ पारा

4. ✖ जिंक

Question Number : 35 Question Id : 1626531659 Question Type : MCQ Option Shuffling : Yes Display Question Number : Yes  
Single Line Question Option : No Option Orientation : Vertical

Correct Marks : 1 Wrong Marks : 0.25

SANKALP and STRIVE schemes, which are meant to boost Skill India Mission, is supported by \_\_\_\_\_.

Options :

1. ✖ International Monetary Fund (IMF)

2. ✔ World Bank

3. ✖ Asian Development Bank

4. ✖ The New Development Bank

Question Number : 35 Question Id : 1626531659 Question Type : MCQ Option Shuffling : Yes Display Question Number : Yes  
Single Line Question Option : No Option Orientation : Vertical

Correct Marks : 1 Wrong Marks : 0.25

स्कील इंडिया मिशन को बढ़ावा देने के लिए शुरू की गई संकल्प और स्ट्राइव योजनाएं \_\_\_\_\_ द्वारा समर्थित हैं।

Options :

1. ✖ अंतर्राष्ट्रीय मुद्रा कोष (आईएमएफ)

2. ✔ विश्व बैंक

3. ✖ एशियाई विकास बैंक



4. ✖ द न्यू डेवलपमेंट बैंक

Question Number : 36 Question Id : 1626531660 Question Type : MCQ Option Shuffling : Yes Display Question Number : Yes  
Single Line Question Option : No Option Orientation : Vertical

Correct Marks : 1 Wrong Marks : 0.25

For which of the following is the Mother Teresa Memorial Award given?

Options :

1. ✖ Nursing

2. ✔ Social Justice

3. ✖ Women Empowerment

4. ✖ Women's Right

Question Number : 36 Question Id : 1626531660 Question Type : MCQ Option Shuffling : Yes Display Question Number : Yes  
Single Line Question Option : No Option Orientation : Vertical

Correct Marks : 1 Wrong Marks : 0.25

मदर टेरेसा मेमोरियल अवॉर्ड निम्नलिखित में से किसके लिए दिया जाता है?

Options :

1. ✖ नर्सिंग

2. ✔ सामाजिक न्याय

3. ✖ महिला सशक्तिकरण

4. ✖ महिला अधिकार

Question Number : 37 Question Id : 1626531661 Question Type : MCQ Option Shuffling : Yes Display Question Number : Yes  
Single Line Question Option : No Option Orientation : Vertical

Correct Marks : 1 Wrong Marks : 0.25

Who has been appointed as WHO's Goodwill Ambassador for Physical Activity in South-East Asia Region?

Options :

1. ✔ Milkha Singh

2. ✖ Yuvraj Singh

3. ✖ Mary Kom

4. ✖ Abhinav Bindra

Question Number : 37 Question Id : 1626531661 Question Type : MCQ Option Shuffling : Yes Display Question Number : Yes  
Single Line Question Option : No Option Orientation : Vertical

Correct Marks : 1 Wrong Marks : 0.25

दक्षिण - पूर्व एशिया क्षेत्र में शारीरिक गतिविधि के लिए विश्व स्वास्थ्य संगठन के गुडविल अम्बेसडर के रूप में किसे नियुक्त किया गया है?

Options :

1. ✔ मिलखा सिंह
2. ✖ युवराज सिंह
3. ✖ मैरी कॉम
4. ✖ अभिनव बिंद्रा

Question Number : 38 Question Id : 1626531662 Question Type : MCQ Option Shuffling : Yes Display Question Number : Yes  
Single Line Question Option : No Option Orientation : Vertical

Correct Marks : 1 Wrong Marks : 0.25

Salar Jung Museum is situated in which of the following cities?

Options :

1. ✖ New Delhi
2. ✔ Hyderabad
3. ✖ Kolkata
4. ✖ Allahabad

Question Number : 38 Question Id : 1626531662 Question Type : MCQ Option Shuffling : Yes Display Question Number : Yes  
Single Line Question Option : No Option Orientation : Vertical

Correct Marks : 1 Wrong Marks : 0.25

सालार जंग म्यूजियम निम्नलिखित किस शहर में स्थित है?

Options :

1. ✖ नई दिल्ली
2. ✔ हैदराबाद



3. ✖ कोलकाता

4. ✖ इलाहाबाद

Question Number : 39 Question Id : 1626531663 Question Type : MCQ Option Shuffling : Yes Display Question Number : Yes  
Single Line Question Option : No Option Orientation : Vertical

Correct Marks : 1 Wrong Marks : 0.25

The 44<sup>th</sup> G7 summit was held on 8-9 June 2018 in \_\_\_\_\_.

Options :

1. ✖ U.S.A

2. ✔ Canada

3. ✖ France

4. ✖ London

Question Number : 39 Question Id : 1626531663 Question Type : MCQ Option Shuffling : Yes Display Question Number : Yes  
Single Line Question Option : No Option Orientation : Vertical

Correct Marks : 1 Wrong Marks : 0.25

44 वां जी 7 शिखर सम्मेलन 8 - 9 जून 2018 को \_\_\_\_\_ में आयोजित किया गया था।

Options :

1. ✖ अमेरिका

2. ✔ कनाडा

3. ✖ फ्रांस

4. ✖ लंदन

Question Number : 40 Question Id : 1626531664 Question Type : MCQ Option Shuffling : Yes Display Question Number : Yes  
Single Line Question Option : No Option Orientation : Vertical

Correct Marks : 1 Wrong Marks : 0.25

Who is the author of the book titled 'Kitchen Confidential'?

Options :

1. ✖ David Douglas Duncan

2. ✔ Anthony Bourdain

3. ✖ Peter Stringfellow

4. ✖ Mick Taylor

Question Number : 40 Question Id : 1626531664 Question Type : MCQ Option Shuffling : Yes Display Question Number : Yes  
Single Line Question Option : No Option Orientation : Vertical  
Correct Marks : 1 Wrong Marks : 0.25

‘Kitchen Confidential’ शीर्षक पुस्तक के लेखक कौन हैं?

Options :

1. ✖ डेविड डोगलस डंकन

2. ✔ एंथनी बोर्डन

3. ✖ पीटर स्ट्रिंगफेलो

4. ✖ मिक टेलर

#### Arithmetic Ability

Group Number :	3
Group Id :	16265383
Group Maximum Duration :	0
Group Minimum Duration :	0
Revisit allowed for view? :	No
Revisit allowed for edit? :	No
Break time:	0
Group Marks:	20
Revisit allowed for group Instructions? :	Yes
Maximum Instruction Time:	0
Minimum Instruction Time:	0

#### Arithmetic Ability

Section Id :	16265383
Section Number :	1
Section type :	Online
Mandatory or Optional:	Mandatory
Number of Questions:	19
Number of Questions to be attempted:	19
Section Marks:	20
Display Number Panel:	Yes
Group All Questions:	No

Sub-Section Number:	1
Sub-Section Id:	162653108
Question Shuffling Allowed :	Yes

Question Number : 41 Question Id : 1626531665 Question Type : MCQ Option Shuffling : Yes Display Question Number : Yes  
Single Line Question Option : No Option Orientation : Vertical

Correct Marks : 1 Wrong Marks : 0.25

The value of  $\frac{(2.5)^3 + (3.2)^3 - (4.7)^3 + 7.5 \times 3.2 \times 4.7}{625 + 1024 + 47 \times 47 - 25 \times 32 + 32 \times 47 + 47 \times 25}$  is:

Options :

1. ✖ 0
2. ✖ 0.1
3. ✔ 0.01
4. ✖ 0.001

Question Number : 41 Question Id : 1626531665 Question Type : MCQ Option Shuffling : Yes Display Question Number : Yes  
Single Line Question Option : No Option Orientation : Vertical

Correct Marks : 1 Wrong Marks : 0.25

$\frac{(2.5)^3 + (3.2)^3 - (4.7)^3 + 7.5 \times 3.2 \times 4.7}{625 + 1024 + 47 \times 47 - 25 \times 32 + 32 \times 47 + 47 \times 25}$  का मान क्या होगा?

Options :

1. ✖ 0
2. ✖ 0.1
3. ✔ 0.01
4. ✖ 0.001

Question Number : 42 Question Id : 1626531666 Question Type : MCQ Option Shuffling : Yes Display Question Number : Yes  
Single Line Question Option : No Option Orientation : Vertical

Correct Marks : 1 Wrong Marks : 0.25

The unit digit of  $(84)^{33} + (63)^{37} - (57)^{29}$  is:

Options :

1. ✔ 0
2. ✖ 1
3. ✖ 4
4. ✖ 6

Question Number : 42 Question Id : 1626531666 Question Type : MCQ Option Shuffling : Yes Display Question Number : Yes  
Single Line Question Option : No Option Orientation : Vertical

Correct Marks : 1 Wrong Marks : 0.25

$(84)^{33} + (63)^{37} - (57)^{29}$  का इकाई अंक क्या है?

Options :

1.  0

2.  1

3.  4

4.  6

Question Number : 43 Question Id : 1626531667 Question Type : MCQ Option Shuffling : Yes Display Question Number : Yes  
Single Line Question Option : No Option Orientation : Vertical

Correct Marks : 1 Wrong Marks : 0.25

If  $\frac{\sqrt{5}-\sqrt{2}}{\sqrt{5}+\sqrt{2}} = a + b\sqrt{10}$ , then  $(a - b)$  is equal to:

Options :

1.   $\frac{5}{3}$

2.  3

3.   $\frac{9}{7}$


4.  5

Question Number : 43 Question Id : 1626531667 Question Type : MCQ Option Shuffling : Yes Display Question Number : Yes  
Single Line Question Option : No Option Orientation : Vertical


Correct Marks : 1 Wrong Marks : 0.25

अगर  $\frac{\sqrt{5}-\sqrt{2}}{\sqrt{5}+\sqrt{2}} = a + b\sqrt{10}$ , तो  $(a - b)$  के बराबर क्या होगा?

Options :

1.   $\frac{5}{3}$

2.  3

3.   $\frac{9}{7}$

4.  5

Question Number : 44 Question Id : 1626531668 Question Type : MCQ Option Shuffling : Yes Display Question Number : Yes  
Single Line Question Option : No Option Orientation : Vertical

Correct Marks : 1 Wrong Marks : 0.25

The value of  $0.\overline{8} + 0.5\overline{6} - 0.1\overline{25}$  is equal to:

Options :

1. ☒  $1.3\overline{30}$

2. ☐  $1.\overline{330}$

3. ☐  $1.4\overline{30}$

4. ☐  $1.4\overline{34}$

Question Number : 44 Question Id : 1626531668 Question Type : MCQ Option Shuffling : Yes Display Question Number : Yes  
Single Line Question Option : No Option Orientation : Vertical

Correct Marks : 1 Wrong Marks : 0.25

$0.\overline{8} + 0.5\overline{6} - 0.1\overline{25}$  का मान क्या होगा?

Options :

1. ☒  $1.3\overline{30}$

2. ☐  $1.\overline{330}$

3. ☐  $1.4\overline{30}$

4. ☐  $1.4\overline{34}$

Question Number : 45 Question Id : 1626531669 Question Type : MCQ Option Shuffling : Yes Display Question Number : Yes  
Single Line Question Option : No Option Orientation : Vertical

Correct Marks : 1 Wrong Marks : 0.25

Two numbers are in the ratio 5 : 7 and the product of their HCF and LCM is 5,040. What is the sum of the digits of the larger number?

Options :

1. ☐ 7

2. ☐ 8

3. ☐ 10

4. ☒ 12

Question Number : 45 Question Id : 1626531669 Question Type : MCQ Option Shuffling : Yes Display Question Number : Yes  
Single Line Question Option : No Option Orientation : Vertical

Correct Marks : 1 Wrong Marks : 0.25

दो संख्याएं 5 : 7 के अनुपात में हैं और उनके महत्तम समापवर्तक और लघुत्तम समावर्त्य का गुणनफल 5,040 है।  
बड़ी संख्या के अंकों का योग क्या है?

Options :

- 1. ✖ 7
- 2. ✖ 8
- 3. ✖ 10
- 4. ✔ 12

Question Number : 46 Question Id : 1626531670 Question Type : MCQ Option Shuffling : Yes Display Question Number : Yes  
Single Line Question Option : No Option Orientation : Vertical

Correct Marks : 1 Wrong Marks : 0.25

In a class of 45 students, the average marks of 16 students is 58, that of another 17 students is 62 and the average marks of the remaining students is 65. What is the average marks of the whole class correct to one decimal place?

Options :

- 1. ✖ 60.8
- 2. ✔ 61.4
- 3. ✖ 62.6
- 4. ✖ 63.5

Question Number : 46 Question Id : 1626531670 Question Type : MCQ Option Shuffling : Yes Display Question Number : Yes  
Single Line Question Option : No Option Orientation : Vertical

Correct Marks : 1 Wrong Marks : 0.25

45 छात्रों की एक कक्षा में 16 छात्रों का औसत प्राप्तांक 58 है, 17 अन्य छात्रों का औसत प्राप्तांक 62 है और शेष छात्रों का औसत प्राप्तांक 65 है। पूरी कक्षा का औसत प्राप्तांक एक दशमलव स्थान तक क्या है?

Options :

- 1. ✖ 60.8
- 2. ✔ 61.4
- 3. ✖ 62.6
- 4. ✖ 63.5

Question Number : 47 Question Id : 1626531671 Question Type : MCQ Option Shuffling : Yes Display Question Number : Yes  
Single Line Question Option : No Option Orientation : Vertical

Correct Marks : 1 Wrong Marks : 0.25

A sum of ₹ 9,384 is divided among A, B and C in the ratio  $\frac{1}{2} : \frac{2}{3} : \frac{3}{4}$  respectively. What is the share of B?

Options :

1. ✖ ₹ 2,448

2. ✖ ₹ 2,856

3. ✔ ₹ 3,264

4. ✖ ₹ 3,672

Question Number : 47 Question Id : 1626531671 Question Type : MCQ Option Shuffling : Yes Display Question Number : Yes  
Single Line Question Option : No Option Orientation : Vertical

Correct Marks : 1 Wrong Marks : 0.25

₹ 9,384 की धनराशि  $\frac{1}{2} : \frac{2}{3} : \frac{3}{4}$  के अनुपात में A, B और C में बांटी जाती है। B का हिस्सा कितना है?

Options :

1. ✖ ₹2,448

2. ✖ ₹2,856

3. ✔ ₹3,064

4. ✖ ₹3,672

Question Number : 48 Question Id : 1626531672 Question Type : MCQ Option Shuffling : Yes Display Question Number : Yes  
Single Line Question Option : No Option Orientation : Vertical

Correct Marks : 1 Wrong Marks : 0.25

Two vessels A and B contain acid and water in the ratio 3 : 5 and 11 : 5. Their contents are mixed in the ratio 3 : 2. What is the ratio of acid and water in the new mixture?

Options :

1. ✔ 1 : 1

2. ✖ 1 : 2

3. ✖ 2 : 1

4. ✖ 5 : 11

Question Number : 48 Question Id : 1626531672 Question Type : MCQ Option Shuffling : Yes Display Question Number : Yes  
Single Line Question Option : No Option Orientation : Vertical

Correct Marks : 1 Wrong Marks : 0.25



दो पात्रों A और B में 3 : 5 और 11 : 5 के अनुपात में स्पिरिट और पानी है। उनकी सामग्रियों को 3 : 2 के अनुपात में मिश्रित किया जाता है। नये मिश्रण में स्पिरिट और पानी का अनुपात क्या होगा?

Options :

1. ✓ 1 : 1
2. ✗ 1 : 2
3. ✗ 2 : 1
4. ✗ 5 : 11

Question Number : 49 Question Id : 1626531673 Question Type : MCQ Option Shuffling : Yes Display Question Number : Yes  
Single Line Question Option : No Option Orientation : Vertical

Correct Marks : 1 Wrong Marks : 0.25

The price of rice is decreased by 8%. By what percentage, correct to one decimal place, the consumption of rice can be increased so that there is NO change in the expenditure?

Options :

1. ✗ 7.4%
2. ✗ 8%
3. ✓ 8.7%
4. ✗ 8.9%

Question Number : 49 Question Id : 1626531673 Question Type : MCQ Option Shuffling : Yes Display Question Number : Yes  
Single Line Question Option : No Option Orientation : Vertical

Correct Marks : 1 Wrong Marks : 0.25

चावल की कीमत 8% कम हो जाती है। चावल के उपभोग में कितने प्रतिशत, एक दशमलव स्थान तक सही, वृद्धि की जाए ताकि व्यय में कोई परिवर्तन न हो?

Options :

1. ✗ 7.4 %
2. ✗ 8 %
3. ✓ 8.7 %
4. ✗ 8.9 %

Question Number : 50 Question Id : 1626531674 Question Type : MCQ Option Shuffling : Yes Display Question Number : Yes  
Single Line Question Option : No Option Orientation : Vertical

Correct Marks : 1 Wrong Marks : 0.25



By selling an article for ₹ 3,300, a person gains  $\frac{1}{12}$  of his cost price. If he sells it for ₹ 3,360, then what is his gain percentage correct to one decimal place?

Options :

1. ✖ 8.6%
2. ✖ 9.8%
3. ✖ 10.9%
4. ✔ 11.1%

Question Number : 50 Question Id : 1626531674 Question Type : MCQ Option Shuffling : Yes Display Question Number : Yes  
Single Line Question Option : No Option Orientation : Vertical

Correct Marks : 1 Wrong Marks : 0.25

एक वस्तु ₹3,300 में बेचने पर एक व्यक्ति को उसके लागत मूल्य का  $\frac{1}{12}$  लाभ होता है। यदि वह उसे ₹3,360 में बेचता है, तो उसका लाभ प्रतिशत एक दशमलव स्थान तक कितना होगा?

Options :

1. ✖ 8.6%
2. ✖ 9.8%
3. ✖ 10.9%
4. ✔ 11.1%

Question Number : 51 Question Id : 1626531675 Question Type : MCQ Option Shuffling : Yes Display Question Number : Yes  
Single Line Question Option : No Option Orientation : Vertical

Correct Marks : 1 Wrong Marks : 0.25

The difference between a discount of 45% and two successive discounts of 25% and 20% on a certain bill is ₹ 27. What is the amount of the bill before discount?

Options :

1. ✖ ₹ 500
2. ✖ ₹ 520
3. ✔ ₹ 540
4. ✖ ₹ 560

Question Number : 51 Question Id : 1626531675 Question Type : MCQ Option Shuffling : Yes Display Question Number : Yes  
Single Line Question Option : No Option Orientation : Vertical

Correct Marks : 1 Wrong Marks : 0.25

एक बिल पर 45% की छूट और 25% एवं 20% की दो क्रमिक छूटों के बीच अन्तर ₹ 27 है। छूट से पहले बिल की राशि क्या थी?

Options :

- 1. ✖ ₹500
- 2. ✖ ₹520
- 3. ✔ ₹540
- 4. ✖ ₹560

Question Number : 52 Question Id : 1626531676 Question Type : MCQ Option Shuffling : Yes Display Question Number : Yes  
Single Line Question Option : No Option Orientation : Vertical

Correct Marks : 1 Wrong Marks : 0.25

A sum of ₹ 50,000 is invested at 10% per annum and compounded half yearly for 18 months. What is the percentage gain on the investment at the end of 18 months correct to one decimal place?

Options :

- 1. ✔ 15.8%
- 2. ✖ 16.2%
- 3. ✖ 16.4%
- 4. ✖ 16.8%

Question Number : 52 Question Id : 1626531676 Question Type : MCQ Option Shuffling : Yes Display Question Number : Yes  
Single Line Question Option : No Option Orientation : Vertical

Correct Marks : 1 Wrong Marks : 0.25

₹50,000 की धनराशि 10% प्रति वर्ष की दर पर 18 महीने के लिए निवेश की जाती है और उसे छमाही आधार पर चक्रवृद्धित किया जाता है। 18 महीने की समाप्ति पर निवेश पर प्रतिशत अभिलाभ एक दशमलव स्थान तक कितना होगा?

Options :

- 1. ✔ 15.8%
- 2. ✖ 16.2%
- 3. ✖ 16.4%
- 4. ✖ 16.8%

Question Number : 53 Question Id : 1626531677 Question Type : MCQ Option Shuffling : Yes Display Question Number : Yes  
Single Line Question Option : No Option Orientation : Vertical

Correct Marks : 1 Wrong Marks : 0.25

In a circle of radius 10 cm, a chord subtends an angle of  $120^\circ$  at the centre of the circle. What is the area of the minor segment of the circle correct to one decimal place in  $\text{cm}^2$ ?

Options :

1. ✖ 104.7  $\text{cm}^2$
2. ✔ 61.4  $\text{cm}^2$
3. ✖ 60.8  $\text{cm}^{2(4)}$
4. ✖ 59.6  $\text{cm}^2$

Question Number : 53 Question Id : 1626531677 Question Type : MCQ Option Shuffling : Yes Display Question Number : Yes  
Single Line Question Option : No Option Orientation : Vertical

Correct Marks : 1 Wrong Marks : 0.25

10 सेंटीमीटर त्रिज्या के एक वृत्त में, एक चाप (chord) वृत्त के केंद्र में  $120^\circ$  के कोण पर अंतरित होता है। वृत्त के लघु खंड का क्षेत्रफल वर्ग सेंटीमीटर में एक दशमलव स्थान तक कितना है?

Options :

1. ✖ 104.7  $\text{cm}^2$
2. ✔ 61.4  $\text{cm}^2$
3. ✖ 60.8  $\text{cm}^{2(4)}$
4. ✖ 59.6  $\text{cm}^2$

Question Number : 54 Question Id : 1626531678 Question Type : MCQ Option Shuffling : Yes Display Question Number : Yes  
Single Line Question Option : No Option Orientation : Vertical

Correct Marks : 1 Wrong Marks : 0.25

A cylinder of base radius 4 cm and height 10 cm is melted and recast into a cone of base radius 3 cm. What is height of the cone correct to one decimal place?

Options :

1. ✖ 30 cm
2. ✖ 42.3 cm
3. ✖ 48.3 cm
4. ✔ 53.3 cm

Question Number : 54 Question Id : 1626531678 Question Type : MCQ Option Shuffling : Yes Display Question Number : Yes  
Single Line Question Option : No Option Orientation : Vertical

Correct Marks : 1 Wrong Marks : 0.25

4 सेंटीमीटर की आधार त्रिज्या और 10 सेंटीमीटर की ऊंचाई वाले एक सिलेंडर को पिघलाया जाता है और 3 सेंटीमीटर की आधार त्रिज्या के शंकु में पुनः ढाला जाता है। शंकु की ऊंचाई एक दशमलव स्थान तक कितनी है?

Options :

1. ✖ 30 सेंटीमीटर
2. ✖ 42.3 सेंटीमीटर
3. ✖ 48.3 सेंटीमीटर
4. ✔ 53.3 सेंटीमीटर

Question Number : 55 Question Id : 1626531679 Question Type : MCQ Option Shuffling : Yes Display Question Number : Yes  
Single Line Question Option : No Option Orientation : Vertical

Correct Marks : 1 Wrong Marks : 0.25

A can do  $\frac{2}{5}$  th of a work in 10 days and B can do  $\frac{3}{4}$  th of the same work in 15 days. They started together, but A left after 5 days. In how many days was the work completed by B?

Options :

1. ✖ 14 days
2. ✖ 15 days
3. ✔ 16 days
4. ✖ 18 days

Question Number : 55 Question Id : 1626531679 Question Type : MCQ Option Shuffling : Yes Display Question Number : Yes  
Single Line Question Option : No Option Orientation : Vertical

Correct Marks : 1 Wrong Marks : 0.25

A किसी काम के  $\frac{2}{5}$  वें हिस्से को 10 दिन में पूरा कर सकता है और B उसी काम के  $\frac{3}{4}$  वें हिस्से को 15 दिन में पूरा कर सकता है। उन्होंने एक साथ मिलकर काम शुरू किया, किंतु A ने 5 दिन बाद छोड़ दिया। B द्वारा कितने दिनों में काम पूरा किया गया?

Options :

1. ✖ 14 दिन
2. ✖ 15 दिन
3. ✔ 16 दिन
4. ✖ 18 दिन

Question Number : 56 Question Id : 1626531680 Question Type : MCQ Option Shuffling : Yes Display Question Number : Yes  
Single Line Question Option : No Option Orientation : Vertical

Correct Marks : 1 Wrong Marks : 0.25

Two pipes A and B can fill a tank in 1 hour 12 minutes and 1 hour 36 minutes respectively. If both pipes are opened together, after how many minutes, B should be closed so that the tank is full in 54 minutes?

Options :

1. ✖ 18 minutes
2. ✖ 20 minutes
3. ✔ 24 minutes
4. ✖ 30 minutes

Question Number : 56 Question Id : 1626531680 Question Type : MCQ Option Shuffling : Yes Display Question Number : Yes  
Single Line Question Option : No Option Orientation : Vertical

Correct Marks : 1 Wrong Marks : 0.25

दो पाइप A और B एक टंकी को क्रमशः 1 घंटे 12 मिनट और 1 घंटे 36 मिनट में भर सकते हैं। अगर दोनों पाइपों को एक साथ खोला जाता है, पाइप B को कितने मिनट बाद बंद किया जाए कि टंकी 54 मिनट में पूरी भर जाए?

Options :

1. ✖ 18 मिनट
2. ✖ 20 मिनट
3. ✔ 24 मिनट
4. ✖ 30 मिनट

Question Number : 57 Question Id : 1626531681 Question Type : MCQ Option Shuffling : Yes Display Question Number : Yes  
Single Line Question Option : No Option Orientation : Vertical

Correct Marks : 1 Wrong Marks : 0.25

A car travels 140 km at a uniform speed. If the speed of the car is 10 km/h less, it takes 20 minutes more to cover the same distance. The original speed of the car in km/h is:

Options :

1. ✖ 60 km/h
2. ✔ 70 km/h
3. ✖ 75 km/h
4. ✖ 80 km/h



Question Number : 57 Question Id : 1626531681 Question Type : MCQ Option Shuffling : Yes Display Question Number : Yes  
Single Line Question Option : No Option Orientation : Vertical

Correct Marks : 1 Wrong Marks : 0.25

एक कार एकसमान गति से 140 किमी की दूरी तय करती है। अगर कार की गति 10 किमी प्रति घंटे कम कर दी जाए तो उसी दूरी को तय करने में उसे 20 मिनट अधिक लगता है। कार की मूल गति प्रति घंटे कितने किमी. है?

Options :

1. ✖ 60 किमी / घंटा
2. ✔ 70 किमी / घंटा
3. ✖ 75 किमी / घंटा
4. ✖ 80 किमी / घंटा

Question Number : 58 Question Id : 1626531682 Question Type : MCQ Option Shuffling : Yes Display Question Number : Yes  
Single Line Question Option : No Option Orientation : Vertical

Correct Marks : 1 Wrong Marks : 0.25

A train covers distances 50 km, 100 km and 150 km at speed of 40 km/h, 60 km/h and 75 km/h respectively. What is the average speed of the train in km/h correct to one decimal place?

Options :

1. ✔ 61.0 km/h
2. ✖ 61.8 km/h
3. ✖ 58.3 km/h
4. ✖ 62.8 km/h

Question Number : 58 Question Id : 1626531682 Question Type : MCQ Option Shuffling : Yes Display Question Number : Yes  
Single Line Question Option : No Option Orientation : Vertical

Correct Marks : 1 Wrong Marks : 0.25

एक रेलगाड़ी 40 किमी प्रति घंटे, 60 किमी प्रति घंटे और 75 किमी प्रति घंटे की गति से क्रमशः 50 किमी, 100 किमी और 150 किमी की दूरी तय करती है। रेलगाड़ी की औसत गति प्रति घंटे कितने किमी, एक दशमलव स्थान तक सही, है?

Options :

1. ✔ 61.0 किमी / घंटा
2. ✖ 61.8 किमी / घंटा
3. ✖ 58.3 किमी / घंटा



4. ✖ 62.8 किमी / घंटा

Sub-Section Number: 2  
Sub-Section Id: 162653109  
Question Shuffling Allowed : Yes

Question Id : 1626531683 Question Type : COMPREHENSION Sub Question Shuffling Allowed : Yes Group Comprehension Questions : No

Question Numbers : (59 to 60)

Question Label : Comprehension

Direction: The following table gives the percentage of marks obtained by 200 students in an examination. Read the table and answer the following questions.

Marks	30-35	35-40	40-45	45-50	50-55	55-60	60-65
No. of students	28	32	36	46	36	16	6

Sub questions

Question Number : 59 Question Id : 1626531684 Question Type : MCQ Option Shuffling : Yes Display Question Number : Yes  
Single Line Question Option : No Option Orientation : Vertical

Correct Marks : 1 Wrong Marks : 0.25

What is the mean marks of the students?

Options :

1. ✖ 44.15%

2. ✖ 44.35%

3. ✔ 45.05%

4. ✖ 46.15%

Question Number : 60 Question Id : 1626531685 Question Type : MCQ Option Shuffling : Yes Display Question Number : Yes  
Single Line Question Option : No Option Orientation : Vertical

Correct Marks : 1 Wrong Marks : 0.25

If the data is represented as a pie chart, what will be the central angle of the sector representing the number of students who scored marks in the interval 45-50, nearest to complete degree?

Options :

1. ✖  $65^\circ$

2. ✖  $78^\circ$

3. ✖ 81°

4. ✔ 83°

Question Id : 1626531683 Question Type : COMPREHENSION Sub Question Shuffling Allowed : Yes Group Comprehension Questions : No

Question Numbers : (59 to 60)

Question Label : Comprehension

निर्देश: निम्नलिखित तालिका एक परीक्षा में 200 छात्रों प्राप्तांकों का प्रतिशत दर्शाती है. तालिका पढ़ें और निम्न प्रश्नों के उत्तर दें:

प्राप्तांक	30-35	35-40	40-45	45-50	50-55	55-60	60-65
छात्रों की संख्या	28	32	36	46	36	16	6

Sub questions

Question Number : 59 Question Id : 1626531684 Question Type : MCQ Option Shuffling : Yes Display Question Number : Yes Single Line Question Option : No Option Orientation : Vertical

Correct Marks : 1 Wrong Marks : 0.25

छात्रों का माध्य प्राप्तांक क्या है?

Options :

1. ✖ 44.15%

2. ✖ 44.35%

3. ✔ 45.05%

4. ✖ 46.15%

Question Number : 60 Question Id : 1626531685 Question Type : MCQ Option Shuffling : Yes Display Question Number : Yes Single Line Question Option : No Option Orientation : Vertical

Correct Marks : 1 Wrong Marks : 0.25

अगर उपर्युक्त डेटा को एक पाई चार्ट में प्रस्तुत किया जाता है तो अंतराल 45 - 50 में अंक प्राप्त करने वाले छात्रों की संख्या का प्रतिनिधित्व करने वाले त्रिज्य - खंड (sector) का केन्द्रीय कोण पूर्ण अंश तक कितना होगा?

Options :

1. ✖ 65°

2. ✖ 78°

3. ✖ 81°

4. ✔ 83°

#### General English

Group Number :	4
Group Id :	16265384
Group Maximum Duration :	0
Group Minimum Duration :	0
Revisit allowed for view? :	No
Revisit allowed for edit? :	No
Break time:	0
Group Marks:	20
Revisit allowed for group Instructions? :	Yes
Maximum Instruction Time:	0
Minimum Instruction Time:	0

#### General English

Section Id :	16265384
Section Number :	1
Section type :	Online
Mandatory or Optional:	Mandatory
Number of Questions:	16
Number of Questions to be attempted:	16
Section Marks:	20
Display Number Panel:	Yes
Group All Questions:	No

Sub-Section Number:	1
Sub-Section Id:	162653110
Question Shuffling Allowed :	Yes

Question Number : 61 Question Id : 1626531686 Question Type : MCQ Option Shuffling : Yes Display Question Number : Yes  
Single Line Question Option : No Option Orientation : Vertical

Correct Marks : 1 Wrong Marks : 0.25

Select the most appropriate option to fill in the blank.

Look, the microwave \_\_\_\_\_ strange noises. Do you think I should take it to the mechanic?

Options :

1. ✖ makes

2. ✖ made

3. ✔ is making

4. ✖ has made

Question Number : 61 Question Id : 1626531686 Question Type : MCQ Option Shuffling : Yes Display Question Number : Yes  
Single Line Question Option : No Option Orientation : Vertical

Correct Marks : 1 Wrong Marks : 0.25

Select the most appropriate option to fill in the blank.

Look, the microwave \_\_\_\_\_ strange noises. Do you think I should take it to the mechanic?

Options :

1. ✖ makes

2. ✖ made

3. ✔ is making

4. ✖ has made

Question Number : 62 Question Id : 1626531687 Question Type : MCQ Option Shuffling : Yes Display Question Number : Yes  
Single Line Question Option : No Option Orientation : Vertical

Correct Marks : 1 Wrong Marks : 0.25

Select the most appropriate option to fill in the blank.

It \_\_\_\_\_ for the last three days. I advise you not to go out as there will be traffic jams everywhere.

Options :

1. ✖ rains

2. ✖ rained

3. ✖ had rained

4. ✔ has been raining

Question Number : 62 Question Id : 1626531687 Question Type : MCQ Option Shuffling : Yes Display Question Number : Yes  
Single Line Question Option : No Option Orientation : Vertical

Correct Marks : 1 Wrong Marks : 0.25

Select the most appropriate option to fill in the blank.

It \_\_\_\_\_ for the last three days. I advise you not to go out as there will be traffic jams everywhere.

Options :

1. ✖ rains
2. ✖ rained
3. ✖ had rained
4. ✔ has been raining

Question Number : 63 Question Id : 1626531688 Question Type : MCQ Option Shuffling : Yes Display Question Number : Yes  
Single Line Question Option : No Option Orientation : Vertical

Correct Marks : 1 Wrong Marks : 0.25

Select the most appropriate option to fill in the blank.

I visit the Kashi Vishwanath temple \_\_\_\_\_ I go to Varanasi.

Options :

1. ✖ however
2. ✖ wherever
3. ✔ whenever
4. ✖ whether

Question Number : 63 Question Id : 1626531688 Question Type : MCQ Option Shuffling : Yes Display Question Number : Yes  
Single Line Question Option : No Option Orientation : Vertical

Correct Marks : 1 Wrong Marks : 0.25

Select the most appropriate option to fill in the blank.

I visit the Kashi Vishwanath temple \_\_\_\_\_ I go to Varanasi.

Options :

1. ✖ however
2. ✖ wherever
3. ✔ whenever
4. ✖ whether

Question Number : 64 Question Id : 1626531689 Question Type : MCQ Option Shuffling : Yes Display Question Number : Yes  
Single Line Question Option : No Option Orientation : Vertical

Correct Marks : 1 Wrong Marks : 0.25



Select the most appropriate option to fill in the blank.

\_\_\_\_\_ much of the area has been thoroughly examined in the past centuries, modern technologies may still reveal new findings under the desert surface.

Options :

1. ☒ Even though
2. ☐ In case
3. ☐ In spite of
4. ☐ As if

Question Number : 64 Question Id : 1626531689 Question Type : MCQ Option Shuffling : Yes Display Question Number : Yes  
Single Line Question Option : No Option Orientation : Vertical

Correct Marks : 1 Wrong Marks : 0.25

Select the most appropriate option to fill in the blank.

\_\_\_\_\_ much of the area has been thoroughly examined in the past centuries, modern technologies may still reveal new findings under the desert surface.

Options :

1. ☒ Even though
2. ☐ In case
3. ☐ In spite of
4. ☐ As if

Question Number : 65 Question Id : 1626531690 Question Type : MCQ Option Shuffling : Yes Display Question Number : Yes  
Single Line Question Option : No Option Orientation : Vertical

Correct Marks : 1 Wrong Marks : 0.25

Select the most appropriate option to fill in the blank.

One lakh cusecs of water was released \_\_\_\_\_ the Ropar Barrage \_\_\_\_\_ the Sutlej river on Monday evening.

Options :

1. ☐ of ; in
2. ☐ in ; of
3. ☒ from ; into
4. ☐ with ; at



Question Number : 65 Question Id : 1626531690 Question Type : MCQ Option Shuffling : Yes Display Question Number : Yes  
Single Line Question Option : No Option Orientation : Vertical

Correct Marks : 1 Wrong Marks : 0.25

Select the most appropriate option to fill in the blank.

One lakh cusecs of water was released \_\_\_\_\_ the Ropar Barrage \_\_\_\_\_ the Sutlej river on Monday evening.

Options :

1. ✖ of ; in
2. ✖ in ; of
3. ✔ from ; into
4. ✖ with ; at

Question Number : 66 Question Id : 1626531691 Question Type : MCQ Option Shuffling : Yes Display Question Number : Yes  
Single Line Question Option : No Option Orientation : Vertical

Correct Marks : 1 Wrong Marks : 0.25

Select the most appropriate option to fill in the blank.

The Maldivian President Abdulla Yameen suffered a comprehensive defeat \_\_\_\_\_ the presidential polls \_\_\_\_\_ the opposition's Ibrahim Solith winning \_\_\_\_\_ a margin of 16.6% votes.

Options :

1. ✖ at ; to ; from
2. ✔ in ; with ; by
3. ✖ to ; from ; with
4. ✖ in ; for ; to

Question Number : 66 Question Id : 1626531691 Question Type : MCQ Option Shuffling : Yes Display Question Number : Yes  
Single Line Question Option : No Option Orientation : Vertical

Correct Marks : 1 Wrong Marks : 0.25

Select the most appropriate option to fill in the blank.

The Maldivian President Abdulla Yameen suffered a comprehensive defeat \_\_\_\_\_ the presidential polls \_\_\_\_\_ the opposition's Ibrahim Solith winning \_\_\_\_\_ a margin of 16.6% votes.

Options :

1. ✖ at ; to ; from
2. ✔ in ; with ; by

3. ✖ to ; from ; with

4. ✖ in ; for ; to

Question Number : 67 Question Id : 1626531692 Question Type : MCQ Option Shuffling : Yes Display Question Number : Yes  
Single Line Question Option : No Option Orientation : Vertical

Correct Marks : 1 Wrong Marks : 0.25

Select the most appropriate option to fill in the blank.

Malala Yousafzai's arrival in Pakistan and her \_\_\_\_\_ of the four-day visit was kept secret by Pakistani police.

Options :

1. ✖ journey

2. ✔ itinerary

3. ✖ tour

4. ✖ circuit

Question Number : 67 Question Id : 1626531692 Question Type : MCQ Option Shuffling : Yes Display Question Number : Yes  
Single Line Question Option : No Option Orientation : Vertical

Correct Marks : 1 Wrong Marks : 0.25

Select the most appropriate option to fill in the blank.

Malala Yousafzai's arrival in Pakistan and her \_\_\_\_\_ of the four-day visit was kept secret by Pakistani police.

Options :

1. ✖ journey

2. ✔ itinerary

3. ✖ tour

4. ✖ circuit

Question Number : 68 Question Id : 1626531693 Question Type : MCQ Option Shuffling : Yes Display Question Number : Yes  
Single Line Question Option : No Option Orientation : Vertical

Correct Marks : 1 Wrong Marks : 0.25

Select the most appropriate option to fill in the blank.

The refugee boats were \_\_\_\_\_ by the British and sent back.

Options :

1. ✖ intimidated

2. ✖ intervened

3. ✔ intercepted

4. ✖ interrupted

Question Number : 68 Question Id : 1626531693 Question Type : MCQ Option Shuffling : Yes Display Question Number : Yes  
Single Line Question Option : No Option Orientation : Vertical

Correct Marks : 1 Wrong Marks : 0.25

Select the most appropriate option to fill in the blank.

The refugee boats were \_\_\_\_\_ by the British and sent back.

Options :

1. ✖ intimidated

2. ✖ intervened

3. ✔ intercepted

4. ✖ interrupted

Question Number : 69 Question Id : 1626531694 Question Type : MCQ Option Shuffling : Yes Display Question Number : Yes  
Single Line Question Option : No Option Orientation : Vertical

Correct Marks : 1 Wrong Marks : 0.25

Select the most appropriate synonym of the given word.

RELAY

Options :

1. ✖ repay

2. ✖ play

3. ✔ convey

4. ✖ impact

Question Number : 69 Question Id : 1626531694 Question Type : MCQ Option Shuffling : Yes Display Question Number : Yes  
Single Line Question Option : No Option Orientation : Vertical

Correct Marks : 1 Wrong Marks : 0.25

Select the most appropriate synonym of the given word.

RELAY

Options :

1.  repay
2.  play
3.  convey
4.  impact

Question Number : 70 Question Id : 1626531695 Question Type : MCQ Option Shuffling : Yes Display Question Number : Yes  
Single Line Question Option : No Option Orientation : Vertical

Correct Marks : 1 Wrong Marks : 0.25

Select the most appropriate synonym of the given word.

EVENTUALLY

Options :

1.  immediately
2.  ultimately
3.  originally
4.  usually

Question Number : 70 Question Id : 1626531695 Question Type : MCQ Option Shuffling : Yes Display Question Number : Yes  
Single Line Question Option : No Option Orientation : Vertical

Correct Marks : 1 Wrong Marks : 0.25

Select the most appropriate synonym of the given word.

EVENTUALLY

Options :

1.  immediately
2.  ultimately
3.  originally
4.  usually

Question Number : 71 Question Id : 1626531696 Question Type : MCQ Option Shuffling : Yes Display Question Number : Yes  
Single Line Question Option : No Option Orientation : Vertical

Correct Marks : 1 Wrong Marks : 0.25

Select the most appropriate ANTONYM of the given word.

HARBOUR

Options :

1. ❌ shield

2. ❌ hide

3. ❌ shelter

4. ✅ desert

Question Number : 71 Question Id : 1626531696 Question Type : MCQ Option Shuffling : Yes Display Question Number : Yes  
Single Line Question Option : No Option Orientation : Vertical

Correct Marks : 1 Wrong Marks : 0.25

Select the most appropriate ANTONYM of the given word.

HARBOUR

Options :

1. ❌ shield

2. ❌ hide

3. ❌ shelter

4. ✅ desert

Question Number : 72 Question Id : 1626531697 Question Type : MCQ Option Shuffling : Yes Display Question Number : Yes  
Single Line Question Option : No Option Orientation : Vertical

Correct Marks : 1 Wrong Marks : 0.25

Select the option which is NOT an antonym of another word by way of adding the prefix 'in-'.

Options :

1. ❌ inefficient

2. ❌ inescapable

3. ✅ infectious

4. ❌ informality

Question Number : 72 Question Id : 1626531697 Question Type : MCQ Option Shuffling : Yes Display Question Number : Yes  
Single Line Question Option : No Option Orientation : Vertical

Correct Marks : 1 Wrong Marks : 0.25



Select the option which is NOT an antonym of another word by way of adding the prefix 'in-'.

Options :

1. ✖ inefficient
2. ✖ inescapable
3. ✔ infectious
4. ✖ informality

Question Number : 73 Question Id : 1626531698 Question Type : MCQ Option Shuffling : Yes Display Question Number : Yes  
Single Line Question Option : No Option Orientation : Vertical

Correct Marks : 1 Wrong Marks : 0.25

Arrange parts of the sentence in meaningful and grammatically correct order.

- A. no longer produce diesel cars
- B. petrol-powered, electric and hybrid vehicles
- C. german sports car maker Porsche
- D. but instead concentrate on
- E. has declared that it would

Options :

1. ✖ CBEAD
2. ✖ CDBEA
3. ✖ CADBE
4. ✔ CEADB

Question Number : 73 Question Id : 1626531698 Question Type : MCQ Option Shuffling : Yes Display Question Number : Yes  
Single Line Question Option : No Option Orientation : Vertical

Correct Marks : 1 Wrong Marks : 0.25

Arrange parts of the sentence in meaningful and grammatically correct order.

- A. no longer produce diesel cars
- B. petrol-powered, electric and hybrid vehicles
- C. german sports car maker Porsche
- D. but instead concentrate on
- E. has declared that it would

Options :

1. ✖ CBEAD
2. ✖ CDBEA



3. ✖ CADBE

4. ✔ CEADB

Question Number : 74 Question Id : 1626531699 Question Type : MCQ Option Shuffling : Yes Display Question Number : Yes  
Single Line Question Option : No Option Orientation : Vertical

Correct Marks : 1 Wrong Marks : 0.25

In the following sentence four words/phrases have been underlined. One of them is incorrect. Choose the INCORRECT word/phrase from the given options.

The young activist Malala Yousafzai is the figurehead of the Malala Fund, an organization who raises money to help girls and young women in need of education.

Options :

1. ✖ is the figurehead

2. ✔ who raises

3. ✖ to help girls

4. ✖ in need of

Question Number : 74 Question Id : 1626531699 Question Type : MCQ Option Shuffling : Yes Display Question Number : Yes  
Single Line Question Option : No Option Orientation : Vertical

Correct Marks : 1 Wrong Marks : 0.25

In the following sentence four words/phrases have been underlined. One of them is incorrect. Choose the INCORRECT word/phrase from the given options.

The young activist Malala Yousafzai is the figurehead of the Malala Fund, an organization who raises money to help girls and young women in need of education.

Options :

1. ✖ is the figurehead

2. ✔ who raises

3. ✖ to help girls

4. ✖ in need of

Question Number : 75 Question Id : 1626531700 Question Type : MCQ Option Shuffling : Yes Display Question Number : Yes  
Single Line Question Option : No Option Orientation : Vertical

Correct Marks : 1 Wrong Marks : 0.25

From the options given below choose the sentence that is NOT correct.

Options :

1. ✖

According to the country's census office Australia's population has been crossed the 25 million mark.

2. ✔

Last year the population rose by almost 400,000, since 1970 it has doubled.

3. ✖

Since the end of World War II Australia has recorded a steady growth rate of 1.6% per year.

4. ✖

While natural increase makes up only 38%, over 60% of the country's growth comes from immigration.

Question Number : 75 Question Id : 1626531700 Question Type : MCQ Option Shuffling : Yes Display Question Number : Yes  
Single Line Question Option : No Option Orientation : Vertical

Correct Marks : 1 Wrong Marks : 0.25

From the options given below choose the sentence that is NOT correct.

Options :

1. ✖

According to the country's census office Australia's population has been crossed the 25 million mark.

2. ✔

Last year the population rose by almost 400,000, since 1970 it has doubled.

3. ✖

Since the end of World War II Australia has recorded a steady growth rate of 1.6% per year.

4. ✖

While natural increase makes up only 38%, over 60% of the country's growth comes from immigration.

Sub-Section Number:	2
Sub-Section Id:	162653111
Question Shuffling Allowed :	Yes

Question Id : 1626531701 Question Type : COMPREHENSION Sub Question Shuffling Allowed : Yes Group Comprehension  
Questions : No

Question Numbers : (76 to 80)

Question Label : Comprehension

Read the following passage and answer the questions given after it.

Soon nine prisons across Uttar Pradesh could see inmates receive training in developing crop seeds, even as prisoners in 12 other jails learn vermicomposting, as part of an initiative of the Prison Department, Seed Development Corporation and Agriculture Department.

Besides providing inmates an extra source of income inside the prison, authorities are hopeful the skills they pick up could prove handy for them after their release. For now, inmates with an agricultural background and serving short-term sentences will be selected for the training.

Around 30 inmates each in nine prisons would learn development of crop seeds, while five each in 12 jails would be trained in vermicomposting. A Memorandum of Understanding (MoU) in this regard was signed between the Managing Director (MD) of the Uttar Pradesh Seed Development Corporation, Director of the Agriculture Department, and Additional Director General (ADG), Prisons.

Officials estimate around ₹ 35,000 can be earned per hectare in seed production, after removing the investment cost.

ADG (Prisons) Chandra Prakash said “The main motive is to make positive and constructive use of the time of inmates, develop their skills, and give them a way to make an earning when they are released”.

Nine prisons which had land where inmates could grow crops were selected for seed development training. Similarly, the 12 prisons selected for vermicompost training have cattle and sell dairy products.

“The training for seed development is not that rigorous and just one day is enough to teach someone. However, apart from the one-day training by the district agriculture officer or the district deputy agriculture director, seed development officials and the Seed Certification Department would hold inspections to check the development of seeds. The same would be the case with vermicomposting,” Seed Corporation MD Santosh Khare said.

“Prisons would have to purchase the fertilisers and pesticides themselves, but the foundation seeds would be provided by us on credit. After the certified seeds (the final produce, to be used by farmers as seeds) are ready, we will do two quality tests and buy at the current market rate. We would also take the seed leftovers and sell them. Later we will deduct the credit amount and pay the prisons accordingly. That amount would be distributed to inmates who produced the seeds. The vermicompost would be sold by the prison itself,” the MD added.

### Sub questions

Question Number : 76 Question Id : 1626531702 Question Type : MCQ Option Shuffling : Yes Display Question Number : Yes  
Single Line Question Option : No Option Orientation : Vertical

Correct Marks : 1 Wrong Marks : 0.25

From the reading of the passage it can be inferred  
that it is:

Options :

1. ✖ an article
2. ✖ a news item
3. ✔ a report
4. ✖ a news story

Question Number : 77 Question Id : 1626531703 Question Type : MCQ Option Shuffling : Yes Display Question Number : Yes  
Single Line Question Option : No Option Orientation : Vertical

Correct Marks : 1 Wrong Marks : 0.25

The three bodies that signed the MOU are:

Options :

1. ✖ Seed Development Corporation, Agriculture  
Department and Seed Certification Department.
2. ✖ Seed Development Corporation, Seed Certification  
Department and Prison Department.
3. ✖ Seed Certification Department, Agriculture  
Department and Prison Department.
4. ✔ Seed Development Corporation, Agriculture  
Department and Prison Department.

Question Number : 78 Question Id : 1626531704 Question Type : MCQ Option Shuffling : Yes Display Question Number : Yes  
Single Line Question Option : No Option Orientation : Vertical

Correct Marks : 1 Wrong Marks : 0.25

Match the following.

a. Prison Department	1. Training in vermicomposting
b. Agricultural department	2. Training in development of crop seeds
c. Seed Development Corporation	3. Procurement of fertilizer and pesticide

Options :

1. ✖ a-2, b-1, c-3

2. ✔ a-2, b-3, c-1

3. ✖ a-3, b-1, c-2

4. ✖ a-1, b-3, c-2

Question Number : 79 Question Id : 1626531705 Question Type : MCQ Option Shuffling : Yes Display Question Number : Yes  
Single Line Question Option : No Option Orientation : Vertical

Correct Marks : 1 Wrong Marks : 0.25

For training in vermicomposting, those prisons have been selected which:

Options :

1. ✖ have short term serving inmates

2. ✖ can buy fertilizer and pesticide

3. ✔ have agricultural land

4. ✖ have cattle and sell dairy products

Question Number : 80 Question Id : 1626531706 Question Type : MCQ Option Shuffling : Yes Display Question Number : Yes  
Single Line Question Option : No Option Orientation : Vertical

Correct Marks : 1 Wrong Marks : 0.25

In the development of crop seeds, which of the following steps comes first?

Options :

1. ✖ Certifying the seeds.



2. ✖ Procuring the foundation seeds.

3. ✖ Producing the crop seeds.

4. ✔ Testing the seeds.

**Question Id : 1626531701 Question Type : COMPREHENSION Sub Question Shuffling Allowed : Yes Group Comprehension Questions : No**

**Question Numbers : (76 to 80)**

**Question Label : Comprehension**



Read the following passage and answer the questions given after it.

Soon nine prisons across Uttar Pradesh could see inmates receive training in developing crop seeds, even as prisoners in 12 other jails learn vermicomposting, as part of an initiative of the Prison Department, Seed Development Corporation and Agriculture Department.

Besides providing inmates an extra source of income inside the prison, authorities are hopeful the skills they pick up could prove handy for them after their release. For now, inmates with an agricultural background and serving short-term sentences will be selected for the training.

Around 30 inmates each in nine prisons would learn development of crop seeds, while five each in 12 jails would be trained in vermicomposting. A Memorandum of Understanding (MoU) in this regard was signed between the Managing Director (MD) of the Uttar Pradesh Seed Development Corporation, Director of the Agriculture Department, and Additional Director General (ADG), Prisons.

Officials estimate around ₹ 35,000 can be earned per hectare in seed production, after removing the investment cost.

ADG (Prisons) Chandra Prakash said “The main motive is to make positive and constructive use of the time of inmates, develop their skills, and give them a way to make an earning when they are released”.

Nine prisons which had land where inmates could grow crops were selected for seed development training. Similarly, the 12 prisons selected for vermicompost training have cattle and sell dairy products.

“The training for seed development is not that rigorous and just one day is enough to teach someone. However, apart from the one-day training by the district agriculture officer or the district deputy agriculture director, seed development officials and the Seed Certification Department would hold inspections to check the development of seeds. The same would be the case with vermicomposting,” Seed Corporation MD Santosh Khare said. “Prisons would have to purchase the fertilisers and pesticides themselves, but the foundation seeds would be provided by us on credit. After the certified seeds (the final produce, to be used by farmers as seeds) are ready, we will do two quality tests and buy at the current market rate. We would also take the seed leftovers and sell them. Later we will deduct the credit amount and pay the prisons accordingly. That amount would be distributed to inmates who produced the seeds. The vermicompost would be sold by the prison itself,” the MD added.

### Sub questions

Question Number : 76 Question Id : 1626531702 Question Type : MCQ Option Shuffling : Yes Display Question Number : Yes  
Single Line Question Option : No Option Orientation : Vertical

Correct Marks : 1 Wrong Marks : 0.25

From the reading of the passage it can be inferred  
that it is:

Options :

1. ✖ an article
2. ✖ a news item
3. ✔ a report
4. ✖ a news story

Question Number : 77 Question Id : 1626531703 Question Type : MCQ Option Shuffling : Yes Display Question Number : Yes  
Single Line Question Option : No Option Orientation : Vertical

Correct Marks : 1 Wrong Marks : 0.25

The three bodies that signed the MOU are:

Options :

1. ✖ Seed Development Corporation, Agriculture  
Department and Seed Certification Department.
2. ✖ Seed Development Corporation, Seed Certification  
Department and Prison Department.
3. ✖ Seed Certification Department, Agriculture  
Department and Prison Department.
4. ✔ Seed Development Corporation, Agriculture  
Department and Prison Department.

Question Number : 78 Question Id : 1626531704 Question Type : MCQ Option Shuffling : Yes Display Question Number : Yes  
Single Line Question Option : No Option Orientation : Vertical

Correct Marks : 1 Wrong Marks : 0.25

Match the following.

a. Prison Department	1. Training in vermicomposting
b. Agricultural department	2. Training in development of crop seeds
c. Seed Development Corporation	3. Procurement of fertilizer and pesticide

Options :

1. ✖ a-2, b-1, c-3

2. ✔ a-2, b-3, c-1

3. ✖ a-3, b-1, c-2

4. ✖ a-1, b-3, c-2

Question Number : 79 Question Id : 1626531705 Question Type : MCQ Option Shuffling : Yes Display Question Number : Yes  
Single Line Question Option : No Option Orientation : Vertical

Correct Marks : 1 Wrong Marks : 0.25

For training in vermicomposting, those prisons have been selected which:

Options :

1. ✖ have short term serving inmates

2. ✖ can buy fertilizer and pesticide

3. ✔ have agricultural land

4. ✖ have cattle and sell dairy products

Question Number : 80 Question Id : 1626531706 Question Type : MCQ Option Shuffling : Yes Display Question Number : Yes  
Single Line Question Option : No Option Orientation : Vertical

Correct Marks : 1 Wrong Marks : 0.25

In the development of crop seeds, which of the following steps comes first?

Options :

1. ✖ Certifying the seeds.

2. ✖ Procuring the foundation seeds.
3. ✖ Producing the crop seeds.
4. ✔ Testing the seeds.

#### General Hindi

Group Number :	5
Group Id :	16265385
Group Maximum Duration :	0
Group Minimum Duration :	0
Revisit allowed for view? :	No
Revisit allowed for edit? :	No
Break time:	0
Group Marks:	20
Revisit allowed for group Instructions? :	Yes
Maximum Instruction Time:	0
Minimum Instruction Time:	0

#### General Hindi

Section Id :	16265385
Section Number :	1
Section type :	Online
Mandatory or Optional:	Mandatory
Number of Questions:	16
Number of Questions to be attempted:	16
Section Marks:	20
Display Number Panel:	Yes
Group All Questions:	No

Sub-Section Number:	1
Sub-Section Id:	162653112
Question Shuffling Allowed :	Yes

Question Id : 1626531707 Question Type : COMPREHENSION Sub Question Shuffling Allowed : Yes Group Comprehension Questions : No  
 Question Numbers : (81 to 85)  
 Question Label : Comprehension

नीचे दिये गए गद्यांश को पढ़कर पूछे गये प्रश्नों के उत्तर दीजिए।

श्री हरिकृष्ण प्रेमी के शिवासाधना और रक्षाबंधन नाटक प्रसिद्ध हैं। श्री प्रेमी के नाटकों के कथोपकथन स्वाभाविक हैं। शिवासाधना छत्रपति शिवाजी के जीवन पर है और रक्षाबंधन इस प्रसिद्ध ऐतिहासिक अनुश्रुति पर कि मेवाड़ की महारानी कर्मवती द्वारा राखी भेजने पर हुमायूँ ने गुजरात शासक बहादुरशाह को युद्ध में पराजित करके अपनी धर्म-बहन की रक्षा की थी। दोनों नाटकों पर स्वाधीनता आंदोलन के विचारों का प्रभाव स्पष्ट है।

Sub questions

Question Number : 81 Question Id : 1626531708 Question Type : MCQ Option Shuffling : Yes Display Question Number : Yes  
Single Line Question Option : No Option Orientation : Vertical

Correct Marks : 1 Wrong Marks : 0.25

‘शिवा साधना’ नाटक के लेखक कौन हैं?

Options :

1. ✖ जयशंकर प्रसाद
2. ✔ हरिकृष्ण प्रेमी
3. ✖ लक्ष्मीनारायण मिश्र
4. ✖ मोहन राकेश

Question Number : 82 Question Id : 1626531709 Question Type : MCQ Option Shuffling : Yes Display Question Number : Yes  
Single Line Question Option : No Option Orientation : Vertical

Correct Marks : 1 Wrong Marks : 0.25

‘रक्षाबंधन’ नाटक का सम्बन्ध किस शासक से है?

Options :

1. ✔ हुमायूँ
2. ✖ अकबर
3. ✖ जहाँगीर
4. ✖ शाहजहाँ

Question Number : 83 Question Id : 1626531710 Question Type : MCQ Option Shuffling : Yes Display Question Number : Yes  
Single Line Question Option : No Option Orientation : Vertical

Correct Marks : 1 Wrong Marks : 0.25

गद्यांश में मेवाड़ की महारानी कौन थीं?

Options :

1. ✖ रूपवती
2. ✖ धर्मवती
3. ✔ कर्मवती
4. ✖ राजमती

Question Number : 84 Question Id : 1626531711 Question Type : MCQ Option Shuffling : Yes Display Question Number : Yes  
Single Line Question Option : No Option Orientation : Vertical

Correct Marks : 1 Wrong Marks : 0.25

बहादुरशाह कहाँ का शासक था?

Options :

1. ✖ महाराष्ट्र
2. ✖ उड़ीसा
3. ✖ राजस्थान
4. ✔ गुजरात

Question Number : 85 Question Id : 1626531712 Question Type : MCQ Option Shuffling : Yes Display Question Number : Yes  
Single Line Question Option : No Option Orientation : Vertical

Correct Marks : 1 Wrong Marks : 0.25

गद्यांश में उल्लिखित नाटकों पर किसका प्रभाव है?

Options :

1. ✖ धार्मिक आन्दोलन
2. ✖ राजनीतिक आन्दोलन
3. ✔ स्वाधीनता आन्दोलन
4. ✖ किसान आन्दोलन

Question Id : 1626531707 Question Type : COMPREHENSION Sub Question Shuffling Allowed : Yes Group Comprehension  
Questions : No



Question Numbers : (81 to 85)

Question Label : Comprehension

नीचे दिये गए गद्यांश को पढ़कर पूछे गये प्रश्नों के उत्तर दीजिए।

श्री हरिकृष्ण प्रेमी के शिवासाधना और रक्षाबंधन नाटक प्रसिद्ध हैं। श्री प्रेमी के नाटकों के कथोपकथन स्वाभाविक हैं। शिवासाधना छत्रपति शिवाजी के जीवन पर है और रक्षाबंधन इस प्रसिद्ध ऐतिहासिक अनुश्रुति पर कि मेवाड़ की महारानी कर्मवती द्वारा राखी भेजने पर हुमायूँ ने गुजरात शासक बहादुरशाह को युद्ध में पराजित करके अपनी धर्म-बहन की रक्षा की थी। दोनों नाटकों पर स्वाधीनता आंदोलन के विचारों का प्रभाव स्पष्ट है।

Sub questions

Question Number : 81 Question Id : 1626531708 Question Type : MCQ Option Shuffling : Yes Display Question Number : Yes  
Single Line Question Option : No Option Orientation : Vertical

Correct Marks : 1 Wrong Marks : 0.25

‘शिवा साधना’ नाटक के लेखक कौन हैं?

Options :

1. ✖ जयशंकर प्रसाद
2. ✔ हरिकृष्ण प्रेमी
3. ✖ लक्ष्मीनारायण मिश्र
4. ✖ मोहन राकेश

Question Number : 82 Question Id : 1626531709 Question Type : MCQ Option Shuffling : Yes Display Question Number : Yes  
Single Line Question Option : No Option Orientation : Vertical

Correct Marks : 1 Wrong Marks : 0.25

‘रक्षाबंधन’ नाटक का सम्बन्ध किस शासक से है?

Options :

1. ✔ हुमायूँ
2. ✖ अकबर
3. ✖ जहाँगीर
4. ✖ शाहजहाँ

Question Number : 83 Question Id : 1626531710 Question Type : MCQ Option Shuffling : Yes Display Question Number : Yes  
Single Line Question Option : No Option Orientation : Vertical  
Correct Marks : 1 Wrong Marks : 0.25

गद्यांश में मेवाड़ की महारानी कौन थीं?

Options :

1. ✖ रूपवती
2. ✖ धर्मवती
3. ✔ कर्मवती
4. ✖ राजमती

Question Number : 84 Question Id : 1626531711 Question Type : MCQ Option Shuffling : Yes Display Question Number : Yes  
Single Line Question Option : No Option Orientation : Vertical  
Correct Marks : 1 Wrong Marks : 0.25

बहादुरशाह कहाँ का शासक था?

Options :

1. ✖ महाराष्ट्र
2. ✖ उड़ीसा
3. ✖ राजस्थान
4. ✔ गुजरात

Question Number : 85 Question Id : 1626531712 Question Type : MCQ Option Shuffling : Yes Display Question Number : Yes  
Single Line Question Option : No Option Orientation : Vertical  
Correct Marks : 1 Wrong Marks : 0.25

गद्यांश में उल्लिखित नाटकों पर किसका प्रभाव है?

Options :

1. ✖ धार्मिक आन्दोलन
2. ✖ राजनीतिक आन्दोलन
3. ✔ स्वाधीनता आन्दोलन
4. ✖ किसान आन्दोलन

Sub-Section Number: 2  
Sub-Section Id: 162653113  
Question Shuffling Allowed : Yes

Question Number : 86 Question Id : 1626531713 Question Type : MCQ Option Shuffling : Yes Display Question Number : Yes  
Single Line Question Option : No Option Orientation : Vertical  
Correct Marks : 1 Wrong Marks : 0.25

निम्न में कौन सा शब्द तत्सम है?

Options :

1. ✖ तोड़ना
2. ✔ स्तन
3. ✖ तौंद
4. ✖ तेल

Question Number : 86 Question Id : 1626531713 Question Type : MCQ Option Shuffling : Yes Display Question Number : Yes  
Single Line Question Option : No Option Orientation : Vertical  
Correct Marks : 1 Wrong Marks : 0.25

निम्न में कौन सा शब्द तत्सम है?

Options :

1. ✖ तोड़ना
2. ✔ स्तन
3. ✖ तौंद
4. ✖ तेल

Question Number : 87 Question Id : 1626531714 Question Type : MCQ Option Shuffling : Yes Display Question Number : Yes  
Single Line Question Option : No Option Orientation : Vertical  
Correct Marks : 1 Wrong Marks : 0.25

निम्न में कौन सा शब्द तद्भव है?

Options :

1. ✖ घोटक
2. ✖ घृत

3. ✖ घृणा

4. ✔ चिड़िया

Question Number : 87 Question Id : 1626531714 Question Type : MCQ Option Shuffling : Yes Display Question Number : Yes  
Single Line Question Option : No Option Orientation : Vertical

Correct Marks : 1 Wrong Marks : 0.25

निम्न में कौन सा शब्द तद्भव है?

Options :

1. ✖ घोटक

2. ✖ घृत

3. ✖ घृणा

4. ✔ चिड़िया

Question Number : 88 Question Id : 1626531715 Question Type : MCQ Option Shuffling : Yes Display Question Number : Yes  
Single Line Question Option : No Option Orientation : Vertical

Correct Marks : 1 Wrong Marks : 0.25

निम्न में कौन सा शब्द देशज है?

Options :

1. ✔ पगड़ी

2. ✖ कुश्ती

3. ✖ इज्जत

4. ✖ काउन्सिल

Question Number : 88 Question Id : 1626531715 Question Type : MCQ Option Shuffling : Yes Display Question Number : Yes  
Single Line Question Option : No Option Orientation : Vertical

Correct Marks : 1 Wrong Marks : 0.25

निम्न में कौन सा शब्द देशज है?

Options :

1. ✔ पगड़ी

2. ✖ कुश्ती

3. ✖ इज्जत

4. ✖ काउन्सिल

Question Number : 89 Question Id : 1626531716 Question Type : MCQ Option Shuffling : Yes Display Question Number : Yes  
Single Line Question Option : No Option Orientation : Vertical

Correct Marks : 1 Wrong Marks : 0.25

‘मित्रता’ किस प्रकार की संज्ञा है?

Options :

1. ✖ जातिवाचक

2. ✖ व्यक्तिवाचक

3. ✔ भाववाचक

4. ✖ पदार्थवाचक

Question Number : 89 Question Id : 1626531716 Question Type : MCQ Option Shuffling : Yes Display Question Number : Yes  
Single Line Question Option : No Option Orientation : Vertical

Correct Marks : 1 Wrong Marks : 0.25

‘मित्रता’ किस प्रकार की संज्ञा है?

Options :

1. ✖ जातिवाचक

2. ✖ व्यक्तिवाचक

3. ✔ भाववाचक

4. ✖ पदार्थवाचक

Question Number : 90 Question Id : 1626531717 Question Type : MCQ Option Shuffling : Yes Display Question Number : Yes  
Single Line Question Option : No Option Orientation : Vertical

Correct Marks : 1 Wrong Marks : 0.25

‘सुन्दर’ किस प्रकार का विशेषण है?

Options :

1. ✖ सार्वनामिक

2. ✖ परिमाण बोधक

3. ✖ संख्यावाचक

4. ✔ भाववाचक

Question Number : 90 Question Id : 1626531717 Question Type : MCQ Option Shuffling : Yes Display Question Number : Yes  
Single Line Question Option : No Option Orientation : Vertical

Correct Marks : 1 Wrong Marks : 0.25

‘सुन्दर’ किस प्रकार का विशेषण है?

Options :

1. ✖ सार्वनामिक

2. ✖ परिमाण बोधक

3. ✖ संख्यावाचक

4. ✔ भाववाचक

Question Number : 91 Question Id : 1626531718 Question Type : MCQ Option Shuffling : Yes Display Question Number : Yes  
Single Line Question Option : No Option Orientation : Vertical

Correct Marks : 1 Wrong Marks : 0.25

‘उद्भव’ का संधि विच्छेद होगा:

Options :

1. ✔ उत् + भाव

2. ✖ उत् + भाव

3. ✖ उद् + भव

4. ✖ उद् + भाव

Question Number : 91 Question Id : 1626531718 Question Type : MCQ Option Shuffling : Yes Display Question Number : Yes  
Single Line Question Option : No Option Orientation : Vertical

Correct Marks : 1 Wrong Marks : 0.25

‘उद्भव’ का संधि विच्छेद होगा:

Options :

1. ✔ उत् + भाव

2. ✖ उत् + भाव



3. ✖ उद् + भव

4. ✖ उद् + भाव

Question Number : 92 Question Id : 1626531719 Question Type : MCQ Option Shuffling : Yes Display Question Number : Yes  
Single Line Question Option : No Option Orientation : Vertical

Correct Marks : 1 Wrong Marks : 0.25

‘शोकाकुल’ में कौन सा समास है?

Options :

1. ✖ अव्ययीभाव

2. ✔ तत्पुरुष

3. ✖ द्वन्द्व

4. ✖ दविगु

Question Number : 92 Question Id : 1626531719 Question Type : MCQ Option Shuffling : Yes Display Question Number : Yes  
Single Line Question Option : No Option Orientation : Vertical

Correct Marks : 1 Wrong Marks : 0.25

‘शोकाकुल’ में कौन सा समास है?

Options :

1. ✖ अव्ययीभाव

2. ✔ तत्पुरुष

3. ✖ द्वन्द्व

4. ✖ दविगु

Question Number : 93 Question Id : 1626531720 Question Type : MCQ Option Shuffling : Yes Display Question Number : Yes  
Single Line Question Option : No Option Orientation : Vertical

Correct Marks : 1 Wrong Marks : 0.25

निम्न में से कौन सा शब्द पुलिङ्ग नहीं है?

Options :

1. ✖ संहार

2. ✖ समीर

3. ✔ सड़क

4. ✖ सरोवर

Question Number : 93 Question Id : 1626531720 Question Type : MCQ Option Shuffling : Yes Display Question Number : Yes  
Single Line Question Option : No Option Orientation : Vertical

Correct Marks : 1 Wrong Marks : 0.25

निम्न में से कौन सा शब्द पुलिंग नहीं है?

Options :

1. ✖ संहार

2. ✖ समीर

3. ✔ सड़क

4. ✖ सरोवर

Question Number : 94 Question Id : 1626531721 Question Type : MCQ Option Shuffling : Yes Display Question Number : Yes  
Single Line Question Option : No Option Orientation : Vertical

Correct Marks : 1 Wrong Marks : 0.25

‘विकास’ में उपसर्ग क्या है?

Options :

1. ✖ स

2. ✖ आस

3. ✖ व

4. ✔ वि

Question Number : 94 Question Id : 1626531721 Question Type : MCQ Option Shuffling : Yes Display Question Number : Yes  
Single Line Question Option : No Option Orientation : Vertical

Correct Marks : 1 Wrong Marks : 0.25

‘विकास’ में उपसर्ग क्या है?

Options :

1. ✖ स

2. ✖ आस

3. ✖ व

4. ✔ वि

Question Number : 95 Question Id : 1626531722 Question Type : MCQ Option Shuffling : Yes Display Question Number : Yes  
Single Line Question Option : No Option Orientation : Vertical  
Correct Marks : 1 Wrong Marks : 0.25

‘बुद्धिमान्’ में प्रत्यय क्या है?

Options :

1. ✔ मान्

2. ✖ आन्

3. ✖ मन्

4. ✖ अन्

Question Number : 95 Question Id : 1626531722 Question Type : MCQ Option Shuffling : Yes Display Question Number : Yes  
Single Line Question Option : No Option Orientation : Vertical  
Correct Marks : 1 Wrong Marks : 0.25

‘बुद्धिमान्’ में प्रत्यय क्या है?

Options :

1. ✔ मान्

2. ✖ आन्

3. ✖ मन्

4. ✖ अन्

Question Number : 96 Question Id : 1626531723 Question Type : MCQ Option Shuffling : Yes Display Question Number : Yes  
Single Line Question Option : No Option Orientation : Vertical  
Correct Marks : 1 Wrong Marks : 0.25

निम्न में से कौन सा शब्द ‘मछली’ का पर्यायवाची नहीं है?

Options :

1. ✖ सफरी

2. ✔ गाछ

3. ✖ झष

4. ✖ मत्स्य

Question Number : 96 Question Id : 1626531723 Question Type : MCQ Option Shuffling : Yes Display Question Number : Yes  
Single Line Question Option : No Option Orientation : Vertical

Correct Marks : 1 Wrong Marks : 0.25

निम्न में से कौन सा शब्द 'मछली' का पर्यायवाची नहीं है?

Options :

1. ✖ सफरी

2. ✔ गाछ

3. ✖ झष

4. ✖ मत्स्य

Question Number : 97 Question Id : 1626531724 Question Type : MCQ Option Shuffling : Yes Display Question Number : Yes  
Single Line Question Option : No Option Orientation : Vertical

Correct Marks : 1 Wrong Marks : 0.25

'आसक्त' का विलोम क्या होगा?

Options :

1. ✔ विरक्त

2. ✖ रक्त

3. ✖ सक्त

4. ✖ अनुराग

Question Number : 97 Question Id : 1626531724 Question Type : MCQ Option Shuffling : Yes Display Question Number : Yes  
Single Line Question Option : No Option Orientation : Vertical

Correct Marks : 1 Wrong Marks : 0.25

'आसक्त' का विलोम क्या होगा?

Options :

1. ✔ विरक्त

2. ✖ रक्त

3. ✖ सक्त

4. ✖ अनुराग

Question Number : 98 Question Id : 1626531725 Question Type : MCQ Option Shuffling : Yes Display Question Number : Yes  
Single Line Question Option : No Option Orientation : Vertical  
Correct Marks : 1 Wrong Marks : 0.25

‘जिसका अनुभव इन्द्रियों द्वारा न हो सकता हो’ के लिए एक शब्द कौन सा होगा?

Options :

1. ✖ इन्द्रिय

2. ✔ अतीन्द्रिय

3. ✖ अगम्य

4. ✖ अदृश्य

Question Number : 98 Question Id : 1626531725 Question Type : MCQ Option Shuffling : Yes Display Question Number : Yes  
Single Line Question Option : No Option Orientation : Vertical  
Correct Marks : 1 Wrong Marks : 0.25

‘जिसका अनुभव इन्द्रियों द्वारा न हो सकता हो’ के लिए एक शब्द कौन सा होगा?

Options :

1. ✖ इन्द्रिय

2. ✔ अतीन्द्रिय

3. ✖ अगम्य

4. ✖ अदृश्य

Question Number : 99 Question Id : 1626531726 Question Type : MCQ Option Shuffling : Yes Display Question Number : Yes  
Single Line Question Option : No Option Orientation : Vertical  
Correct Marks : 1 Wrong Marks : 0.25


निम्न में कौन सा वाक्य शुद्ध है?

Options :

1. ✖ वे अभी अभी खाना खाये हैं।

2. ✖ मैं कुछ का कुछ लिख दिया हूँ।

3. ✖ आप अवश्य सुने होंगे।





4.  मुझसे कहा गया था।

Question Number : 99 Question Id : 1626531726 Question Type : MCQ Option Shuffling : Yes Display Question Number : Yes  
Single Line Question Option : No Option Orientation : Vertical

Correct Marks : 1 Wrong Marks : 0.25

निम्न में कौन सा वाक्य शुद्ध है?

Options :

1.  वे अभी अभी खाना खाये हैं।
2.  मैं कुछ का कुछ लिख दिया हूँ।
3.  आप अवश्य सुने होंगे।
4.  मुझसे कहा गया था।

Question Number : 100 Question Id : 1626531727 Question Type : MCQ Option Shuffling : Yes Display Question Number : Yes  
Single Line Question Option : No Option Orientation : Vertical

Correct Marks : 1 Wrong Marks : 0.25

निम्न में वर्तनी की दृष्टि से शुद्ध शब्द कौन सा है?

Options :


1.  पुस्पांजली
2.  पुष्पांजली
3.  पुष्पांजलि
4.  पुस्पांजलि

Question Number : 100 Question Id : 1626531727 Question Type : MCQ Option Shuffling : Yes Display Question Number : Yes  
Single Line Question Option : No Option Orientation : Vertical

Correct Marks : 1 Wrong Marks : 0.25

निम्न में वर्तनी की दृष्टि से शुद्ध शब्द कौन सा है?

Options :

1.  पुस्पांजली



2. ✖ पुष्पांजली

3. ✔ पुष्पांजलि

4. ✖ पुष्पांजलि

#### Subject Related

Group Number :	6
Group Id :	16265386
Group Maximum Duration :	0
Group Minimum Duration :	0
Revisit allowed for view? :	No
Revisit allowed for edit? :	No
Break time:	0
Group Marks:	20
Revisit allowed for group Instructions? :	Yes
Maximum Instruction Time:	0
Minimum Instruction Time:	0

#### Subject Related

Section Id :	16265386
Section Number :	1
Section type :	Online
Mandatory or Optional:	Mandatory
Number of Questions:	20
Number of Questions to be attempted:	20
Section Marks:	20
Display Number Panel:	Yes
Group All Questions:	No

Sub-Section Number:	1
Sub-Section Id:	162653114
Question Shuffling Allowed :	Yes

Question Number : 101 Question Id : 1626531728 Question Type : MCQ Option Shuffling : Yes Display Question Number : Yes  
Single Line Question Option : No Option Orientation : Vertical

Correct Marks : 1 Wrong Marks : 0.25

Who said, 'guided discovery learning is more beneficial for students'?

Options :

1. ✔ Piaget

2. ✖ Vygotsky

3. ✖ Dewey

4. ✖ Kohler

Question Number : 101 Question Id : 1626531728 Question Type : MCQ Option Shuffling : Yes Display Question Number : Yes  
Single Line Question Option : No Option Orientation : Vertical

Correct Marks : 1 Wrong Marks : 0.25

किसने कहा था: मार्गदर्शित खोज से सीखना छात्रों के लिए अधिक लाभकारी है?

Options :

1. ✔ पिगेट

2. ✖ विगोस्की

3. ✖ डेवी

4. ✖ कोहलर

Question Number : 102 Question Id : 1626531729 Question Type : MCQ Option Shuffling : Yes Display Question Number : Yes  
Single Line Question Option : No Option Orientation : Vertical

Correct Marks : 1 Wrong Marks : 0.25

According to Piaget, a child in the age group of 2 – 7 years is in the \_\_\_\_\_ stage of cognitive development.

Options :

1. ✖ Concrete operational

2. ✔ Preoperational

3. ✖ Sensory motor

4. ✖ Formal operational

Question Number : 102 Question Id : 1626531729 Question Type : MCQ Option Shuffling : Yes Display Question Number : Yes  
Single Line Question Option : No Option Orientation : Vertical

Correct Marks : 1 Wrong Marks : 0.25

पिगेट के अनुसार, 2 - 7 वर्ष के आयु समूह में एक बच्चा संज्ञानात्मक विकास के \_\_\_\_\_ चरण में होता है।

Options :

1. ✖ ठोस प्रचालन संबंधी

2. ✓ पूर्व प्रचालन संबंधी

3. ✗ संवेदी प्रेरक

4. ✗ औपचारिक प्रचालन संबंधी

Question Number : 103 Question Id : 1626531730 Question Type : MCQ Option Shuffling : Yes Display Question Number : Yes  
Single Line Question Option : No Option Orientation : Vertical

Correct Marks : 1 Wrong Marks : 0.25

Vygotsky's term that represents the gap between what children can do on their own and what they can do with the assistance of others is called:

Options :

1. ✓ Zone of Proximal Distance

2. ✗ Scaffolding

3. ✗ More Knowledgeable other

4. ✗ Social interaction

Question Number : 103 Question Id : 1626531730 Question Type : MCQ Option Shuffling : Yes Display Question Number : Yes  
Single Line Question Option : No Option Orientation : Vertical

Correct Marks : 1 Wrong Marks : 0.25

बच्चे जो अपने आप कर सकते हैं तथा जो दूसरों की मदद से कर सकते हैं उसके बीच अंतराल को प्रदर्शित करने वाले विगोस्की के पारिभाषिक शब्द को क्या कहते हैं?

Options :

1. ✓ समीपस्थ दूरी का क्षेत्र

2. ✗ खाका

3. ✗ अधिक जानकारी अन्य

4. ✗ सामाजिक बातचीत

Question Number : 104 Question Id : 1626531731 Question Type : MCQ Option Shuffling : Yes Display Question Number : Yes  
Single Line Question Option : No Option Orientation : Vertical

Correct Marks : 1 Wrong Marks : 0.25

What is the Vygotsky's view of cognitive development?

Options :

1. ✗ He saw development as genetically predetermined.

2. ✖ He saw development as a sequence of learning-stimuli- response association.

3. ✖ He saw development as a subject to mutation during its course.

4. ✔

He proposed that intellectual development can be understood in terms of the historical and cultural context children experience.

Question Number : 104 Question Id : 1626531731 Question Type : MCQ Option Shuffling : Yes Display Question Number : Yes  
Single Line Question Option : No Option Orientation : Vertical

Correct Marks : 1 Wrong Marks : 0.25

विगोस्की का संज्ञानात्मक विकास का दृष्टिकोण क्या है?

Options :

1. ✖ उन्होंने विकास को आनुवांशिक रूप से पूर्वनिर्धारित के रूप में देखा।

2. ✖ उन्होंने विकास को सीखने-प्रोत्साहन-प्रतिक्रिया मेल के अनुक्रम में देखा।

3. ✖ उन्होंने विकास को इसकी प्रगति के दौरान उत्परिवर्तन के तहत के रूप में देखा।

4. ✔

उन्होंने प्रस्तावित किया कि बौद्धिक विकास को बच्चों द्वारा अनुभव किए जाने वाले ऐतिहासिक और सांस्कृतिक संदर्भ के रूप में समझा जा सकता है।

Question Number : 105 Question Id : 1626531732 Question Type : MCQ Option Shuffling : Yes Display Question Number : Yes  
Single Line Question Option : No Option Orientation : Vertical

Correct Marks : 1 Wrong Marks : 0.25

According to Vygotsky, what is the process of constructing an internal representation of external physical objects or actions?

Options :

1. ✔ Internalization

2. ✖ Externalization

3. ✖ Scaffolding

4. ✖ Naïve psychology

Question Number : 105 Question Id : 1626531732 Question Type : MCQ Option Shuffling : Yes Display Question Number : Yes  
Single Line Question Option : No Option Orientation : Vertical

Correct Marks : 1 Wrong Marks : 0.25

विगोस्की के अनुसार, बाह्य भौतिक वस्तुओं या क्रियाओं के आंतरिक निरूपण के निर्माण की प्रक्रिया क्या है?

Options :

1. ✓ समावेशन
2. ✗ बाह्यीकरण
3. ✗ खाका बनाना
4. ✗ सरल मनोविज्ञान

Question Number : 106 Question Id : 1626531733 Question Type : MCQ Option Shuffling : Yes Display Question Number : Yes  
Single Line Question Option : No Option Orientation : Vertical

Correct Marks : 1 Wrong Marks : 0.25

A major goal of education is to help learners store information in \_\_\_\_\_ and to use that information on later occasions in order to effectively solve problems.

Options :

1. ✗ short term memory
2. ✓ long term memory
3. ✗ sensory memory
4. ✗ memory

Question Number : 106 Question Id : 1626531733 Question Type : MCQ Option Shuffling : Yes Display Question Number : Yes  
Single Line Question Option : No Option Orientation : Vertical

Correct Marks : 1 Wrong Marks : 0.25

शिक्षा का प्रमुख लक्ष्य शिक्षार्थियों को जानकारी \_\_\_\_\_ में संचित करने में मदद करना तथा बाद के अवसरों पर प्रभावी ढंग से समस्याओं को हल करने के लिए उस जानकारी का प्रयोग करना है।

Options :

1. ✗ अल्पकालिक स्मृति
2. ✓ दीर्घकालिक स्मृति
3. ✗ संवेदी स्मृति
4. ✗ स्मृति

Question Number : 107 Question Id : 1626531734 Question Type : MCQ Option Shuffling : Yes Display Question Number : Yes  
Single Line Question Option : No Option Orientation : Vertical

Correct Marks : 1 Wrong Marks : 0.25

What is the term used to describe the tendency to analyze oneself and one's own thoughts?



Options :

1. ☒ Metacognition
2. ☐ Intuitive
3. ☐ Critical
4. ☐ Creative

Question Number : 107 Question Id : 1626531734 Question Type : MCQ Option Shuffling : Yes Display Question Number : Yes  
Single Line Question Option : No Option Orientation : Vertical

Correct Marks : 1 Wrong Marks : 0.25

अपने आप का और अपने खुद के विचारों का विश्लेषण करने के लिए प्रवृत्ति का वर्णन करने हेतु प्रयुक्त शब्द क्या है?

Options :

1. ☒ मेटाकॉग्निशन
2. ☐ अंतर्ज्ञानी
3. ☐ आलोचनात्मक
4. ☐ रचनात्मक

Question Number : 108 Question Id : 1626531735 Question Type : MCQ Option Shuffling : Yes Display Question Number : Yes  
Single Line Question Option : No Option Orientation : Vertical

Correct Marks : 1 Wrong Marks : 0.25

Parents who have high expectations and impose firm controls, yet are also warm and responsive to their children, are known as \_\_\_\_\_ parents.

Options :

1. ☒ authoritative
2. ☐ authoritarian
3. ☐ democratic
4. ☐ natural

Question Number : 108 Question Id : 1626531735 Question Type : MCQ Option Shuffling : Yes Display Question Number : Yes  
Single Line Question Option : No Option Orientation : Vertical

Correct Marks : 1 Wrong Marks : 0.25

जो माता-पिता बहुत ही उमीदें रखते हैं तथा कड़े नियंत्रण लगाते हैं, फिर भी अपने बच्चों के प्रति हार्दिक और जिम्मेदार होते हैं, उन्हें कैसे माता - पिता के रूप में जाना जाता है?



Options :

1. ☒ सत्तावादी
2. ☐ अधिकारवादी
3. ☐ जनतंत्रवादी
4. ☐ स्वाभाविक

Question Number : 109 Question Id : 1626531736 Question Type : MCQ Option Shuffling : Yes Display Question Number : Yes  
Single Line Question Option : No Option Orientation : Vertical

Correct Marks : 1 Wrong Marks : 0.25

What does the trial and error method of learning implies?

Options :

1. ☐ Learning is insightful.
2. ☒ Learning is incremental.
3. ☐ Learning is independent.
4. ☐ Learning is indirect.

Question Number : 109 Question Id : 1626531736 Question Type : MCQ Option Shuffling : Yes Display Question Number : Yes  
Single Line Question Option : No Option Orientation : Vertical

Correct Marks : 1 Wrong Marks : 0.25

सीखने की परीक्षण और त्रुटि विधि का अर्थ क्या है?

Options :

1. ☐ सीखना अंतर्दृष्टिपूर्ण है।
2. ☒ सीखना वृद्धिशील है।
3. ☐ सीखना स्वतंत्र है।
4. ☐ सीखना अप्रत्यक्ष है।

Question Number : 110 Question Id : 1626531737 Question Type : MCQ Option Shuffling : Yes Display Question Number : Yes  
Single Line Question Option : No Option Orientation : Vertical

Correct Marks : 1 Wrong Marks : 0.25

According to Thorndike, if there are more modifiable connection between stimuli and response, the connections are increased. This is due to law of \_\_\_\_\_.

Options :

1. ☒ exercise
2. ☐ effect
3. ☐ readiness
4. ☐ response

Question Number : 110 Question Id : 1626531737 Question Type : MCQ Option Shuffling : Yes Display Question Number : Yes  
Single Line Question Option : No Option Orientation : Vertical

Correct Marks : 1 Wrong Marks : 0.25

थोर्नडिक के अनुसार यदि उत्तेजना और प्रतिक्रिया के बीच अधिक संशोधनीय संपर्क हैं तो संपर्क बढ़ जाते हैं। यह \_\_\_\_\_ का नियम के कारण होता है।

Options :

1. ☒ अभ्यास
2. ☐ प्रभाव
3. ☐ तत्परता
4. ☐ प्रतिक्रिया

Question Number : 111 Question Id : 1626531738 Question Type : MCQ Option Shuffling : Yes Display Question Number : Yes  
Single Line Question Option : No Option Orientation : Vertical

Correct Marks : 1 Wrong Marks : 0.25

The class teacher observed Ram enjoy singing and composing songs. The teacher concluded that Ram seemed to be high in \_\_\_\_\_ intelligence.

Options :

1. ☐ people skills
2. ☐ spatial
3. ☒ musical
4. ☐ bodily-kinesthetic

Question Number : 111 Question Id : 1626531738 Question Type : MCQ Option Shuffling : Yes Display Question Number : Yes  
Single Line Question Option : No Option Orientation : Vertical

Correct Marks : 1 Wrong Marks : 0.25

कक्षा के शिक्षक ने राम को गाने का आनंद लेते हुए तथा गानों की रचना करते हुए देखा। शिक्षक ने निष्कर्ष निकाला कि राम \_\_\_\_\_ प्रतिभा में उच्च प्रतीत होता है।

Options :

1. ✖ जन कौशल
2. ✖ स्थानिक
3. ✔ संगीत संबंधी
4. ✖ शारीरिक - गतिसंवेदी

Question Number : 112 Question Id : 1626531739 Question Type : MCQ Option Shuffling : Yes Display Question Number : Yes  
Single Line Question Option : No Option Orientation : Vertical

Correct Marks : 1 Wrong Marks : 0.25

According to the proximodistal trend in physical development, an infant would first learn to control what part of his/her body?

Options :

1. ✖ Head
2. ✔ Arms
3. ✖ Legs
4. ✖ Abdomen

Question Number : 112 Question Id : 1626531739 Question Type : MCQ Option Shuffling : Yes Display Question Number : Yes  
Single Line Question Option : No Option Orientation : Vertical

Correct Marks : 1 Wrong Marks : 0.25

शारीरिक विकास में प्रॉक्सिमोडिस्टल प्रवृत्ति के अनुसार, एक शिशु सबसे पहले अपने शरीर के किस भाग को नियंत्रित करना सीखेगा?

Options :

1. ✖ सिर
2. ✔ भुजाएं
3. ✖ टांगें
4. ✖ पेट

Question Number : 113 Question Id : 1626531740 Question Type : MCQ Option Shuffling : Yes Display Question Number : Yes  
Single Line Question Option : No Option Orientation : Vertical

Correct Marks : 1 Wrong Marks : 0.25

When an adult break tasks into a set of subroutines that the child can successfully complete on his or her own, according to Vygotsky the adult is \_\_\_\_\_.

Options :

1. ☒ providing scaffolding
2. ☐ zone of proximal development
3. ☐ more knowledgeable other
4. ☐ internalization

Question Number : 113 Question Id : 1626531740 Question Type : MCQ Option Shuffling : Yes Display Question Number : Yes  
Single Line Question Option : No Option Orientation : Vertical

Correct Marks : 1 Wrong Marks : 0.25

जब वयस्क कार्यो को उपदिनचर्याओं के एक सेट में विभक्त करते हैं जिसे बच्चा अपने दम पर सफलतापूर्वक पूरा कर सकता है, विगोस्की के अनुसार वयस्क \_\_\_\_\_ है।

Options :

1. ☒ खाका प्रदान करना
2. ☐ समीपवर्ती विकास का क्षेत्र
3. ☐ अन्य अधिक जानकारी
4. ☐ समावेशन

Question Number : 114 Question Id : 1626531741 Question Type : MCQ Option Shuffling : Yes Display Question Number : Yes  
Single Line Question Option : No Option Orientation : Vertical

Correct Marks : 1 Wrong Marks : 0.25

According to NCF, inclusive education implies that we should change the \_\_\_\_\_ to fit the \_\_\_\_\_.

Options :

1. ☐ Child / system
2. ☒ System / child
3. ☐ Environment / family
4. ☐ Child / environment

Question Number : 114 Question Id : 1626531741 Question Type : MCQ Option Shuffling : Yes Display Question Number : Yes  
Single Line Question Option : No Option Orientation : Vertical

Correct Marks : 1 Wrong Marks : 0.25

एन.सी.एफ.(NCF) के अनुसार, समावेशी शिक्षा का अर्थ है कि हमें \_\_\_\_\_ को फिट रखने के लिए \_\_\_\_\_ को बदलना चाहिए।

Options :

1. ✖ बच्चा / प्रणाली
2. ✔ प्रणाली / बच्चा
3. ✖ पर्यावरण / परिवार
4. ✖ बच्चा / पर्यावरण

Question Number : 115 Question Id : 1626531742 Question Type : MCQ Option Shuffling : Yes Display Question Number : Yes  
Single Line Question Option : No Option Orientation : Vertical

Correct Marks : 1 Wrong Marks : 0.25

"Learning is a necessary and universal aspect of the process of developing culturally organized, specifically human psychological function". This is a tenet from:

Options :

1. ✔ Vygotsky
2. ✖ Piaget
3. ✖ Kohler
4. ✖ Bruner

Question Number : 115 Question Id : 1626531742 Question Type : MCQ Option Shuffling : Yes Display Question Number : Yes  
Single Line Question Option : No Option Orientation : Vertical

Correct Marks : 1 Wrong Marks : 0.25

"सीखना विकासशील सांस्कृतिक रूप से संगठित, विशेष रूप से मानवीय मनोवैज्ञानिक कार्य की प्रक्रिया का एक आवश्यक और सार्वभौमिक पहलू है"। यह सिद्धान्त कहाँ से है?

Options :

1. ✔ विगोस्की
2. ✖ पियागेट
3. ✖ कोहलर
4. ✖ ब्रूनर

Question Number : 116 Question Id : 1626531743 Question Type : MCQ Option Shuffling : Yes Display Question Number : Yes  
Single Line Question Option : No Option Orientation : Vertical



Correct Marks : 1 Wrong Marks : 0.25

In a mixed classroom, the teacher should:

Options :

1. ☒ provide a variety of learning situations.
2. ☐ solve the problems for the students.
3. ☐ give notes to the students.
4. ☐ provide facts to students to memorize.

Question Number : 116 Question Id : 1626531743 Question Type : MCQ Option Shuffling : Yes Display Question Number : Yes  
Single Line Question Option : No Option Orientation : Vertical

Correct Marks : 1 Wrong Marks : 0.25

एक मिली - जुली कक्षा में एक शिक्षक को क्या करना चाहिए?

Options :

1. ☒ सीखने की विभिन्न स्थितियाँ प्रदान करना चाहिए।
2. ☐ छात्रों के लिए समस्याओं को हल करना चाहिए।
3. ☐ छात्रों को नोट्स देना चाहिए।
4. ☐ छात्रों को याद रखने के लिए तथ्य प्रदान करना चाहिए।

Question Number : 117 Question Id : 1626531744 Question Type : MCQ Option Shuffling : Yes Display Question Number : Yes  
Single Line Question Option : No Option Orientation : Vertical

Correct Marks : 1 Wrong Marks : 0.25

Research shows that in a diverse classroom, a teacher's expectations from her students \_\_\_\_\_ their learning.

Options :

1. ☒ has a significant impact on
2. ☐ are the sole determinant of
3. ☐ should not be correlated with
4. ☐ do not have any effect on

Question Number : 117 Question Id : 1626531744 Question Type : MCQ Option Shuffling : Yes Display Question Number : Yes  
Single Line Question Option : No Option Orientation : Vertical

Correct Marks : 1 Wrong Marks : 0.25



शोध दर्शाता है कि एक विविधतापूर्ण कक्षा में, एक शिक्षक की अपने छात्रों से अपेक्षाओं का उनके सीखने:

Options :

1. ☒ पर उल्लेखनीय प्रभाव होता है।
2. ☐ का एकमात्र निर्धारक होता है।
3. ☐ से सहसंबंध नहीं होना चाहिए।
4. ☐ पर कोई प्रभाव नहीं होता है।

Question Number : 118 Question Id : 1626531745 Question Type : MCQ Option Shuffling : Yes Display Question Number : Yes  
Single Line Question Option : No Option Orientation : Vertical

Correct Marks : 1 Wrong Marks : 0.25

Awarding trophies, medals, grades etc. is called:

Options :

1. ☒ extrinsic motivation
2. ☐ intrinsic motivation
3. ☐ self - motivation
4. ☐ builds self esteem

Question Number : 118 Question Id : 1626531745 Question Type : MCQ Option Shuffling : Yes Display Question Number : Yes  
Single Line Question Option : No Option Orientation : Vertical

Correct Marks : 1 Wrong Marks : 0.25

ट्रॉफी, मेडल, ग्रेड इत्यादि से पुरस्कृत करने को क्या कहा जाता है?

Options :

1. ☒ बाह्य प्रेरणा
2. ☐ आंतरिक प्रेरणा
3. ☐ आत्म प्रेरणा
4. ☐ आत्म सम्मान का निर्माण करता है

Question Number : 119 Question Id : 1626531746 Question Type : MCQ Option Shuffling : Yes Display Question Number : Yes  
Single Line Question Option : No Option Orientation : Vertical

Correct Marks : 1 Wrong Marks : 0.25

A cornerstone of Vygotsky's theory of cognitive development is that society and culture play a key role in promoting development. What type of perspective is this considered to be?

Options :

1. ✖ A naive psychology perspective.
2. ✖ An autonomous learning perspective.
3. ✖ A linguistic perspective.
4. ✔ A sociocultural perspective.

Question Number : 119 Question Id : 1626531746 Question Type : MCQ Option Shuffling : Yes Display Question Number : Yes  
Single Line Question Option : No Option Orientation : Vertical

Correct Marks : 1 Wrong Marks : 0.25

विगोस्की के संज्ञानात्मक विकास के सिद्धान्त की आधारशिला यह है कि समाज और संस्कृति विकास को बढ़ावा देने में एक प्रमुख भूमिका निभाते हैं। यह किस प्रकार का परिप्रेक्ष्य माना जाता है?

Options :

1. ✖ एक सरल मनोविज्ञान परिप्रेक्ष्य।
2. ✖ एक स्वायत्त सीखने का परिप्रेक्ष्य।
3. ✖ एक भाषाई परिप्रेक्ष्य।
4. ✔ एक सामाजिक सांस्कृतिक परिप्रेक्ष्य।

Question Number : 120 Question Id : 1626531747 Question Type : MCQ Option Shuffling : Yes Display Question Number : Yes  
Single Line Question Option : No Option Orientation : Vertical

Correct Marks : 1 Wrong Marks : 0.25

What does Piaget believed?

Options :

1. ✖ Learning precedes development.
2. ✖ Knowledge is culturally constructed.
3. ✔ We can manipulate the sensory world.
4. ✖ We are starting with social interaction and language.

Question Number : 120 Question Id : 1626531747 Question Type : MCQ Option Shuffling : Yes Display Question Number : Yes  
Single Line Question Option : No Option Orientation : Vertical

Correct Marks : 1 Wrong Marks : 0.25

पिगेट का मानना क्या था?

Options :

1. ❌ सीखना विकास का पूर्ववर्ती है।
2. ❌ ज्ञान सांस्कृतिक रूप से निर्मित होता है।
3. ✅ हम संवेदी दुनिया का कुशलता से प्रयोग कर सकते हैं।
4. ❌ हम सामाजिक बातचीत और भाषा से शुरूआत कर रहे हैं।

Subject Related

Group Number :	7
Group Id :	16265387
Group Maximum Duration :	0
Group Minimum Duration :	0
Revisit allowed for view? :	No
Revisit allowed for edit? :	No
Break time:	0
Group Marks:	20
Revisit allowed for group Instructions? :	Yes
Maximum Instruction Time:	0
Minimum Instruction Time:	0

Subject Related

Section Id :	16265387
Section Number :	1
Section type :	Online
Mandatory or Optional:	Mandatory
Number of Questions:	20
Number of Questions to be attempted:	20
Section Marks:	20
Display Number Panel:	Yes
Group All Questions:	No

Sub-Section Number:	1
Sub-Section Id:	162653115
Question Shuffling Allowed :	Yes

Question Number : 121 Question Id : 1626531748 Question Type : MCQ Option Shuffling : Yes Display Question Number : Yes  
Single Line Question Option : No Option Orientation : Vertical  
Correct Marks : 1 Wrong Marks : 0.25

Teaching a kindergarten student to write their name is a skill that she/he can do with the help of someone at first and eventually do it on their own. This is called:

Options :

1. ✖ more knowledgeable other
2. ✔ zone of proximal development
3. ✖ scaffolding
4. ✖ individual ability

Question Number : 121 Question Id : 1626531748 Question Type : MCQ Option Shuffling : Yes Display Question Number : Yes  
Single Line Question Option : No Option Orientation : Vertical

Correct Marks : 1 Wrong Marks : 0.25

किंडरगार्टन के छात्र को अपना नाम लिखने के लिए शिक्षण एक कौशल है जिसे वह पहले किसी अन्य की मदद से कर सकता है तथा अंततः वह इसे अपने आप करता है। इसे क्या कहा जाता है?

Options :

1. ✖ दूसरा अधिक जानकार
2. ✔ समीपवर्ती विकास का क्षेत्र
3. ✖ खाका बनाना
4. ✖ वैयक्तिक योग्यता

Question Number : 122 Question Id : 1626531749 Question Type : MCQ Option Shuffling : Yes Display Question Number : Yes  
Single Line Question Option : No Option Orientation : Vertical

Correct Marks : 1 Wrong Marks : 0.25

In a constructivist classroom, \_\_\_\_\_.

Options :

1. ✖ the teacher gives notes from the textbook.
2. ✖ lessons are teacher directed.
3. ✔ students are actively involved.
4. ✖ the teacher is authoritative.

Question Number : 122 Question Id : 1626531749 Question Type : MCQ Option Shuffling : Yes Display Question Number : Yes  
Single Line Question Option : No Option Orientation : Vertical

Correct Marks : 1 Wrong Marks : 0.25

एक रचनावादी कक्षा में,:

Options :

1. ✖ शिक्षक पाठ्य-पुस्तक से नोट्स देता है।
2. ✖ पाठ शिक्षक निर्देशित होता है।
3. ✔ छात्र सक्रिय रूप से शामिल होते हैं।
4. ✖ शिक्षक आधिकारिक होता है।

Question Number : 123 Question Id : 1626531750 Question Type : MCQ Option Shuffling : Yes Display Question Number : Yes  
Single Line Question Option : No Option Orientation : Vertical

Correct Marks : 1 Wrong Marks : 0.25

Distance learning (education) is a modern system of \_\_\_\_\_ education.

Options :

1. ✔ non - formal
2. ✖ formal
3. ✖ informal
4. ✖ compulsory

Question Number : 123 Question Id : 1626531750 Question Type : MCQ Option Shuffling : Yes Display Question Number : Yes  
Single Line Question Option : No Option Orientation : Vertical

Correct Marks : 1 Wrong Marks : 0.25

दूरस्थ सीखना (शिक्षा) \_\_\_\_\_ शिक्षा की एक आधुनिक प्रणाली है।

Options :

1. ✔ गैर - औपचारिक
2. ✖ औपचारिक
3. ✖ अनौपचारिक
4. ✖ अनिवार्य

Question Number : 124 Question Id : 1626531751 Question Type : MCQ Option Shuffling : Yes Display Question Number : Yes  
Single Line Question Option : No Option Orientation : Vertical

Correct Marks : 1 Wrong Marks : 0.25



In its report, Learning Without Burden \_\_\_\_\_ pointed out that learning at school cannot become a joyful experience unless we change our perception of the child as a receiver of knowledge and move beyond the convention of using textbooks as the basis for examination.

Options :

1. ✖ National commission for education
2. ✖ Kothari commission
3. ✔ National curriculum framework
4. ✖ National policy on education

Question Number : 124 Question Id : 1626531751 Question Type : MCQ Option Shuffling : Yes Display Question Number : Yes  
Single Line Question Option : No Option Orientation : Vertical

Correct Marks : 1 Wrong Marks : 0.25

अपनी रिपोर्ट में, बिना बोझ के सीखने के \_\_\_\_\_ ने ध्यान दिलाया कि स्कूल में सीखना तब तक सुखद अनुभव नहीं हो सकता है जब तक हम ज्ञान प्राप्तकर्ता के रूप में बच्चे की अपनी धारणा को नहीं बदलते हैं तथा परीक्षा के लिए आधार के रूप में पाठ्य-पुस्तकों के प्रयोग करने की परिपाटी से परे नहीं जाते हैं।

Options :

1. ✖ राष्ट्रीय शिक्षा आयोग
2. ✖ कोठारी आयोग
3. ✔ राष्ट्रीय पाठ्यक्रम संरचना
4. ✖ शिक्षा पर राष्ट्रीय नीति

Question Number : 125 Question Id : 1626531752 Question Type : MCQ Option Shuffling : Yes Display Question Number : Yes  
Single Line Question Option : No Option Orientation : Vertical

Correct Marks : 1 Wrong Marks : 0.25

What is the major goal of adult education?

Options :

1. ✔ To increase the quality of life of an individual and realize his/her potential for self-realization.
2. ✖ To upgrade education of adults for professional benefits.
3. ✖ To improve educational status of women in the society.
4. ✖ To match the needs of industry with the education sector.



Question Number : 125 Question Id : 1626531752 Question Type : MCQ Option Shuffling : Yes Display Question Number : Yes  
Single Line Question Option : No Option Orientation : Vertical

Correct Marks : 1 Wrong Marks : 0.25

प्रौढ़ शिक्षा का प्रमुख लक्ष्य क्या है?

Options :

1. ✓ व्यक्ति के जीवन की गुणवत्ता बढ़ाना तथा आत्मबोध के लिए उसकी क्षमता का एहसास कराना।
2. ✗ व्यावसायिक लाभों के लिए वयस्कों की शिक्षा का उन्नयन।
3. ✗ समाज में महिलाओं के शैक्षिक स्तर को सुधारना।
4. ✗ शिक्षा क्षेत्र से उद्योग की जरूरतों का मिलान करना।

Question Number : 126 Question Id : 1626531753 Question Type : MCQ Option Shuffling : Yes Display Question Number : Yes  
Single Line Question Option : No Option Orientation : Vertical

Correct Marks : 1 Wrong Marks : 0.25

Suitable programmes should be developed to reduce the prevailing wastage and stagnation in schools and to ensure that every child who is enrolled in school successfully completes the prescribed course. This resolution have been included in:

Options :

1. ✗ Kothari Education Commission
2. ✗ National Curriculum Framework
3. ✓ National Policy of Education, 1968
4. ✗ None of the given options

Question Number : 126 Question Id : 1626531753 Question Type : MCQ Option Shuffling : Yes Display Question Number : Yes  
Single Line Question Option : No Option Orientation : Vertical

Correct Marks : 1 Wrong Marks : 0.25

स्कूलों में मौजूदा बर्बादी और निष्क्रियता को कम करने के लिए तथा यह सुनिश्चित करने के लिए कि प्रत्येक बच्चा जिसको स्कूल में नामांकित किया जाता है वह सफलतापूर्वक निर्धारित पाठ्यक्रम को पूरा करे, उपयुक्त कार्यक्रम विकसित करने चाहिए। इस संकल्प को \_\_\_\_\_ में शामिल किया गया है।

Options :

1. ✗ कोठारी शिक्षा आयोग
2. ✗ राष्ट्रीय पाठ्यक्रम संरचना

3. ✓ शिक्षा की राष्ट्रीय नीति, 1968

4. ✗ इनमें से कोई नहीं

Question Number : 127 Question Id : 1626531754 Question Type : MCQ Option Shuffling : Yes Display Question Number : Yes  
Single Line Question Option : No Option Orientation : Vertical

Correct Marks : 1 Wrong Marks : 0.25

The \_\_\_\_\_ was a massive programme which aimed at educating 100 million non-literate adults in the age group of 15-35 years within a time frame of five years.

Options :

1. ✓ National Adult Education Programme

2. ✗ National Academic Excellence Plan

3. ✗ National Adult Enrollment Programme

4. ✗ National Adult Empowerment Plan

Question Number : 127 Question Id : 1626531754 Question Type : MCQ Option Shuffling : Yes Display Question Number : Yes  
Single Line Question Option : No Option Orientation : Vertical

Correct Marks : 1 Wrong Marks : 0.25

\_\_\_\_\_ एक व्यापक कार्यक्रम था जिसका लक्ष्य 15 - 35 वर्ष के आयु समूह के 100 मिलियन गैर-साक्षर वयस्कों को पाँच वर्षों की समय सीमा के अंदर शिक्षित करना था।

Options :

1. ✓ राष्ट्रीय प्रौढ़ शिक्षा कार्यक्रम

2. ✗ राष्ट्रीय शैक्षिक उत्कृष्टता योजना

3. ✗ राष्ट्रीय प्रौढ़ नामांकन कार्यक्रम

4. ✗ राष्ट्रीय प्रौढ़ सशक्तिकरण योजना

Question Number : 128 Question Id : 1626531755 Question Type : MCQ Option Shuffling : Yes Display Question Number : Yes  
Single Line Question Option : No Option Orientation : Vertical

Correct Marks : 1 Wrong Marks : 0.25

Following are the principles of National Curriculum Framework, 2005, EXCEPT:

Options :

1. ✗ strengthening national system of education.

2. ✔ reducing flexibility of school practices and procedures.
3. ✘ quality education for all.
4. ✘ curriculum as per constitutional values.

Question Number : 128 Question Id : 1626531755 Question Type : MCQ Option Shuffling : Yes Display Question Number : Yes  
Single Line Question Option : No Option Orientation : Vertical  
Correct Marks : 1 Wrong Marks : 0.25

निम्नलिखित में से कौन एक को छोड़कर, ये राष्ट्रीय पाठ्यक्रम संरचना, 2005 के सिद्धान्त हैं।

Options :

1. ✘ राष्ट्रीय शिक्षा प्रणाली को मजबूत करना
2. ✔ स्कूल की परिपाटियों और प्रक्रियाओं का लचीलापन कम करना
3. ✘ सभी के लिए अच्छी शिक्षा
4. ✘ संवैधानिक मूल्यों के अनुसार पाठ्यक्रम

Question Number : 129 Question Id : 1626531756 Question Type : MCQ Option Shuffling : Yes Display Question Number : Yes  
Single Line Question Option : No Option Orientation : Vertical  
Correct Marks : 1 Wrong Marks : 0.25

Religion, gender, economic background and even learning styles are all notable factors of \_\_\_\_\_ to be considered for effective instruction and learning.

Options :

1. ✘ ethnicity
2. ✘ culture
3. ✔ diversity
4. ✘ personality

Question Number : 129 Question Id : 1626531756 Question Type : MCQ Option Shuffling : Yes Display Question Number : Yes  
Single Line Question Option : No Option Orientation : Vertical  
Correct Marks : 1 Wrong Marks : 0.25

प्रभावी निर्देश और सीखने के लिए धर्म, लिंग, आर्थिक पृष्ठभूमि और यहाँ तक कि सीखने की शैली इन सभी को \_\_\_\_\_ के उल्लेखनीय कारक माने जाते हैं।

Options :

1. ✖ जातीयता

2. ✖ संस्कृति

3. ✔ विविधता

4. ✖ व्यक्तित्व

Question Number : 130 Question Id : 1626531757 Question Type : MCQ Option Shuffling : Yes Display Question Number : Yes  
Single Line Question Option : No Option Orientation : Vertical

Correct Marks : 1 Wrong Marks : 0.25

There are various factors of social \_\_\_\_\_ such as disability, ethnicity, age, family background responsible for modifying gender roles.

Options :

1. ✖ stratification

2. ✖ change

3. ✔ differentiation

4. ✖ mobility

Question Number : 130 Question Id : 1626531757 Question Type : MCQ Option Shuffling : Yes Display Question Number : Yes  
Single Line Question Option : No Option Orientation : Vertical

Correct Marks : 1 Wrong Marks : 0.25

सामाजिक \_\_\_\_\_ के ऐसे बहुत से कारक जैसे विकलांगता, जातीयता, उम्र, पारिवारिक पृष्ठभूमि हैं जो लिंग की भूमिकाओं को परिवर्तित करने के लिए जिम्मेदार होते हैं।

Options :

1. ✖ स्तरीकरण

2. ✖ परिवर्तन

3. ✔ विभेद

4. ✖ गतिशीलता

Question Number : 131 Question Id : 1626531758 Question Type : MCQ Option Shuffling : Yes Display Question Number : Yes  
Single Line Question Option : No Option Orientation : Vertical

Correct Marks : 1 Wrong Marks : 0.25

What is the basic principle of inclusive education?

Options :



1. ✖ Mainstreaming different students.
2. ✔ Right to access and participate in education.
3. ✖ Student centric teaching learning.
4. ✖ Need based teaching learning.

Question Number : 131 Question Id : 1626531758 Question Type : MCQ Option Shuffling : Yes Display Question Number : Yes  
Single Line Question Option : No Option Orientation : Vertical

Correct Marks : 1 Wrong Marks : 0.25

समावेशी शिक्षा का मूल सिद्धान्त क्या है?

Options :

1. ✖ विभिन्न छात्रों को मुख्यधारा में लाना।
2. ✔ शिक्षा के लिए पहुँच तथा इसमें भाग लेने का अधिकार।
3. ✖ छात्र केन्द्रित शिक्षण सीखना।
4. ✖ जरूरत आधारित शिक्षण सीखना।

Question Number : 132 Question Id : 1626531759 Question Type : MCQ Option Shuffling : Yes Display Question Number : Yes  
Single Line Question Option : No Option Orientation : Vertical

Correct Marks : 1 Wrong Marks : 0.25

\_\_\_\_\_ means disabled children or children with learning difficulties attending mainstream school.

Options :

1. ✖ Inclusion
2. ✔ Integration
3. ✖ Specialization
4. ✖ Segregation

Question Number : 132 Question Id : 1626531759 Question Type : MCQ Option Shuffling : Yes Display Question Number : Yes  
Single Line Question Option : No Option Orientation : Vertical

Correct Marks : 1 Wrong Marks : 0.25

\_\_\_\_\_ का अर्थ विकलांग बच्चों या सीखने में कठिनाई महसूस करने वाले बच्चों का मुख्यधारा के स्कूल में शामिल होना है।

Options :

1. ✖ समावेश
2. ✔ एकीकरण
3. ✖ विशिष्टीकरण
4. ✖ पृथक्करण

Question Number : 133 Question Id : 1626531760 Question Type : MCQ Option Shuffling : Yes Display Question Number : Yes  
Single Line Question Option : No Option Orientation : Vertical

Correct Marks : 1 Wrong Marks : 0.25

What does the inclusive education demands schools to be?

Options :

1. ✔ Academically effective, friendly, safe, clean and healthy and gender responsive.
2. ✖ Accessible to all children – with and without disabilities.
3. ✖ Address any specific social needs of students.
4. ✖ Open and flexible.

Question Number : 133 Question Id : 1626531760 Question Type : MCQ Option Shuffling : Yes Display Question Number : Yes  
Single Line Question Option : No Option Orientation : Vertical

Correct Marks : 1 Wrong Marks : 0.25

समावेशी शिक्षा किस प्रकार के स्कूलों की मांग करती है?

Options :

1. ✔ शैक्षणिक दृष्टि से प्रभावी, अनुकूल, सुरक्षित, साफ और स्वस्थ तथा लिंग के प्रति उत्तरदायी।
2. ✖ विकलांग तथा बिना विकलांगता वाले - सभी बच्चों के लिए पहुँच योग्य।
3. ✖ छात्रों की किसी विशेष सामाजिक जरूरतों पर ध्यान देने वाले।
4. ✖ उदार और लचीले।

Question Number : 134 Question Id : 1626531761 Question Type : MCQ Option Shuffling : Yes Display Question Number : Yes  
Single Line Question Option : No Option Orientation : Vertical

Correct Marks : 1 Wrong Marks : 0.25



The \_\_\_\_\_ model of disability views people with a disability as having a deficiency or impairment that needs to be “fixed”. Therefore, the person with a disability is the problem, and not the (sometimes) inaccessible society in which that person lives.

Options :

1. ✖ social
2. ✖ charity
3. ✖ professional
4. ✔ medical

Question Number : 134 Question Id : 1626531761 Question Type : MCQ Option Shuffling : Yes Display Question Number : Yes  
Single Line Question Option : No Option Orientation : Vertical

Correct Marks : 1 Wrong Marks : 0.25

विकलांगता का \_\_\_\_\_ मॉडल विकलांग व्यक्ति को ऐसी कमी या दुर्बलता होने के रूप में देखता है जिसे “ठीक” करने की जरूरत होती है। अतः, विकलांग व्यक्ति एक समस्या होती है, तथा (कभी-कभी) उस समाज में पहुँच योग्य नहीं होता है जिसमें वह रहता है।

Options :

1. ✖ सामाजिक
2. ✖ उदारता
3. ✖ पेशेवर
4. ✔ चिकित्सा

Question Number : 135 Question Id : 1626531762 Question Type : MCQ Option Shuffling : Yes Display Question Number : Yes  
Single Line Question Option : No Option Orientation : Vertical

Correct Marks : 1 Wrong Marks : 0.25

Arrange the following sequence logically.

Options :

1. ✖ Annual Plan, Monthly plan, Weekly plan, Unit Plan, Academic Plan
2. ✖ Academic Plan, Monthly plan, Weekly plan, Unit Plan
3. ✖ Monthly plan, Weekly plan, Unit Plan, Academic Plan
4. ✔ Annual Plan, Academic Plan, Monthly plan, Weekly plan, Unit Plan

Question Number : 135 Question Id : 1626531762 Question Type : MCQ Option Shuffling : Yes Display Question Number : Yes  
Single Line Question Option : No Option Orientation : Vertical

Correct Marks : 1 Wrong Marks : 0.25

निम्नलिखित अनुक्रम को तर्कसंगत रूप से व्यवस्थित करें।

Options :

1. ✖ वार्षिक योजना, मासिक योजना, साप्ताहिक योजना, इकाई योजना, शैक्षणिक योजना
2. ✖ शैक्षणिक योजना, मासिक योजना, साप्ताहिक योजना, इकाई योजना
3. ✖ मासिक योजना, साप्ताहिक योजना, इकाई योजना, शैक्षणिक योजना
4. ✔ वार्षिक योजना, शैक्षणिक योजना, मासिक योजना, साप्ताहिक योजना, इकाई योजना

Question Number : 136 Question Id : 1626531763 Question Type : MCQ Option Shuffling : Yes Display Question Number : Yes  
Single Line Question Option : No Option Orientation : Vertical

Correct Marks : 1 Wrong Marks : 0.25

What is STEM curriculum?

Options :

1. ✔ Science, Technology, Engineering, And Mathematics
2. ✖ Sociology, Technology, Education, Mathematics
3. ✖ Science, Technology, Education, Mathematics
4. ✖ Science, Teaching, Evaluation, Mathematics

Question Number : 136 Question Id : 1626531763 Question Type : MCQ Option Shuffling : Yes Display Question Number : Yes  
Single Line Question Option : No Option Orientation : Vertical

Correct Marks : 1 Wrong Marks : 0.25

एस.टी.ई.एम. (STEM) पाठ्यक्रम क्या है?

Options :

1. ✔ विज्ञान, प्रौद्योगिकी, इंजीनियरिंग, तथा गणित
2. ✖ सामाजिक विज्ञान, प्रौद्योगिकी, शिक्षा, गणित
3. ✖ विज्ञान, प्रौद्योगिकी, शिक्षा, गणित
4. ✖ विज्ञान, शिक्षण, मूल्यांकन, गणित

Question Number : 137 Question Id : 1626531764 Question Type : MCQ Option Shuffling : Yes Display Question Number : Yes  
Single Line Question Option : No Option Orientation : Vertical

Correct Marks : 1 Wrong Marks : 0.25

What is the objective of following idealism principles while designing curriculum?

Options :

1. ✓ Students learn the wisdom of past heroes and sharpen the mind and intellectual processes.
2. ✗ Engagement with a complex problem or scenario.
3. ✗ Transformation of the learner's way of looking at, and acting in, the discipline.
4. ✗ A dialogic perspective one Learning learners need to be 'scaffolded'.

Question Number : 137 Question Id : 1626531764 Question Type : MCQ Option Shuffling : Yes Display Question Number : Yes  
Single Line Question Option : No Option Orientation : Vertical

Correct Marks : 1 Wrong Marks : 0.25

पाठ्यक्रम को डिजाइन करते समय आदर्शवाद के सिद्धान्तों का पालन करने का क्या उद्देश्य होता है?

Options :

1. ✓ छात्र अतीत के नायकों की बुद्धिमत्ता सीखते हैं तथा दिमाग और बौद्धिक प्रक्रियाओं को तेज करते हैं।
2. ✗ जटिल समस्या या परिदृश्य के साथ सहभागिता
3. ✗ सीखने वाले के विचार करने, तथा कार्यान्वित करने, अनुशासन का रूपांतरण।
4. ✗ ईलर्निंग सीखने वालों पर एक बातचीत संबंधी परिप्रेक्ष्य को 'ढांचागत' होने की जरूरत है

Question Number : 138 Question Id : 1626531765 Question Type : MCQ Option Shuffling : Yes Display Question Number : Yes  
Single Line Question Option : No Option Orientation : Vertical

Correct Marks : 1 Wrong Marks : 0.25

What is the Null-curriculum?

Options :

1. ✗ The curriculum which has no objectives.
2. ✓ The curriculum which we do not teach.
3. ✗ The curriculum which has no activities.
4. ✗ The curriculum which has null principles.



Question Number : 138 Question Id : 1626531765 Question Type : MCQ Option Shuffling : Yes Display Question Number : Yes  
Single Line Question Option : No Option Orientation : Vertical  
Correct Marks : 1 Wrong Marks : 0.25

शून्य पाठ्यक्रम क्या है?

Options :

1. ✖ पाठ्यक्रम जिसमें कोई उद्देश्य नहीं होते हैं।
2. ✔ पाठ्यक्रम जिसे हम पढ़ाते नहीं हैं।
3. ✖ पाठ्यक्रम जिसमें कोई गतिविधियां नहीं होती हैं।
4. ✖ पाठ्यक्रम जिसमें शून्य सिद्धान्त होते हैं।

Question Number : 139 Question Id : 1626531766 Question Type : MCQ Option Shuffling : Yes Display Question Number : Yes  
Single Line Question Option : No Option Orientation : Vertical  
Correct Marks : 1 Wrong Marks : 0.25

What are the audio aids in teaching?

Options :

1. ✔ Tape Recorder, Audio clip, Radio
2. ✖ Audio clip, Radio
3. ✖ T.V, Computer, Radio
4. ✖ Books, Magazine, Tape Recorder

Question Number : 139 Question Id : 1626531766 Question Type : MCQ Option Shuffling : Yes Display Question Number : Yes  
Single Line Question Option : No Option Orientation : Vertical  
Correct Marks : 1 Wrong Marks : 0.25

शिक्षण में ऑडियो सहायक उपकरण क्या हैं?

Options :

1. ✔ टेप रिकॉर्डर, ऑडियो क्लिप, रेडियो
2. ✖ ऑडियो क्लिप, रेडियो
3. ✖ टी.वी., कंप्यूटर, रेडियो

#### 4. ✖ किताबें, पत्रिका, टेप रिकॉर्डर

Question Number : 140 Question Id : 1626531767 Question Type : MCQ Option Shuffling : Yes Display Question Number : Yes  
Single Line Question Option : No Option Orientation : Vertical

Correct Marks : 1 Wrong Marks : 0.25

What does the below statement represents?

Statement: Students are more updated than the teachers and teachers can get some more knowledge from their students.

Options :

1. ✖ This statement is showing bias attitude towards teachers.
2. ✔ This statement is the impact of paradigm shift in education due to ICT.
3. ✖ This statement is showing the attitude change in student's behavior.
4. ✖ This statement shows that nothing is permanent.

Question Number : 140 Question Id : 1626531767 Question Type : MCQ Option Shuffling : Yes Display Question Number : Yes  
Single Line Question Option : No Option Orientation : Vertical

Correct Marks : 1 Wrong Marks : 0.25

नीचे दिया गया कथन क्या दर्शाता है?

कथन: शिक्षकों की तुलना में छात्र अधिक अद्यतन होते हैं तथा शिक्षक कुछ अधिक ज्ञान अपने छात्रों से प्राप्त कर सकते हैं।

Options :

1. ✖ यह कथन शिक्षकों के संबंध में पूर्वाग्रहपूर्ण रवैया दिखा रहा है।
2. ✔ यह कथन आई.सी.टी.( ICT) के कारण शिक्षा में प्रतिमान परिवर्तन का प्रभाव है।
3. ✖ यह कथन छात्रों के व्यवहार में रवैया परिवर्तन को दिखा रहा है।
4. ✖ यह कथन दर्शाता है कि कुछ भी स्थाई नहीं है।

#### Subject Related

Group Number :	8
Group Id :	16265388
Group Maximum Duration :	0
Group Minimum Duration :	0
Revisit allowed for view? :	No
Revisit allowed for edit? :	No
Break time:	0
Group Marks:	20



Revisit allowed for group Instructions? :	Yes
Maximum Instruction Time:	0
Minimum Instruction Time:	0





	Subject Related
Section Id :	16265388
Section Number :	1
Section type :	Online
Mandatory or Optional:	Mandatory
Number of Questions:	20
Number of Questions to be attempted:	20
Section Marks:	20
Display Number Panel:	Yes
Group All Questions:	No

Sub-Section Number:	1
Sub-Section Id:	162653116
Question Shuffling Allowed :	Yes

Question Number : 141 Question Id : 1626531768 Question Type : MCQ Option Shuffling : Yes Display Question Number : Yes  
 Single Line Question Option : No Option Orientation : Vertical  
 Correct Marks : 1 Wrong Marks : 0.25

What is the use of intellectual property?




Options :

1.  Someone's idea in a form of text, graphic, or music.
2.  Cognitive ability of the person.
3.  Software where one can publish his work.
4.  Virtual space.

Question Number : 141 Question Id : 1626531768 Question Type : MCQ Option Shuffling : Yes Display Question Number : Yes  
 Single Line Question Option : No Option Orientation : Vertical  
 Correct Marks : 1 Wrong Marks : 0.25

बौद्धिक संपदा का उपयोग क्या है?

Options :

1.  पाठ्य, ग्राफिक, संगीत के रूप में किसी के विचार।
2.  व्यक्ति की संज्ञानात्मक योग्यता।
3.  सॉफ्टवेयर जहाँ कोई व्यक्ति अपने कार्य को प्रकाशित कर सकता है।

#### 4. ✖ आभासी स्थान|

Question Number : 142 Question Id : 1626531769 Question Type : MCQ Option Shuffling : Yes Display Question Number : Yes  
Single Line Question Option : No Option Orientation : Vertical

Correct Marks : 1 Wrong Marks : 0.25

What is a blended learning?

Options :

1. ✔ Combination of traditional and advanced technological methods.
2. ✖ Blend of content with methods.
3. ✖ Blend of infrastructure facilities and learning activities.
4. ✖ Use of e-learning with technology.

Question Number : 142 Question Id : 1626531769 Question Type : MCQ Option Shuffling : Yes Display Question Number : Yes  
Single Line Question Option : No Option Orientation : Vertical

Correct Marks : 1 Wrong Marks : 0.25

मिश्रित सीखना क्या है?

Options :

1. ✔ परंपरागत और उन्नत तकनीकी विधियों का संयोजन|
2. ✖ विधियों के साथ सामग्री का मिश्रण|
3. ✖ बुनियादी सुविधाओं तथा सीखने की गतिविधियों का मिश्रण|
4. ✖ प्रौद्योगिकी के साथ ई लर्निंग का प्रयोग|

Question Number : 143 Question Id : 1626531770 Question Type : MCQ Option Shuffling : Yes Display Question Number : Yes  
Single Line Question Option : No Option Orientation : Vertical

Correct Marks : 1 Wrong Marks : 0.25

Which of the following is NOT the best way of students' safety on internet?

Options :

1. ✔ Knowing their password and checking the internet.
2. ✖ Browsing history.
3. ✖ Child lock system.

4. ✖ Using antivirus software.

Question Number : 143 Question Id : 1626531770 Question Type : MCQ Option Shuffling : Yes Display Question Number : Yes  
Single Line Question Option : No Option Orientation : Vertical  
Correct Marks : 1 Wrong Marks : 0.25

इंटरनेट पर छात्रों की सुरक्षा का सबसे अच्छा तरीका क्या नहीं है?

Options :

1. ✔ उनका पासवर्ड जानना और इंटरनेट की जांच करना|
2. ✖ ब्राउज़िंग इतिहास|
3. ✖ चाइल्ड लॉक प्रणाली|
4. ✖ एंटीवायरस सॉफ्टवेयर का उपयोग करना|

Question Number : 144 Question Id : 1626531771 Question Type : MCQ Option Shuffling : Yes Display Question Number : Yes  
Single Line Question Option : No Option Orientation : Vertical  
Correct Marks : 1 Wrong Marks : 0.25

Which technology can be used to teach environment subject to students?

Options :

1. ✔ Videos, presentations, animated pictures, social networking sites, blogs
2. ✖ Audio clips, newspaper articles, mobile
3. ✖ Textbook, workbook, role play
4. ✖ Online tests, forums, presentations

Question Number : 144 Question Id : 1626531771 Question Type : MCQ Option Shuffling : Yes Display Question Number : Yes  
Single Line Question Option : No Option Orientation : Vertical  
Correct Marks : 1 Wrong Marks : 0.25

छात्रों को पर्यावरण विषय पढ़ाने के लिए किस तकनीक का उपयोग किया जा सकता है?

Options :

1. ✔ वीडियो, प्रस्तुतिकरण, एनिमेटेड चित्र, सोशल नेटवर्किंग साइट्स, ब्लॉग
2. ✖ ऑडियो क्लिप, अखबारों के लेख, मोबाइल

3. ✖ पाठ्य-पुस्तक, कार्यपुस्तिका, रोल प्ले

4. ✖ ऑनलाइन परीक्षण, फोरम, प्रस्तुतिकरण

Question Number : 145 Question Id : 1626531772 Question Type : MCQ Option Shuffling : Yes Display Question Number : Yes  
Single Line Question Option : No Option Orientation : Vertical

Correct Marks : 1 Wrong Marks : 0.25

Which of the following statements is true about cooperative learning and collaborative learning?

Options :

1. ✖

Cooperative learning requires cooperation of team members and collaborative learning requires collaboration of team members.

2. ✔ Cooperative learning is face to face and collaborative learning is online.

3. ✖ Cooperative learning has big groups and collaborative learning has small groups.

4. ✖ Cooperative learning needs teacher and collaborative learning needs technology.

Question Number : 145 Question Id : 1626531772 Question Type : MCQ Option Shuffling : Yes Display Question Number : Yes  
Single Line Question Option : No Option Orientation : Vertical

Correct Marks : 1 Wrong Marks : 0.25

सहकारी सीखना और सहयोगी सीखना के बारे में निम्नलिखित में से कौन सा कथन सच है?

Options :

1. ✖

सहकारी सीखने के लिए टीम के सदस्यों के आपसी सहकार की आवश्यकता होती है और सहयोगी सीखने के लिए टीम के सदस्यों के आपसी सहयोग की आवश्यकता होती है।

2. ✔ सहकारी सीखना आमने - सामने होता है और सहयोगी सीखना ऑनलाइन होता है।

3. ✖ सहकारी सीखने में बड़े समूह होते हैं और सहयोगी सीखने में छोटे समूह होते हैं।

4. ✖

सहकारी सीखने के लिए शिक्षक की आवश्यकता होती है और सहयोगी सीखने के लिए प्रौद्योगिकी की आवश्यकता होती है।

Question Number : 146 Question Id : 1626531773 Question Type : MCQ Option Shuffling : Yes Display Question Number : Yes  
Single Line Question Option : No Option Orientation : Vertical

Correct Marks : 1 Wrong Marks : 0.25

Which satellite was launched to provide education to all people, primarily children from remote areas of the country who cannot go to schools or colleges?

Options :



1. ✓ Edusat

2. ✗ Insat

3. ✗ Kalpana

4. ✗ Jio

Question Number : 146 Question Id : 1626531773 Question Type : MCQ Option Shuffling : Yes Display Question Number : Yes  
Single Line Question Option : No Option Orientation : Vertical

Correct Marks : 1 Wrong Marks : 0.25

किस उपग्रह को सभी व्यक्तियों को, प्राथमिक तौर पर देश के दूरस्थ क्षेत्रों के बच्चों को जो स्कूल या कॉलेज नहीं जा सकते हैं, शिक्षा प्रदान करने के लिए लांच किया गया था?

Options :

1. ✓ एडुसेट

2. ✗ इनसेट

3. ✗ कल्पना

4. ✗ जियो

Question Number : 147 Question Id : 1626531774 Question Type : MCQ Option Shuffling : Yes Display Question Number : Yes  
Single Line Question Option : No Option Orientation : Vertical

Correct Marks : 1 Wrong Marks : 0.25

What is diagnostic assessment?

Options :

1. ✓ Assessment for learning.

2. ✗ Assessment of learning.

3. ✗ Assessment as learning.

4. ✗ Assessment in learning.

Question Number : 147 Question Id : 1626531774 Question Type : MCQ Option Shuffling : Yes Display Question Number : Yes  
Single Line Question Option : No Option Orientation : Vertical

Correct Marks : 1 Wrong Marks : 0.25

नैदानिक आकलन क्या है?

Options :



1. ✓ सीखने के लिए आकलन|
2. ✗ सीखने का आकलन|
3. ✗ सीखने के रूप में आकलन|
4. ✗ सीखने में आकलन|

Question Number : 148 Question Id : 1626531775 Question Type : MCQ Option Shuffling : Yes Display Question Number : Yes  
Single Line Question Option : No Option Orientation : Vertical

Correct Marks : 1 Wrong Marks : 0.25

In language learning, \_\_\_\_\_ and \_\_\_\_\_ are called active skills.

Options :

1. ✗ listening; reading
2. ✓ speaking; writing
3. ✗ listening; writing
4. ✗ reading; speaking

Question Number : 148 Question Id : 1626531775 Question Type : MCQ Option Shuffling : Yes Display Question Number : Yes  
Single Line Question Option : No Option Orientation : Vertical

Correct Marks : 1 Wrong Marks : 0.25

भाषा सीखने में \_\_\_\_\_ और \_\_\_\_\_ को सक्रिय कौशल कहा जाता है।

Options :

1. ✗ सुनना; पढ़ना
2. ✓ बोलना; लिखना
3. ✗ सुनना; लिखना
4. ✗ पढ़ना; बोलना

Question Number : 149 Question Id : 1626531776 Question Type : MCQ Option Shuffling : Yes Display Question Number : Yes  
Single Line Question Option : No Option Orientation : Vertical

Correct Marks : 1 Wrong Marks : 0.25

What activities will you plan to improve writing skills among students?

Options :

1. ✓ Essay writing, letter writing, advertisement writing.

2. ✗ Story-telling, reciting poem.

3. ✗ Loud and silent reading.

4. ✗ Writing answers in examination.

Question Number : 149 Question Id : 1626531776 Question Type : MCQ Option Shuffling : Yes Display Question Number : Yes  
Single Line Question Option : No Option Orientation : Vertical

Correct Marks : 1 Wrong Marks : 0.25

छात्रों में लेखन कौशल में सुधार करने के लिए आप किन गतिविधियों की योजना बनायेंगे?

Options :

1. ✓ निबंध लेखन, पत्र लेखन, विज्ञापन लेखन।

2. ✗ कहानी सुनाना, कविता पढ़ना।

3. ✗ जोर से और चुपचाप पढ़ना।

4. ✗ परीक्षा में उत्तर लिखना।

Question Number : 150 Question Id : 1626531777 Question Type : MCQ Option Shuffling : Yes Display Question Number : Yes  
Single Line Question Option : No Option Orientation : Vertical

Correct Marks : 1 Wrong Marks : 0.25

What is the example of constructivist method?

Options :

1. ✗ Explaining the definition of noun and giving examples of noun and repeating definition of noun.

2. ✗ Giving examples of noun and explaining definition of noun and again giving examples of noun.

3. ✗ Giving definition and examples of noun at a time.

4. ✓ Showing various things related to noun and asking students to prepare definition of noun.

Question Number : 150 Question Id : 1626531777 Question Type : MCQ Option Shuffling : Yes Display Question Number : Yes  
Single Line Question Option : No Option Orientation : Vertical

Correct Marks : 1 Wrong Marks : 0.25

रचनावादी विधि का उदाहरण क्या है?

Options :

1. ✖ संज्ञा की परिभाषा समझाना और संज्ञा का उदाहरण देना और संज्ञा की परिभाषा को दोहराना।
2. ✖ संज्ञा का उदाहरण देना और संज्ञा की परिभाषा समझाना और दुबारा संज्ञा का उदाहरण देना।
3. ✖ संज्ञा की परिभाषा और उदाहरण एक ही साथ देना।
4. ✔ संज्ञा से संबंधित विभिन्न चीजें दिखाना और छात्रों से संज्ञा की परिभाषा तैयार करने के लिए कहना।

Question Number : 151 Question Id : 1626531778 Question Type : MCQ Option Shuffling : Yes Display Question Number : Yes  
Single Line Question Option : No Option Orientation : Vertical

Correct Marks : 1 Wrong Marks : 0.25

What languages are included in tri language formula?

Options :

1. ✖ Mother tongue, regional language, English
2. ✖ Regional Language, National Language, English
3. ✔ Mother Tongue, National Language, English
4. ✖ Sanskrit, Hindi, English

Question Number : 151 Question Id : 1626531778 Question Type : MCQ Option Shuffling : Yes Display Question Number : Yes  
Single Line Question Option : No Option Orientation : Vertical

Correct Marks : 1 Wrong Marks : 0.25

त्रि भाषा सूत्र में कौन सी भाषाएं शामिल हैं?

Options :

1. ✖ मातृभाषा, क्षेत्रीय भाषा, अंग्रेजी
2. ✖ क्षेत्रीय भाषा, राष्ट्र भाषा, अंग्रेजी
3. ✔ मातृभाषा, राष्ट्र भाषा, अंग्रेजी
4. ✖ संस्कृत, हिन्दी, अंग्रेजी

Question Number : 152 Question Id : 1626531779 Question Type : MCQ Option Shuffling : Yes Display Question Number : Yes  
Single Line Question Option : No Option Orientation : Vertical

Correct Marks : 1 Wrong Marks : 0.25

What is the main purpose of language?

Options :

1. ✖ Writing
2. ✔ Communication
3. ✖ Reading
4. ✖ Listening

Question Number : 152 Question Id : 1626531779 Question Type : MCQ Option Shuffling : Yes Display Question Number : Yes  
Single Line Question Option : No Option Orientation : Vertical

Correct Marks : 1 Wrong Marks : 0.25

भाषा का मुख्य उद्देश्य क्या है?

Options :

1. ✖ लेखन
2. ✔ संप्रेषण
3. ✖ पढ़ना
4. ✖ सुनना

Question Number : 153 Question Id : 1626531780 Question Type : MCQ Option Shuffling : Yes Display Question Number : Yes  
Single Line Question Option : No Option Orientation : Vertical

Correct Marks : 1 Wrong Marks : 0.25

In which of the following years the three language formula was recommended by The National Policy on Education?

Options :

1. ✖ 1986
2. ✔ 1968
3. ✖ 1966
4. ✖ 1985

Question Number : 153 Question Id : 1626531780 Question Type : MCQ Option Shuffling : Yes Display Question Number : Yes  
Single Line Question Option : No Option Orientation : Vertical

Correct Marks : 1 Wrong Marks : 0.25

किस वर्ष में शिक्षा पर राष्ट्रीय नीति द्वारा त्रिभाषा फॉर्मूला की सिफारिश की गयी थी?

Options :

1. ✖ 1986
2. ✔ 1968
3. ✖ 1966
4. ✖ 1985

Question Number : 154 Question Id : 1626531781 Question Type : MCQ Option Shuffling : Yes Display Question Number : Yes  
Single Line Question Option : No Option Orientation : Vertical

Correct Marks : 1 Wrong Marks : 0.25

Learning a language is basically a process of:

Options :

1. ✔ habit
2. ✖ natural
3. ✖ usual
4. ✖ environmental

Question Number : 154 Question Id : 1626531781 Question Type : MCQ Option Shuffling : Yes Display Question Number : Yes  
Single Line Question Option : No Option Orientation : Vertical

Correct Marks : 1 Wrong Marks : 0.25

एक भाषा सीखना मूलतः किसकी प्रक्रिया होती है?

Options :

1. ✔ आदत
2. ✖ स्वाभाविक
3. ✖ सामान्य
4. ✖ पर्यावरण संबंधी

Question Number : 155 Question Id : 1626531782 Question Type : MCQ Option Shuffling : Yes Display Question Number : Yes  
Single Line Question Option : No Option Orientation : Vertical

Correct Marks : 1 Wrong Marks : 0.25

Writing is a graphical representation of \_\_\_\_\_.

Options :



1. ✖ listening
2. ✖ reading
3. ✔ speech
4. ✖ oral

Question Number : 155 Question Id : 1626531782 Question Type : MCQ Option Shuffling : Yes Display Question Number : Yes  
Single Line Question Option : No Option Orientation : Vertical

Correct Marks : 1 Wrong Marks : 0.25

लिखना किसका ग्राफिकल प्रस्तुतीकरण है?

Options :

1. ✖ सुनना
2. ✖ पढ़ना
3. ✔ बोलना
4. ✖ मौखिक

Question Number : 156 Question Id : 1626531783 Question Type : MCQ Option Shuffling : Yes Display Question Number : Yes  
Single Line Question Option : No Option Orientation : Vertical

Correct Marks : 1 Wrong Marks : 0.25

Second language acquisition involves:

Options :

1. ✔ comprehension
2. ✖ expression
3. ✖ self – analysis
4. ✖ self - concept

Question Number : 156 Question Id : 1626531783 Question Type : MCQ Option Shuffling : Yes Display Question Number : Yes  
Single Line Question Option : No Option Orientation : Vertical

Correct Marks : 1 Wrong Marks : 0.25

द्वितीय भाषा अधिग्रहण में क्या शामिल होता है?

Options :

1. ✓ समझ
2. ✗ अभिव्यक्ति
3. ✗ आत्म - विश्लेषण
4. ✗ आत्म - अवधारणा

Question Number : 157 Question Id : 1626531784 Question Type : MCQ Option Shuffling : Yes Display Question Number : Yes  
Single Line Question Option : No Option Orientation : Vertical

Correct Marks : 1 Wrong Marks : 0.25

Need analysis of the students by language teachers, is a pre requisite to:

Options :

1. ✓ evaluate their existing competencies.
2. ✗ compare the achievement level among the students.
3. ✗ measure the students learning ability.
4. ✗ know the students interest in the choice of the language.

Question Number : 157 Question Id : 1626531784 Question Type : MCQ Option Shuffling : Yes Display Question Number : Yes  
Single Line Question Option : No Option Orientation : Vertical

Correct Marks : 1 Wrong Marks : 0.25

भाषा शिक्षकों द्वारा छात्रों के विश्लेषण की जरूरत एक पूर्व आवश्यकता है:

Options :

1. ✓ उनकी वर्तमान दक्षताओं का मूल्यांकन करने के लिए
2. ✗ छात्रों के उपलब्धि स्तर की तुलना करने के लिए
3. ✗ छात्रों की सीखने की क्षमता का आकलन करने के लिए
4. ✗ भाषा के चुनाव में छात्रों की रुचि जानने के लिए

Question Number : 158 Question Id : 1626531785 Question Type : MCQ Option Shuffling : Yes Display Question Number : Yes  
Single Line Question Option : No Option Orientation : Vertical

Correct Marks : 1 Wrong Marks : 0.25

Algebra, Geometry and Arithmetic belongs to:

Options :

1. ☒ applied mathematics
2. ☐ pure mathematics
3. ☐ arithmetic
4. ☐ a wide range of studies with a wide use.

Question Number : 158 Question Id : 1626531785 Question Type : MCQ Option Shuffling : Yes Display Question Number : Yes  
Single Line Question Option : No Option Orientation : Vertical

Correct Marks : 1 Wrong Marks : 0.25

बीजगणित, ज्यामिति और अंकगणित किससे संबंधित है?

Options :

1. ☒ व्यावहारिक गणित से
2. ☐ शुद्ध गणित से
3. ☐ अंकगणित से
4. ☐ व्यापक उपयोग वाली अध्ययन की एक विस्तृत श्रृंखला से

Question Number : 159 Question Id : 1626531786 Question Type : MCQ Option Shuffling : Yes Display Question Number : Yes  
Single Line Question Option : No Option Orientation : Vertical

Correct Marks : 1 Wrong Marks : 0.25

Which of the following is an understanding objective?

Options :

1. ☐ Students recognize geometrical shapes.
2. ☐ Students explain the theorem in their own words.
3. ☒ Students compare between quadrilateral and hexagon.
4. ☐ Students solve the problems of algebra.

Question Number : 159 Question Id : 1626531786 Question Type : MCQ Option Shuffling : Yes Display Question Number : Yes  
Single Line Question Option : No Option Orientation : Vertical

Correct Marks : 1 Wrong Marks : 0.25

निम्नलिखित में से कौन सा समझ उद्देश्य है?

Options :

1. ✖ ज्यामितीय आकार को पहचानने वाले छात्र।
2. ✖ प्रमेय को अपने शब्दों में समझाने वाले छात्र।
3. ✔ चतुर्भुज और षट्भुज के बीच तुलना करने वाले छात्र।
4. ✖ बीजगणित की समस्याओं को हल करने वाले छात्र।

Question Number : 160 Question Id : 1626531787 Question Type : MCQ Option Shuffling : Yes Display Question Number : Yes  
Single Line Question Option : No Option Orientation : Vertical

Correct Marks : 1 Wrong Marks : 0.25

Mathematical structure is strongly related to semantics syntax and language and to the use of propositions and quantifiers embedded in principled argument in natural languages. It shows the correlation of mathematics with \_\_\_\_\_.

Options :

1. ✖ Science
2. ✔ English
3. ✖ Geography
4. ✖ Psychology

Question Number : 160 Question Id : 1626531787 Question Type : MCQ Option Shuffling : Yes Display Question Number : Yes  
Single Line Question Option : No Option Orientation : Vertical

Correct Marks : 1 Wrong Marks : 0.25

गणितीय संरचना सिमेंटिक वाक्यविन्यास और भाषा से और प्राकृतिक भाषाओं में सिद्धांतबद्ध तर्क में जड़ित प्रस्थापनाओं और परिमाणकों के उपयोग से दृढ़ता से संबंधित है। यह गणित के साथ \_\_\_\_\_ के सहसंबंधों को दर्शाता है।

Options :

1. ✖ विज्ञान
2. ✔ अंग्रेज़ी
3. ✖ भूगोल
4. ✖ मनोविज्ञान

Group Number :	9
Group Id :	16265389
Group Maximum Duration :	0
Group Minimum Duration :	0
Revisit allowed for view? :	No
Revisit allowed for edit? :	No
Break time:	0
Group Marks:	20
Revisit allowed for group Instructions? :	Yes
Maximum Instruction Time:	0
Minimum Instruction Time:	0





	Subject Related
Section Id :	16265389
Section Number :	1
Section type :	Online
Mandatory or Optional:	Mandatory
Number of Questions:	20
Number of Questions to be attempted:	20
Section Marks:	20
Display Number Panel:	Yes
Group All Questions:	No

Sub-Section Number:	1
Sub-Section Id:	162653117
Question Shuffling Allowed :	Yes

Question Number : 161 Question Id : 1626531788 Question Type : MCQ Option Shuffling : Yes Display Question Number : Yes  
 Single Line Question Option : No Option Orientation : Vertical  
 Correct Marks : 1 Wrong Marks : 0.25

What are the SMART objectives of teaching Mathematics?

Options :

1.  Specific, Measurable, Attainable, Realistic, Time consuming
2.  Specific, Meaningful, Attentive, Realistic, Time consuming
3.  Suitable, Measurable, Attainable, Rational, Testing ability
4.  Suitable, Measurable, Attainable, Realistic, Theme based

Question Number : 161 Question Id : 1626531788 Question Type : MCQ Option Shuffling : Yes Display Question Number : Yes  
 Single Line Question Option : No Option Orientation : Vertical  
 Correct Marks : 1 Wrong Marks : 0.25

गणित पढ़ाने के एस.एम.ए.आर.टी. (SMART) उद्देश्य क्या हैं?

Options :



1. ✓ विशिष्ट, मापनीय, प्राप्य, यथार्थवादी, समय लेने वाला
2. ✗ विशिष्ट, अर्थपूर्ण, चौकस, यथार्थवादी, समय लेने वाला
3. ✗ उपयुक्त, मापनीय, प्राप्य, तर्कसंगत, परीक्षण क्षमता
4. ✗ उपयुक्त, मापनीय, प्राप्य, यथार्थवादी, थीम आधारित

Question Number : 162 Question Id : 1626531789 Question Type : MCQ Option Shuffling : Yes Display Question Number : Yes  
Single Line Question Option : No Option Orientation : Vertical

Correct Marks : 1 Wrong Marks : 0.25

Which of the following methods can be useful to teach addition subtraction for primary students?

Options :

1. ✓ Play way method
2. ✗ Project method
3. ✗ Analytical – synthetic method
4. ✗ Problem solving method

Question Number : 162 Question Id : 1626531789 Question Type : MCQ Option Shuffling : Yes Display Question Number : Yes  
Single Line Question Option : No Option Orientation : Vertical

Correct Marks : 1 Wrong Marks : 0.25

प्राथमिक के छात्रों को जोड़ घटाव सिखाने के लिए कौन सी विधि उपयोगी हो सकती है?

Options :

1. ✓ खेलने के तरीके की विधि
2. ✗ प्रोजेक्ट विधि
3. ✗ विश्लेषणात्मक - संश्लेषणात्मक विधि
4. ✗ समस्या हल करने की विधि

Question Number : 163 Question Id : 1626531790 Question Type : MCQ Option Shuffling : Yes Display Question Number : Yes  
Single Line Question Option : No Option Orientation : Vertical

Correct Marks : 1 Wrong Marks : 0.25

\_\_\_\_\_ is a basic science about our earth and its daily activities, that include atmospheric conditions, food chains, water cycle etc.

Options :

1. ✖ Life science
2. ✖ Nature studies
3. ✖ Environmental education
4. ✔ Environmental science

Question Number : 163 Question Id : 1626531790 Question Type : MCQ Option Shuffling : Yes Display Question Number : Yes  
Single Line Question Option : No Option Orientation : Vertical

Correct Marks : 1 Wrong Marks : 0.25

\_\_\_\_\_ हमारी धरती और इसकी दैनिक गतिविधियों के बारे में एक बुनियादी विज्ञान है, जिसमें वायुमंडलीय परिस्थितियां, खाद्य श्रृंखला, जल चक्र इत्यादि शामिल हैं।

Options :

1. ✖ जैव विज्ञान
2. ✖ प्रकृति अध्ययन
3. ✖ पर्यावरण शिक्षा
4. ✔ पर्यावरण विज्ञान

Question Number : 164 Question Id : 1626531791 Question Type : MCQ Option Shuffling : Yes Display Question Number : Yes  
Single Line Question Option : No Option Orientation : Vertical

Correct Marks : 1 Wrong Marks : 0.25

At a school level, environmental education is necessary to create awareness of the \_\_\_\_\_ of issues like water scarcity, flood, erosion and desert encroachment.

Options :

1. ✖ utilization and application
2. ✔ causes and effects
3. ✖ exploitation and implications
4. ✖ resource management

Question Number : 164 Question Id : 1626531791 Question Type : MCQ Option Shuffling : Yes Display Question Number : Yes  
Single Line Question Option : No Option Orientation : Vertical

Correct Marks : 1 Wrong Marks : 0.25

स्कूल स्तर पर पानी की कमी, बाढ़, कटाव और रेगिस्तानी अतिक्रमण जैसे मुद्दों के \_\_\_\_\_ के बारे में जागरूकता पैदा करने हेतु पर्यावरणीय शिक्षा जरूरी है।

Options :

1. ✖ उपयोग और प्रयोग
2. ✔ कारण और प्रभाव
3. ✖ शोषण और परिणाम
4. ✖ संसाधन प्रबंधन

Question Number : 165 Question Id : 1626531792 Question Type : MCQ Option Shuffling : Yes Display Question Number : Yes  
Single Line Question Option : No Option Orientation : Vertical

Correct Marks : 1 Wrong Marks : 0.25

At primary level, students are taught environmental education with the following objectives, EXCEPT:

Options :

1. ✔ to solve problems related to individuals.
2. ✖ to make students understand true aspects of environment in general.
3. ✖ to build understanding of the changes happening in the world around us.
4. ✖ to build values and attitudes for harmony and peace.

Question Number : 165 Question Id : 1626531792 Question Type : MCQ Option Shuffling : Yes Display Question Number : Yes  
Single Line Question Option : No Option Orientation : Vertical

Correct Marks : 1 Wrong Marks : 0.25

प्राथमिक स्तर पर छात्रों को निम्नलिखित उद्देश्यों के साथ पर्यावरणीय शिक्षा दी जाती है, सिवाय:

Options :

1. ✔ व्यक्तियों से संबंधित समस्याओं को हल करने के लिए।
2. ✖ छात्रों को सामान्य रूप से पर्यावरण के वास्तविक पहलुओं को समझने के लिए।
3. ✖ हमारे आस - पास की दुनिया में होने वाले बदलावों को समझने के लिए।
4. ✖ सद्भाव और शांति हेतु मूल्यों और दृष्टिकोणों का निर्माण करने के लिए।



Question Number : 166 Question Id : 1626531793 Question Type : MCQ Option Shuffling : Yes Display Question Number : Yes  
Single Line Question Option : No Option Orientation : Vertical

Correct Marks : 1 Wrong Marks : 0.25

Which of the following statements is NOT true with respect to necessity to study environmental education at school level?

Options :

1. ✖ Enable students to theoretical knowledge into practice and multiple use of environment.
2. ✖ It makes students aware of problems of overpopulation, health and hygiene.
3. ✔ It teaches student to develop technology to cope up with the environment.
4. ✖ It teaches students sustainable usage of resources.

Question Number : 166 Question Id : 1626531793 Question Type : MCQ Option Shuffling : Yes Display Question Number : Yes  
Single Line Question Option : No Option Orientation : Vertical

Correct Marks : 1 Wrong Marks : 0.25

स्कूल स्तर पर पर्यावरणीय शिक्षा का अध्ययन करने की आवश्यकता के संबंध में निम्नलिखित में से कौन सा कथन सत

Options :

1. ✖ छात्रों को पर्यावरण के अभ्यास और बहु-उपयोग में सैद्धांतिक ज्ञान से सक्षम करना।
2. ✖ यह छात्रों को अधिक जनसंख्या, स्वास्थ्य और स्वच्छता की समस्याओं से अवगत कराता है।
3. ✔ यह छात्रों को पर्यावरण का सामना करने के लिए प्रौद्योगिकी विकसित करने के लिए सिखाता है।
4. ✖ यह छात्रों को संसाधनों के टिकाऊ उपयोग सिखाता है।

Question Number : 167 Question Id : 1626531794 Question Type : MCQ Option Shuffling : Yes Display Question Number : Yes  
Single Line Question Option : No Option Orientation : Vertical

Correct Marks : 1 Wrong Marks : 0.25

National Curriculum Framework emphasizes on the significance of Environmental Education to fulfill the objectives as follows, EXCEPT:

Options :

1. ✖ develop an awareness about environmental issues.
2. ✖ develop an understanding based on observation and illustration.
3. ✔ understand and equip society to undertake environmental problems.
4. ✖ create cognitive capacity and resourcefulness to make the child.

Question Number : 167 Question Id : 1626531794 Question Type : MCQ Option Shuffling : Yes Display Question Number : Yes  
Single Line Question Option : No Option Orientation : Vertical

Correct Marks : 1 Wrong Marks : 0.25

राष्ट्रीय पाठ्यचर्या फ्रेमवर्क निम्नलिखित उद्देश्यों को पूरा करने के लिए पर्यावरणीय शिक्षा के महत्व पर जोर देता है, सिवाय:

Options :

1. ✖ पर्यावरणीय मुद्दों के बारे में जागरूकता विकसित करना।
2. ✖ अवलोकन और चित्रण के आधार पर समझ विकसित करना।
3. ✔ पर्यावरणीय समस्याओं को हल करने के लिए समाज को समझाना और सुसज्जित करना।
4. ✖ बच्चे को बनाने के लिए संज्ञानात्मक क्षमता और संसाधनपूर्णता उत्पन्न करना।

Question Number : 168 Question Id : 1626531795 Question Type : MCQ Option Shuffling : Yes Display Question Number : Yes  
Single Line Question Option : No Option Orientation : Vertical

Correct Marks : 1 Wrong Marks : 0.25

James High defines \_\_\_\_\_ as the body of learning and study which recognize the simultaneous and mutual action of physical and non-physical stimuli which produce social reaction.

Options :

1. ✔ Social sciences
2. ✖ Sociology
3. ✖ Social work
4. ✖ Social education

Question Number : 168 Question Id : 1626531795 Question Type : MCQ Option Shuffling : Yes Display Question Number : Yes  
Single Line Question Option : No Option Orientation : Vertical

Correct Marks : 1 Wrong Marks : 0.25

जेम्स हाई सीखने और अध्ययन के ढांचे के रूप में \_\_\_\_\_ को परिभाषित करता है जो सामाजिक प्रतिक्रिया उत्पन्न करने वाली भौतिक और गैर-भौतिक उत्तेजना की एक साथ और पारस्परिक क्रिया को पहचानता है।

Options :

1. ✔ सामाजिक विज्ञान
2. ✖ समाजशास्त्र
3. ✖ सामाजिक कार्य



#### 4. ✖ सामाजिक शिक्षा

Question Number : 169 Question Id : 1626531796 Question Type : MCQ Option Shuffling : Yes Display Question Number : Yes  
Single Line Question Option : No Option Orientation : Vertical

Correct Marks : 1 Wrong Marks : 0.25

\_\_\_\_\_ aspect of Social Sciences refers to relevant details regarding the space/place where living things lives and regarding the natural and physical resources needed for proper sustenance.

Options :

- 1. ✖ Civics
- 2. ✔ Geographical
- 3. ✖ Sociological
- 4. ✖ Economics

Question Number : 169 Question Id : 1626531796 Question Type : MCQ Option Shuffling : Yes Display Question Number : Yes  
Single Line Question Option : No Option Orientation : Vertical

Correct Marks : 1 Wrong Marks : 0.25

सामाजिक विज्ञान का \_\_\_\_\_ पहलू जगह / स्थान के बारे में जहां जीवित चीजें रहती हैं और उचित भोजन के लिए आवश्यक प्राकृतिक और भौतिक संसाधनों के संबंध में प्रासंगिक विवरणों को संदर्भित करता है।

Options :

- 1. ✖ नागरिक
- 2. ✔ भौगोलिक
- 3. ✖ सामाजिक
- 4. ✖ अर्थशास्त्र

Question Number : 170 Question Id : 1626531797 Question Type : MCQ Option Shuffling : Yes Display Question Number : Yes  
Single Line Question Option : No Option Orientation : Vertical

Correct Marks : 1 Wrong Marks : 0.25

Social science is considered as an irreducible minimum programme essentially required for equipping man with \_\_\_\_\_ that would enable him to lead a successful life.

Options :

- 1. ✖ attitude and understanding
- 2. ✖ attitudes and knowledge

3. ✓ insights and skills

4. ✗ insights and knowledge

Question Number : 170 Question Id : 1626531797 Question Type : MCQ Option Shuffling : Yes Display Question Number : Yes  
Single Line Question Option : No Option Orientation : Vertical

Correct Marks : 1 Wrong Marks : 0.25

सामाजिक विज्ञान को अनिवार्य न्यूनतम कार्यक्रम के रूप में माना जाता है जो अनिवार्य रूप से \_\_\_\_\_  
के साथ मनुष्य को लैस करने के लिए आवश्यक होता है जो उसे सफल जीवन जीने में सक्षम बनाता है।

Options :

1. ✗ दृष्टिकोण और समझ

2. ✗ दृष्टिकोण और ज्ञान

3. ✓ अंतर्दृष्टि और कौशल

4. ✗ अंतर्दृष्टि और ज्ञान

Question Number : 171 Question Id : 1626531798 Question Type : MCQ Option Shuffling : Yes Display Question Number : Yes  
Single Line Question Option : No Option Orientation : Vertical

Correct Marks : 1 Wrong Marks : 0.25

Who stated the existence of musical intelligence among the child?

Options :

1. ✗ Jean Piaget

2. ✗ Kohlberg

3. ✗ Gestalt

4. ✓ Dr. Howard Gardner

Question Number : 171 Question Id : 1626531798 Question Type : MCQ Option Shuffling : Yes Display Question Number : Yes  
Single Line Question Option : No Option Orientation : Vertical

Correct Marks : 1 Wrong Marks : 0.25

बच्चों में संगीत बुद्धि का अस्तित्व किसने बताया?

Options :

1. ✗ जीन पिगेट

2. ✖ कोलबर्ग
3. ✖ गेस्टाल्ट
4. ✔ डॉ हॉवर्ड गार्डनर

Question Number : 172 Question Id : 1626531799 Question Type : MCQ Option Shuffling : Yes Display Question Number : Yes  
Single Line Question Option : No Option Orientation : Vertical

Correct Marks : 1 Wrong Marks : 0.25

Read the below statements I and II carefully. Choose the appropriate option from the given.

Statements:

I: 'Problem' students often became the high-achievers in arts learning settings.

II: Success in the arts became a bridge to learning and eventual success in other areas of learning.

Options :

1. ✖ These are the assumptions of arts education.
2. ✖ Both the statements are true.
3. ✔ Second statement is true.
4. ✖ Both the statements are false.

Question Number : 172 Question Id : 1626531799 Question Type : MCQ Option Shuffling : Yes Display Question Number : Yes  
Single Line Question Option : No Option Orientation : Vertical

Correct Marks : 1 Wrong Marks : 0.25

नीचे दिए गए कथन I और II को ध्यान से पढ़ें। उपयुक्त विकल्प चुनें।

कथन I: 'समस्यामूलक' छात्र कला सीखने के क्षेत्र में अक्सर उच्च-उपलब्धि हासिल करने वाले बन जाते हैं।

कथन II: कला में सफलता सीखने और शिक्षण के अन्य क्षेत्रों में सफलता के लिए एक पुल बन जाती है।

Options :

1. ✖ ये कला शिक्षा की धारणाएं हैं।
2. ✖ दोनों कथन सत्य हैं।
3. ✔ दूसरा कथन सत्य है।
4. ✖ दोनों कथन असत्य हैं।

Question Number : 173 Question Id : 1626531800 Question Type : MCQ Option Shuffling : Yes Display Question Number : Yes  
Single Line Question Option : No Option Orientation : Vertical

Correct Marks : 1 Wrong Marks : 0.25

How can art education helps in learning?

Options :

1. ✖ To link the learnt knowledge with arts
2. ✖ To develop artistic view
3. ✖ To develop skills and values related to arts education
4. ✔ To gain in math, reading, cognitive ability, critical thinking, and verbal skill

Question Number : 173 Question Id : 1626531800 Question Type : MCQ Option Shuffling : Yes Display Question Number : Yes  
Single Line Question Option : No Option Orientation : Vertical

Correct Marks : 1 Wrong Marks : 0.25

कला की शिक्षा सीखने में कैसे मदद कर सकती है?

Options :

1. ✖ सीखे ज्ञान को कला के साथ जोड़ कर।
2. ✖ कलात्मक दृष्टिकोण विकसित करके।
3. ✖ कला शिक्षा से संबंधित कौशल और मूल्यों को विकसित करके।
4. ✔ गणित, पढ़ने, संज्ञानात्मक क्षमता, आलोचनात्मक सोच, और मौखिक कौशल में सफलता प्राप्त करके।

Question Number : 174 Question Id : 1626531801 Question Type : MCQ Option Shuffling : Yes Display Question Number : Yes  
Single Line Question Option : No Option Orientation : Vertical

Correct Marks : 1 Wrong Marks : 0.25

What is the need of teaching yoga to young students?

Options :

1. ✖ It helps to build fine physique.
2. ✔ Students learn to cope up with difficult situations by healthy mind.
3. ✖ It helps in building a sense of cooperation and team spirit.
4. ✖ It does not allows students to study hard.

Question Number : 174 Question Id : 1626531801 Question Type : MCQ Option Shuffling : Yes Display Question Number : Yes  
Single Line Question Option : No Option Orientation : Vertical



Correct Marks : 1 Wrong Marks : 0.25

छोटे छात्रों को योग पढ़ाने की क्या ज़रूरत है?

Options :

1. ✖ यह सुगठित शरीर बनाने में मदद करता है।
2. ✔ छात्र स्वस्थ दिमाग से मुश्किल परिस्थितियों का सामना करना सीखते हैं।
3. ✖ यह सहयोग और टीम भावना की भावना बनाने में मदद करता है।
4. ✖ यह छात्रों को कड़ी मेहनत करने की अनुमति नहीं देता है।

Question Number : 175 Question Id : 1626531802 Question Type : MCQ Option Shuffling : Yes Display Question Number : Yes  
Single Line Question Option : No Option Orientation : Vertical

Correct Marks : 1 Wrong Marks : 0.25

What is the best way to play games in school?

Options :

1. ✖ Exercise 10 minutes, main game 20 minutes, cooling down 10 minutes.
2. ✖ Warm up 10 minutes, main game 20 minutes.
3. ✖ Warm up 5 minutes, main game 25 minutes, cooling down 10 minutes.
4. ✔ Warm up 5 minutes, main game 20 minutes, cooling down 5 minutes.

Question Number : 175 Question Id : 1626531802 Question Type : MCQ Option Shuffling : Yes Display Question Number : Yes  
Single Line Question Option : No Option Orientation : Vertical

Correct Marks : 1 Wrong Marks : 0.25

स्कूल में खेल खेलने का सबसे अच्छा तरीका क्या है?

Options :

1. ✖ व्यायाम 10 मिनट, मुख्य खेल 20 मिनट, विश्राम 10 मिनट।
2. ✖ वार्म अप 10 मिनट, मुख्य खेल 20 मिनट।
3. ✖ वार्म अप 5 मिनट, मुख्य खेल 25 मिनट, विश्राम 10 मिनट।
4. ✔ वार्म अप 5 मिनट, मुख्य खेल 20 मिनट, विश्राम 5 मिनट।



Question Number : 176 Question Id : 1626531803 Question Type : MCQ Option Shuffling : Yes Display Question Number : Yes  
Single Line Question Option : No Option Orientation : Vertical

Correct Marks : 1 Wrong Marks : 0.25

What is suitable way for teaching gardening to primary students?

Options :

1. ☒ Plant a seed and tell them to observe it and take care of it with simple tips.
2. ☐ Show the video of plantation.
3. ☐ Take them to visit the jungle.
4. ☐ Create a miniature garden.

Question Number : 176 Question Id : 1626531803 Question Type : MCQ Option Shuffling : Yes Display Question Number : Yes  
Single Line Question Option : No Option Orientation : Vertical

Correct Marks : 1 Wrong Marks : 0.25

प्राथमिक छात्रों को बागवानी सिखाने के लिए उपयुक्त तरीका क्या है?

Options :

1. ☒ एक बीज बोएं और उन्हें इसे देखने और सरल उपायों के द्वारा इसकी देखभाल करने के लिए कहें।
2. ☐ वृक्षारोपण का वीडियो दिखाएं।
3. ☐ उन्हें जंगल की सैर कराएं।
4. ☐ एक लघु उद्यान बनाएँ।

Question Number : 177 Question Id : 1626531804 Question Type : MCQ Option Shuffling : Yes Display Question Number : Yes  
Single Line Question Option : No Option Orientation : Vertical

Correct Marks : 1 Wrong Marks : 0.25

“Accurate and age-appropriate information, skill building and empowerment and friendly health services and counseling” is the gist of \_\_\_\_\_.

Options :

1. ☐ right to education
2. ☐ right to information
3. ☒ right to safe and supportive environment

4. ✖ right to health and safety

Question Number : 177 Question Id : 1626531804 Question Type : MCQ Option Shuffling : Yes Display Question Number : Yes  
Single Line Question Option : No Option Orientation : Vertical

Correct Marks : 1 Wrong Marks : 0.25

"सटीक और आयु-उपयुक्त जानकारी, कौशल निर्माण और सशक्तिकरण और अनुकूल स्वास्थ्य सेवाएं और परामर्श" किस का सारांश है?

Options :

1. ✖ शिक्षा का अधिकार
2. ✖ सूचना का अधिकार
3. ✔ सुरक्षित और सहायक वातावरण का अधिकार
4. ✖ स्वास्थ्य और सुरक्षा का अधिकार

Question Number : 178 Question Id : 1626531805 Question Type : MCQ Option Shuffling : Yes Display Question Number : Yes  
Single Line Question Option : No Option Orientation : Vertical

Correct Marks : 1 Wrong Marks : 0.25

Tobacco and alcohol can lead to accidents, violence, mental illness and loss of productivity in adolescents. This is called \_\_\_\_\_ adolescents.

Options :

1. ✖ general behavior of
2. ✔ common high risk behavior in
3. ✖ uncommon behavior in
4. ✖ vulnerable behavior in

Question Number : 178 Question Id : 1626531805 Question Type : MCQ Option Shuffling : Yes Display Question Number : Yes  
Single Line Question Option : No Option Orientation : Vertical

Correct Marks : 1 Wrong Marks : 0.25

तम्बाकू और अल्कोहल किशोरों में दुर्घटनाओं, हिंसा, मानसिक बीमारी और उत्पादकता में कमी का कारण बन सकता है। इसे किशोरावस्था \_\_\_\_\_ कहा जाता है।

Options :

1. ✖ का सामान्य व्यवहार

2. ✓ में आम उच्च जोखिम व्यवहार

3. ✗ में असामान्य व्यवहार

4. ✗ में असुरक्षित व्यवहार

Question Number : 179 Question Id : 1626531806 Question Type : MCQ Option Shuffling : Yes Display Question Number : Yes  
Single Line Question Option : No Option Orientation : Vertical

Correct Marks : 1 Wrong Marks : 0.25

How can life skill development be defined?

Options :

1. ✓ A process that helps individuals to mature and deal with situations in an efficient manner.

2. ✗ Process that helps in adjusting in life.

3. ✗ Process that develops self-confidence.

4. ✗ Process that enables higher educational qualifications.

Question Number : 179 Question Id : 1626531806 Question Type : MCQ Option Shuffling : Yes Display Question Number : Yes  
Single Line Question Option : No Option Orientation : Vertical

Correct Marks : 1 Wrong Marks : 0.25

जीवन कौशल विकास कैसे परिभाषित किया जा सकता है?

Options :

1. ✓ एक प्रक्रिया जो व्यक्तियों को परिपक्व होने और परिस्थितियों से प्रभावी तरीके से निपटने में मदद करती है।

2. ✗ प्रक्रिया जो जीवन में समायोजन में मदद करती है।

3. ✗ प्रक्रिया जो आत्मविश्वास विकसित करती है।

4. ✗ प्रक्रिया जो उच्च शैक्षिक योग्यताओं को सक्षम बनाती है।

Question Number : 180 Question Id : 1626531807 Question Type : MCQ Option Shuffling : Yes Display Question Number : Yes  
Single Line Question Option : No Option Orientation : Vertical

Correct Marks : 1 Wrong Marks : 0.25

Positive peer relations and constructive interpersonal skills \_\_\_\_\_ in adolescents.

Options :

1. ✖ develop cognitive abilities
2. ✖ promote physical development
3. ✔ promote social skills
4. ✖ enhance academic performance

Question Number : 180 Question Id : 1626531807 Question Type : MCQ Option Shuffling : Yes Display Question Number : Yes  
Single Line Question Option : No Option Orientation : Vertical

Correct Marks : 1 Wrong Marks : 0.25

सकारात्मक समकक्ष संबंध और रचनात्मक पारस्परिक कौशल किशोरावस्था में \_\_\_\_\_ हैं।

Options :

1. ✖ संज्ञानात्मक क्षमताओं का विकास करते
2. ✖ शारीरिक विकास को बढ़ावा देते
3. ✔ सामाजिक कौशल को बढ़ावा देते
4. ✖ अकादमिक प्रदर्शन में सुधार करते

#### Subject Related

Group Number :	10
Group Id :	16265390
Group Maximum Duration :	0
Group Minimum Duration :	120
Revisit allowed for view? :	No
Revisit allowed for edit? :	No
Break time:	0
Group Marks:	20
Revisit allowed for group Instructions? :	Yes
Maximum Instruction Time:	0
Minimum Instruction Time:	0

#### Subject Related

Section Id :	16265390
Section Number :	1
Section type :	Online
Mandatory or Optional:	Mandatory
Number of Questions:	20
Number of Questions to be attempted:	20



Section Marks:	20
Display Number Panel:	Yes
Group All Questions:	No

Sub-Section Number:	1
Sub-Section Id:	162653118
Question Shuffling Allowed :	Yes

Question Number : 181 Question Id : 1626531808 Question Type : MCQ Option Shuffling : Yes Display Question Number : Yes  
Single Line Question Option : No Option Orientation : Vertical

Correct Marks : 1 Wrong Marks : 0.25

Anger, fear, shame, and disgust give rise to variation in moods, nervousness, sensitiveness, stubbornness, disobedience etc. Sex drive is also a prolific source of disturbance in adolescence. Such condition is termed as:

Options :

1. ☒ emotional immaturity
2. ☐ physical immaturity
3. ☐ social irresponsibility
4. ☐ sexual inquisitiveness

Question Number : 181 Question Id : 1626531808 Question Type : MCQ Option Shuffling : Yes Display Question Number : Yes  
Single Line Question Option : No Option Orientation : Vertical

Correct Marks : 1 Wrong Marks : 0.25

क्रोध, भय, शर्म और घृणा; मनोदशा, घबराहट, संवेदनशीलता, जिदपन, अवज्ञा आदि में भिन्नता को जन्म देती है। यौन इच्छा भी किशोरावस्था में अशांति का एक उत्पादक स्रोत है। ऐसी स्थिति को क्या कहा जाता है?

Options :

1. ☒ भावनात्मक अपरिपक्वता
2. ☐ शारीरिक अपरिपक्वता
3. ☐ सामाजिक गैर जिम्मेदारी
4. ☐ यौन जिज्ञासा

Question Number : 182 Question Id : 1626531809 Question Type : MCQ Option Shuffling : Yes Display Question Number : Yes  
Single Line Question Option : No Option Orientation : Vertical

Correct Marks : 1 Wrong Marks : 0.25

Debates, seminars, group games and other collaborative activities organized by the teacher help in \_\_\_\_\_ adolescents.

Options :



1. ✖ counseling the
2. ✖ providing recreation for
3. ✖ physical development of the
4. ✔ social development of the

Question Number : 182 Question Id : 1626531809 Question Type : MCQ Option Shuffling : Yes Display Question Number : Yes  
Single Line Question Option : No Option Orientation : Vertical

Correct Marks : 1 Wrong Marks : 0.25

बहस, संगोष्ठियां, सामूहिक खेल और शिक्षक द्वारा आयोजित अन्य सहयोगात्मक गतिविधियां किशोरों \_\_\_\_\_ में मदद करती हैं।

Options :

1. ✖ को सलाह देने
2. ✖ के लिए मनोरंजन प्रदान करने
3. ✖ का शारीरिक विकास करने
4. ✔ का सामाजिक विकास करने

Question Number : 183 Question Id : 1626531810 Question Type : MCQ Option Shuffling : Yes Display Question Number : Yes  
Single Line Question Option : No Option Orientation : Vertical

Correct Marks : 1 Wrong Marks : 0.25

Who should be involved in planning for students' safety at school?

Options :

1. ✖ School management
2. ✖ School Principal
3. ✔ Parents, teachers, school management, community people and political parties
4. ✖ World Health Organization

Question Number : 183 Question Id : 1626531810 Question Type : MCQ Option Shuffling : Yes Display Question Number : Yes  
Single Line Question Option : No Option Orientation : Vertical

Correct Marks : 1 Wrong Marks : 0.25

स्कूल में छात्रों की सुरक्षा के लिए योजना बनाने में कौन शामिल होना चाहिए?

Options :

1. ✖ स्कूल प्रबंधन
2. ✖ स्कूल प्रधानाचार्य
3. ✔ माता-पिता, शिक्षक, स्कूल प्रबंधन, समुदाय के लोग और राजनीतिक दल
4. ✖ विश्व स्वास्थ्य संगठन

Question Number : 184 Question Id : 1626531811 Question Type : MCQ Option Shuffling : Yes Display Question Number : Yes  
Single Line Question Option : No Option Orientation : Vertical

Correct Marks : 1 Wrong Marks : 0.25

“Verification and evaluation for non-teaching staff such as, bus drivers, conductors, peon and other support staff may be done very carefully and in a detailed manner.” Who gave this suggestion?

Options :

1. ✔ CBSE
2. ✖ NPE
3. ✖ NCF
4. ✖ State Government

Question Number : 184 Question Id : 1626531811 Question Type : MCQ Option Shuffling : Yes Display Question Number : Yes  
Single Line Question Option : No Option Orientation : Vertical

Correct Marks : 1 Wrong Marks : 0.25

“गैर-शिक्षण स्टाफ जैसे बस ड्राइवर, कंडक्टर, चपरासी तथा अन्य सहायक स्टाफ का सत्यापन और मूल्यांकन बहुत ही सावधानी से तथा विस्तृत रूप से किया जा सकता है” यह सुझाव किसने दिया था?

Options :

1. ✔ सी.बी.एस.ई. (CBSE)
2. ✖ एन.पी.ई. (NPE)
3. ✖ एन.सी.एफ. (NCF)
4. ✖ राज्य सरकार

Question Number : 185 Question Id : 1626531812 Question Type : MCQ Option Shuffling : Yes Display Question Number : Yes  
Single Line Question Option : No Option Orientation : Vertical

Correct Marks : 1 Wrong Marks : 0.25

What should be done if there is a fire in a school due to short circuit?

Options :

1. ☒ Take all students on ground safely.
2. ☐ Put plenty of water on fire.
3. ☐ Start all fans for ventilation.
4. ☐ Lie down on the floor and wait till fire exits.

Question Number : 185 Question Id : 1626531812 Question Type : MCQ Option Shuffling : Yes Display Question Number : Yes  
Single Line Question Option : No Option Orientation : Vertical

Correct Marks : 1 Wrong Marks : 0.25

शॉर्ट सर्किट के कारण स्कूल में आग लगने पर क्या करना चाहिए?

Options :

1. ☒ सभी छात्रों को सुरक्षित रूप से जमीन पर ले जाएं।
2. ☐ आग पर बहुत सारा पानी डालें।
3. ☐ वेंटिलेशन के लिए सभी पंखों को चालू करें।
4. ☐ फर्श पर लेट जाएँ और आग के बुझने तक प्रतीक्षा करें।

Question Number : 186 Question Id : 1626531813 Question Type : MCQ Option Shuffling : Yes Display Question Number : Yes  
Single Line Question Option : No Option Orientation : Vertical

Correct Marks : 1 Wrong Marks : 0.25

What is required for the first aid kit?

Options :

1. ☐ Lotion Povidone-Iodine, Framycetin sulphate, Splints, Tourniquet, Kidney Tray, Cotton.
2. ☐ Cotton, Lotion Chlorhexidine, Scissors, Box, Ice Bag Sample, Hot Water Bottle.
3. ☐ Thermometer, Roller Bandage, Gauze Pad, Scissors, Lotion, Band Aid, Tape.
4. ☒ Thermometer, Roller Bandage, Gauze Pad, Lotion Chlorhexidine, Lotion Povidone-Iodine, Framycetin sulphate, Splints, Tourniquet, Kidney Tray, Cotton, Eye Pad, Tape Adhesive, Band Aid, Scissors, Box, Ice Bag Sample, Hot Water Bottle.

Question Number : 186 Question Id : 1626531813 Question Type : MCQ Option Shuffling : Yes Display Question Number : Yes  
Single Line Question Option : No Option Orientation : Vertical

Correct Marks : 1 Wrong Marks : 0.25

प्राथमिक चिकित्सा किट के लिए क्या आवश्यक है?

Options :

1. ✖ लोशन पोविडोन-आयोडीन, फ्रैमिसिटिन सल्फेट, स्प्लिंट्स, टूर्निकेट, किडनी ट्रे, रुई
2. ✖ रुई, लोशन क्लोरेक्साइडिन, कैंची, बॉक्स, आइस बैग नमूना, गर्म पानी की बोतल
3. ✖ थर्मामीटर, रोलर बैंडेज, गौज पैड, कैंची, लोशन, बैंड एड, टेप
4. ✔ थर्मामीटर, रोलर बैंडेज, गौज पैड, लोशन क्लोरेक्साइडिन, लोशन पोविडोन-आयोडीन, फ्रैमिसिटिन सल्फेट, स्प्लिंट्स, टूर्निकेट, किडनी ट्रे, रुई, आई पैड, टेप एडहेसिव, बैंड एड, कैंची, बॉक्स, आइस बैग नमूना, गर्म पानी की बोतल

Question Number : 187 Question Id : 1626531814 Question Type : MCQ Option Shuffling : Yes Display Question Number : Yes  
Single Line Question Option : No Option Orientation : Vertical

Correct Marks : 1 Wrong Marks : 0.25

How to ensure students safety on the road besides the school?

Options :

1. ✔ By doing school route audit.
2. ✖ By doing school infrastructure audit.
3. ✖ By doing school budget audit.
4. ✖ By assigning sign boards to school route.

Question Number : 187 Question Id : 1626531814 Question Type : MCQ Option Shuffling : Yes Display Question Number : Yes  
Single Line Question Option : No Option Orientation : Vertical

Correct Marks : 1 Wrong Marks : 0.25

स्कूल से अन्यत्र सड़क पर छात्रों की सुरक्षा कैसे सुनिश्चित करें?

Options :

1. ✔ स्कूल मार्ग का ऑडिट करके
2. ✖ स्कूल की आधारभूत संरचना का ऑडिट करके



3. ✖ स्कूल के बजट का ऑडिट करके।

4. ✖ स्कूल मार्ग पर साइन बोर्ड लगा करके।

Question Number : 188 Question Id : 1626531815 Question Type : MCQ Option Shuffling : Yes Display Question Number : Yes  
Single Line Question Option : No Option Orientation : Vertical

Correct Marks : 1 Wrong Marks : 0.25

Which of the following is NOT applicable for school safety?

Options :

1. ✔

Kitchen and other activities involving use of fire should be carried out in the main school building.

2. ✖

Emergency telephone numbers and list of persons to be contacted in case of any eventuality shall be displayed on the notice board.

3. ✖ Mock drills will be conducted regularly.

4. ✖ No High Tension Lines should run inside or over the premises of a school.

Question Number : 188 Question Id : 1626531815 Question Type : MCQ Option Shuffling : Yes Display Question Number : Yes  
Single Line Question Option : No Option Orientation : Vertical

Correct Marks : 1 Wrong Marks : 0.25

स्कूल सुरक्षा के लिए निम्नलिखित में से कौन सा लागू नहीं है?

Options :

1. ✔

रसोई और अन्य गतिविधियां जिनमें आग का उपयोग शामिल होता है, मुख्य स्कूल भवन में की जानी चाहिए।

2. ✖

किसी भी आपात स्थिति में आपातकालीन टेलीफोन नंबर और संपर्क किए जाने वाले व्यक्तियों की सूची नोटिस बोर्ड पर प्रदर्शित किया जाएगा।

3. ✖ तैयारी अभ्यास नियमित रूप से आयोजित किया जाएगा।

4. ✖ स्कूल परिसर में या उसके ऊपर कोई हाई टेंशन लाइन नहीं होने चाहिए।

Question Number : 189 Question Id : 1626531816 Question Type : MCQ Option Shuffling : Yes Display Question Number : Yes  
Single Line Question Option : No Option Orientation : Vertical

Correct Marks : 1 Wrong Marks : 0.25

The competencies to be developed in work \_\_\_\_\_ field should include knowledge, understanding, practical skills and values through need based life activities.

Options :



1. ✓ education
2. ✗ studies
3. ✗ experience
4. ✗ culture

Question Number : 189 Question Id : 1626531816 Question Type : MCQ Option Shuffling : Yes Display Question Number : Yes  
Single Line Question Option : No Option Orientation : Vertical

Correct Marks : 1 Wrong Marks : 0.25

कार्य \_\_\_\_\_ के क्षेत्र में विकसित होने वाली दक्षताओं में जीवन आधारित गतिविधियों के माध्यम से ज्ञान, समझ, व्यावहारिक कौशल और मूल्य शामिल होना चाहिए।

Options :

1. ✓ शिक्षा
2. ✗ अध्ययन
3. ✗ अनुभव
4. ✗ संस्कृति

Question Number : 190 Question Id : 1626531817 Question Type : MCQ Option Shuffling : Yes Display Question Number : Yes  
Single Line Question Option : No Option Orientation : Vertical

Correct Marks : 1 Wrong Marks : 0.25

First aid activities like counting of pulse, taking of temperature and bandaging of wounds after cleaning them etc. are included in \_\_\_\_\_ activities under work education subject.

Options :

1. ✓ Self-help
2. ✗ Community outreach
3. ✗ Vocational
4. ✗ Recreation

Question Number : 190 Question Id : 1626531817 Question Type : MCQ Option Shuffling : Yes Display Question Number : Yes  
Single Line Question Option : No Option Orientation : Vertical

Correct Marks : 1 Wrong Marks : 0.25

प्राथमिक चिकित्सा गतिविधियां जैसे नाड़ी की गिनती, तापमान लेना और साफ करने के बाद घाव पर बैंडेजिंग करना आदि कार्य शिक्षा विषय के तहत \_\_\_\_\_ गतिविधियां में शामिल हैं।

Options :

1. ☒ स्व-सहायता
2. ☐ सामुदायिक आउटरीच
3. ☐ व्यावसायिक
4. ☐ मनोरंजन

Question Number : 191 Question Id : 1626531818 Question Type : MCQ Option Shuffling : Yes Display Question Number : Yes  
Single Line Question Option : No Option Orientation : Vertical

Correct Marks : 1 Wrong Marks : 0.25

The total number of periods for performance of the Community-Outreach activities are approximately \_\_\_\_\_ periods for two years at the secondary stage.

Options :

1. ☐ 25
2. ☐ 20
3. ☐ 45
4. ☒ 40

Question Number : 191 Question Id : 1626531818 Question Type : MCQ Option Shuffling : Yes Display Question Number : Yes  
Single Line Question Option : No Option Orientation : Vertical

Correct Marks : 1 Wrong Marks : 0.25

सामुदायिक - आउटरीच गतिविधियों के प्रदर्शन के लिए उच्चतर माध्यमिक चरण में दो साल के लिए अवधियों की कुल संख्या लगभग \_\_\_\_\_ अवधियां है।

Options :

1. ☐ 25
2. ☐ 20
3. ☐ 45
4. ☒ 40

Question Number : 192 Question Id : 1626531819 Question Type : MCQ Option Shuffling : Yes Display Question Number : Yes  
Single Line Question Option : No Option Orientation : Vertical

Correct Marks : 1 Wrong Marks : 0.25

Essential professional development competencies for enhancing teaching efficacy are as follows, EXCEPT:

Options :

1. ✖ intercultural communication
2. ✖ prejudice reduction
3. ✖ designing curriculum and instructions
4. ✔ establishing communication with parents

Question Number : 192 Question Id : 1626531819 Question Type : MCQ Option Shuffling : Yes Display Question Number : Yes  
Single Line Question Option : No Option Orientation : Vertical

Correct Marks : 1 Wrong Marks : 0.25

शिक्षण प्रभावकारिता को बढ़ाने के लिए आवश्यक व्यावसायिक विकास दक्षताएं निम्नानुसार हैं, सिवाय:

Options :

1. ✖ अंतर - संस्कृति संचार
2. ✖ पूर्वाग्रह में कमी
3. ✖ पाठ्यक्रम और निर्देश तैयार करना
4. ✔ माता-पिता के साथ संचार स्थापित करना

Question Number : 193 Question Id : 1626531820 Question Type : MCQ Option Shuffling : Yes Display Question Number : Yes  
Single Line Question Option : No Option Orientation : Vertical

Correct Marks : 1 Wrong Marks : 0.25

Better learning happens in a dynamic setting in which teachers offer explicit active instruction than in situations in which teachers do not actively guide instruction and instead turn control over content and pace of instruction to students. The competencies involved refers to:

Options :

1. ✖ teaching
2. ✔ instructional delivery
3. ✖ micro-teaching
4. ✖ micro-learning

Question Number : 193 Question Id : 1626531820 Question Type : MCQ Option Shuffling : Yes Display Question Number : Yes  
Single Line Question Option : No Option Orientation : Vertical

Correct Marks : 1 Wrong Marks : 0.25

ऐसी परिस्थितियों जिसमें शिक्षक सक्रिय रूप से निर्देशों का मार्गदर्शन नहीं करते हैं और इसके बजाय छात्रों को दिए जाने वाले निर्देश की सामग्री और निर्देश की गति पर नियंत्रण करते हैं की तुलना में एक गतिशील माहौल में बेहतर सीखना होता है जिसमें शिक्षक छात्रों को स्पष्ट सक्रिय निर्देश प्रदान करते हैं। शामिल दक्षताएं क्या संदर्भित करती हैं?

Options :

1. ✖ शिक्षण
2. ✔ अनुदेशात्मक वितरण
3. ✖ सूक्ष्म-शिक्षण
4. ✖ सूक्ष्म-सीखना

Question Number : 194 Question Id : 1626531821 Question Type : MCQ Option Shuffling : Yes Display Question Number : Yes  
Single Line Question Option : No Option Orientation : Vertical

Correct Marks : 1 Wrong Marks : 0.25

The research findings confirmed that School Management Committee can bring about positive changes in the school through \_\_\_\_\_.

Options :

1. ✔ commitment and consensus
2. ✖ mutual benefit
3. ✖ collaboration
4. ✖ Cooperation and participation

Question Number : 194 Question Id : 1626531821 Question Type : MCQ Option Shuffling : Yes Display Question Number : Yes  
Single Line Question Option : No Option Orientation : Vertical

Correct Marks : 1 Wrong Marks : 0.25

शोध निष्कर्षों ने पुष्टि की है कि स्कूल प्रबंधन समिति स्कूल में \_\_\_\_\_ के माध्यम से स्कूल में सकारात्मक बदलाव ला सकती है।

Options :

1. ✔ प्रतिबद्धता और सर्वसम्मति



2. ✖ पारस्परिक लाभ
3. ✖ सहयोग
4. ✖ समन्वय और भागीदारी

Question Number : 195 Question Id : 1626531822 Question Type : MCQ Option Shuffling : Yes Display Question Number : Yes  
Single Line Question Option : No Option Orientation : Vertical

Correct Marks : 1 Wrong Marks : 0.25

Following are the responsibilities of PTA, EXCEPT:

Options :

1. ✖ contribute to ideas for fundraising.
2. ✖ contribute to discussions and support decisions.
3. ✖ prepare a report on the yearly activities.
4. ✔ decide on the medium of instruction in school.

Question Number : 195 Question Id : 1626531822 Question Type : MCQ Option Shuffling : Yes Display Question Number : Yes  
Single Line Question Option : No Option Orientation : Vertical

Correct Marks : 1 Wrong Marks : 0.25

पी.टी.ए. (PTA) की निम्नलिखित जिम्मेदारियां हैं, सिवाय:

Options :

1. ✖ धन उगाहने के लिए विचारों में योगदान।
2. ✖ चर्चाओं में योगदान करना और निर्णयों का समर्थन।
3. ✖ वार्षिक गतिविधियों पर एक रिपोर्ट तैयार करना।
4. ✔ स्कूल में निर्देश के माध्यम पर निर्णय लेना।

Question Number : 196 Question Id : 1626531823 Question Type : MCQ Option Shuffling : Yes Display Question Number : Yes  
Single Line Question Option : No Option Orientation : Vertical

Correct Marks : 1 Wrong Marks : 0.25

Teachers play vital roles in the lives of the students in their classrooms. Considering this, which of the following roles are important?

Options :

1. ✔ Creating conducive classroom environment, mentoring, role modeling and active teaching.



2. ✖ Preparing lesson plans, using teaching aids, conducting assessment and evaluation.
3. ✖ Mentoring, problem solving, counseling.
4. ✖ Listening to students, build their confidence and creating warm, happy environment.

Question Number : 196 Question Id : 1626531823 Question Type : MCQ Option Shuffling : Yes Display Question Number : Yes  
Single Line Question Option : No Option Orientation : Vertical  
Correct Marks : 1 Wrong Marks : 0.25

शिक्षक अपनी कक्षाओं में छात्रों के जीवन में महत्वपूर्ण भूमिका निभाते हैं। इसे ध्यान में रखते हुए, निम्नलिखित में से कौन सी भूमिकाएं महत्वपूर्ण हैं?

Options :

1. ✔ अनुकूल कक्षा माहौल उत्पन्न करना, परामर्श देना, आदर्श भूमिका वहन करना और सक्रिय शिक्षण करना।
2. ✖ पाठ योजना तैयार करना शिक्षण सहायता का उपयोग करना, आकलन और मूल्यांकन करना।
3. ✖ सलाह देना, समस्या हल करना, परामर्श देना।
4. ✖ छात्रों को सुनना, उनका आत्मविश्वास जगाना और गर्मजोशी भरा, खुशनुमा वातावरण बनाना।

Question Number : 197 Question Id : 1626531824 Question Type : MCQ Option Shuffling : Yes Display Question Number : Yes  
Single Line Question Option : No Option Orientation : Vertical  
Correct Marks : 1 Wrong Marks : 0.25

Which are the most important skills a teacher require as a part of his/her work in school management?

Options :

1. ✖ Logical thinking, communication and planning skills.
2. ✔ Independent thinking skills, self-management skills, collaboration skills and interpersonal skills.
3. ✖ Collaborative skills, innovative thinking skills.
4. ✖ Independent learning skills, self-assessment and communication skills.

Question Number : 197 Question Id : 1626531824 Question Type : MCQ Option Shuffling : Yes Display Question Number : Yes  
Single Line Question Option : No Option Orientation : Vertical  
Correct Marks : 1 Wrong Marks : 0.25

स्कूल प्रबंधन के अपने काम के एक हिस्से के रूप में एक शिक्षक को सबसे महत्वपूर्ण कौन सा कौशल आवश्यक है?

Options :

1. ✖ तार्किक सोच, संचार और योजना कौशल।
2. ✔ स्वतंत्र सोच कौशल, आत्म-प्रबंधन कौशल, सहयोगात्मक कौशल और पारस्परिक कौशल।
3. ✖ सहयोगात्मक कौशल, अभिनव सोच कौशल।
4. ✖ स्वतंत्र रूप से सीखने का कौशल, आत्म मूल्यांकन और संचार कौशल।

Question Number : 198 Question Id : 1626531825 Question Type : MCQ Option Shuffling : Yes Display Question Number : Yes  
Single Line Question Option : No Option Orientation : Vertical

Correct Marks : 1 Wrong Marks : 0.25

Teachers play an important role in educating elementary school education which is directed to the all-round development of the human personality in specific and to \_\_\_\_\_ in general.

Options :

1. ✖ achieve educational aims and objectives
2. ✖ promote effective learning and enable teachers to concentrate on their professional tasks
3. ✖ get sense of personal and corporate responsibility for education
4. ✔ the spiritual, moral, social, cultural and economic progress of the community

Question Number : 198 Question Id : 1626531825 Question Type : MCQ Option Shuffling : Yes Display Question Number : Yes  
Single Line Question Option : No Option Orientation : Vertical

Correct Marks : 1 Wrong Marks : 0.25

शिक्षक प्राथमिक स्कूल शिक्षा को शिक्षित करने में एक महत्वपूर्ण भूमिका निभाते हैं जो मानव व्यक्तित्व के समग्र विकास और सामान्य रूप से \_\_\_\_\_ के लिए निर्देशित की जाती है।

Options :

1. ✖ शैक्षिक लक्ष्यों और उद्देश्यों को प्राप्त करना
2. ✖ प्रभावी सीखने को बढ़ावा देना और शिक्षकों को अपने व्यावसायिक कार्यों पर ध्यान केंद्रित करने में सक्षम बनाना
3. ✖ शिक्षा के लिए व्यक्तिगत और कॉर्पोरेट जिम्मेदारी की भावना प्राप्त करना

4. ✓ समुदाय की आध्यात्मिक, नैतिक, सामाजिक, सांस्कृतिक और आर्थिक प्रगति

Question Number : 199 Question Id : 1626531826 Question Type : MCQ Option Shuffling : Yes Display Question Number : Yes  
Single Line Question Option : No Option Orientation : Vertical

Correct Marks : 1 Wrong Marks : 0.25

Lack of time, non-cooperation from school and discomfort in communication with school are the major obstacles in \_\_\_\_\_ in school.

Options :

1. ✗ participation of teachers
2. ✓ parent engagement
3. ✗ functioning of teachers
4. ✗ parent's guidance

Question Number : 199 Question Id : 1626531826 Question Type : MCQ Option Shuffling : Yes Display Question Number : Yes  
Single Line Question Option : No Option Orientation : Vertical

Correct Marks : 1 Wrong Marks : 0.25

समय की कमी, स्कूल से असहयोग और स्कूल के साथ संचार में असुविधा स्कूल में \_\_\_\_\_ में प्रमुख बाधाएं हैं।

Options :

1. ✗ शिक्षकों की भागीदारी
2. ✓ अभिभावक जुड़ाव
3. ✗ शिक्षकों का कार्य
4. ✗ अभिभावक का मार्गदर्शन

Question Number : 200 Question Id : 1626531827 Question Type : MCQ Option Shuffling : Yes Display Question Number : Yes  
Single Line Question Option : No Option Orientation : Vertical

Correct Marks : 1 Wrong Marks : 0.25

Which of the following statements is NOT True?

Options :

1. ✗  
Though education is clearly an asset to the individual, it also benefits families and serves the common good.
2. ✗  
Education is in everyone's self-interest to insure that all children receive a quality education.

3. ✓ Student learning is the sole responsibility of educators.

4. ✗ None of the given options.

Question Number : 200 Question Id : 1626531827 Question Type : MCQ Option Shuffling : Yes Display Question Number : Yes  
Single Line Question Option : No Option Orientation : Vertical

Correct Marks : 1 Wrong Marks : 0.25

निम्नलिखित कथनों में से कौन सा सत्य नहीं है?

Options :

1. ✗

हालांकि शिक्षा स्पष्ट रूप से व्यक्ति के लिए एक संपत्ति है, यह परिवारों को भी लाभ देती है और आम सेवा प्रदान करती है।

2. ✗

यह सुनिश्चित करने के लिए कि सभी बच्चों को गुणवत्तापूर्ण शिक्षा मिले, शिक्षा हर किसी के स्व-हित में है।

3. ✓ छात्र का सीखना शिक्षकों की एकमात्र ज़िम्मेदारी है।

4. ✗ इनमें से कोई भी नहीं।